



بارم	نام و نام خانوادگی: نیما آبسواران کلاس: ۹-۱ شماره صندلی: ۱	امتحان درس مطالعات اجتماعی پایه نهم مدرسه هیئت امنایی فرهنگیان متوسطه اول وقت ۶۰ دقیقه تاریخ امتحان ۱۴۰۱/۱۰/۲۴	ردیف
۳/۵		<p>۱. فصل اول</p> <p>الف. مریخ از سیاره های بیرونی منظومه خورشیدی هست؟ صحیح غلط</p> <p>ب. فاصله هر مکان با مدار استوا بر حسب درجه.....است</p> <p>ج. بر حسب مختصات جغرافیایی ۱۵ W گزیننه صحیح را انتخاب کنید؟</p> <p>۱. طول جغرافیایی (غربی)</p> <p>۲. عرض جغرافیایی (جنوبی)</p> <p>۳. طول جغرافیایی (شرقی)</p> <p>۴. عرض جغرافیایی (شمالی)</p> <p>د. انقلاب زمستانی را توضیح دهید؟</p> <p>و. دلایل پیدایش فصل های مختلف را توضیح دهید؟</p>	۱
۳/۵		<p>فصل دوم</p> <p>الف. گاز های کره زمین شامل کدام از ارکان چهره زمین هست؟</p> <p>۱. بیوسفر</p> <p>۲. لیتوسفر</p> <p>۳. هیدروسفر</p> <p>۴. اتمسفر</p> <p>ب. دره های گرینلند V «شکل هست؟ صحیح. غلط.</p> <p>ج. مهم ترین مناطق صید ماهی جهان.....است.</p> <p>د. بیشتر تغییرات آب و هوا در کدام لایه از جو اتفاق می افتد؟</p> <p>و. سه منطقه مهم آب و هوای در نتیجه زوایه نامساوی خورشید را نام ببرید؟</p>	۲
۳/۵		<p>فصل سوم</p> <p>الف. عناصر.....و.....از مهمترین عناصر آب و هوا بر نوع و میزان پوشش گیاهی هست.</p> <p>ب. ساوان بین کدام زیست بوم ها قرار دارد؟</p> <p>ج. راهکارهای مهم در استفاده صحیح از جنگل های استوایی را نام ببرید؟</p> <p>د. این زیست بوم از نظر تنوع جانوری غنی هست و در طول سال هوا گرم هست؟</p>	۳




بارم	نام و نام خانوادگی: امیرحسین آبشوری کلاس: ۹-۱ شماره صندلی: ۲	امتحان درس مطالعات اجتماعی پایه نهم مدرسه هیئت امنایی فرهنگیان متوسطه اول وقت ۶۰ دقیقه تاریخ امتحان ۱۴۰۱/۱۰/۲۴	ردیف
۳/۵		<p>۱. فصل اول</p> <p>الف. مریخ از سیاره های بیرونی منظومه خورشیدی هست؟ صحیح غلط</p> <p>ب. فاصله هر مکان با مدار استوا بر حسب درجه.....است</p> <p>ج. بر حسب مختصات جغرافیایی ۱۵ W گزیننه صحیح را انتخاب کنید؟</p> <p>۱. طول جغرافیایی (غربی)</p> <p>۲. عرض جغرافیایی (جنوبی)</p> <p>۳. طول جغرافیایی (شرقی)</p> <p>۴. عرض جغرافیایی (شمالی)</p> <p>د. انقلاب زمستانی را توضیح دهید؟</p> <p>و. دلایل پیدایش فصل های مختلف را توضیح دهید؟</p>	۱
۳/۵		<p>فصل دوم</p> <p>الف. گاز های کره زمین شامل کدام از ارکان چهره زمین هست؟</p> <p>۱. بیوسفر</p> <p>۲. لیتوسفر</p> <p>۳. هیدروسفر</p> <p>۴. اتمسفر</p> <p>ب. دره های گرینلند V «شکل هست؟ صحیح. غلط.</p> <p>ج. مهم ترین مناطق صید ماهی جهان.....است.</p> <p>د. بیشتر تغییرات آب و هوا در کدام لایه از جو اتفاق می افتد؟</p> <p>و. سه منطقه مهم آب و هوای در نتیجه زوایه نامساوی خورشید را نام ببرید؟</p>	۲
۳/۵		<p>فصل سوم</p> <p>الف. عناصر.....و.....از مهمترین عناصر آب و هوا بر نوع و میزان پوشش گیاهی هست.</p> <p>ب. ساوان بین کدام زیست بوم ها قرار دارد؟</p> <p>ج. راهکارهای مهم در استفاده صحیح از جنگل های استوایی را نام ببرید؟</p> <p>د. این زیست بوم از نظر تنوع جانوری غنی هست و در طول سال هوا گرم هست؟</p>	۳




بارم	نام و نام خانوادگی: امید آبین کلاس: ۹-۱ شماره صندلی: ۳	امتحان درس مطالعات اجتماعی پایه نهم مدرسه هیئت امنایی فرهنگیان متوسطه اول وقت ۶۰ دقیقه تاریخ امتحان ۱۴۰۱/۱۰/۲۴	ردیف
۳/۵		<p>۱. فصل اول</p> <p>الف. مریخ از سیاره های بیرونی منظومه خورشیدی هست؟ صحیح غلط</p> <p>ب. فاصله هر مکان با مدار استوا بر حسب درجه.....است</p> <p>ج. بر حسب مختصات جغرافیایی ۱۵ W گزینه صحیح را انتخاب کنید؟</p> <p>۱. طول جغرافیایی (غربی)</p> <p>۲. عرض جغرافیایی (جنوبی)</p> <p>۳. طول جغرافیایی (شرقی)</p> <p>۴. عرض جغرافیایی (شمالی)</p> <p>د. انقلاب زمستانی را توضیح دهید؟</p> <p>و. دلایل پیدایش فصل های مختلف را توضیح دهید؟</p>	۱
۳/۵		<p>فصل دوم</p> <p>الف. گاز های کره زمین شامل کدام از ارکان چهره زمین هست؟</p> <p>۱. بیوسفر</p> <p>۲. لیتوسفر</p> <p>۳. هیدروسفر</p> <p>۴. اتمسفر</p> <p>ب. دره های گرینلند V «شکل هست؟ صحیح. غلط.</p> <p>ج. مهم ترین مناطق صید ماهی جهان.....است.</p> <p>د. بیشتر تغییرات آب و هوا در کدام لایه از جو اتفاق می افتد؟</p> <p>و. سه منطقه مهم آب و هوای در نتیجه زوایه نامساوی خورشید را نام ببرید؟</p>	۲
۳/۵		<p>فصل سوم</p> <p>الف. عناصر.....و.....از مهمترین عناصر آب و هوا بر نوع و میزان پوشش گیاهی هست.</p> <p>ب. ساوان بین کدام زیست بوم ها قرار دارد؟</p> <p>ج. راهکارهای مهم در استفاده صحیح از جنگل های استوایی را نام ببرید؟</p> <p>د. این زیست بوم از نظر تنوع جانوری غنی هست و در طول سال هوا گرم هست؟</p>	۳



بارم	نام و نام خانوادگی: عارف آذرپندار کلاس: ۹-۱ شماره صندلی: ۴	امتحان درس مطالعات اجتماعی پایه نهم مدرسه هیئت امنایی فرهنگیان متوسطه اول وقت ۶۰ دقیقه تاریخ امتحان ۱۴۰۱/۱۰/۲۴	ردیف
۳/۵		<p>۱. فصل اول</p> <p>الف. مریخ از سیاره های بیرونی منظومه خورشیدی هست؟ صحیح غلط</p> <p>ب. فاصله هر مکان با مدار استوا بر حسب درجه.....است</p> <p>ج. بر حسب مختصات جغرافیایی ۱۵ W گزینه صحیح را انتخاب کنید؟</p> <p>۱. طول جغرافیایی (غربی)</p> <p>۲. عرض جغرافیایی (جنوبی)</p> <p>۳. طول جغرافیایی (شرقی)</p> <p>۴. عرض جغرافیایی (شمالی)</p> <p>د. انقلاب زمستانی را توضیح دهید؟</p> <p>و. دلایل پیدایش فصل های مختلف را توضیح دهید؟</p>	۱
۳/۵		<p>فصل دوم</p> <p>الف. گاز های کره زمین شامل کدام از ارکان چهره زمین هست؟</p> <p>۱. بیوسفر</p> <p>۲. لیتوسفر</p> <p>۳. هیدروسفر</p> <p>۴. اتمسفر</p> <p>ب. دره های گرینلند V «شکل هست؟ صحیح. غلط.</p> <p>ج. مهم ترین مناطق صید ماهی جهان.....است.</p> <p>د. بیشتر تغییرات آب و هوا در کدام لایه از جو اتفاق می افتد؟</p> <p>و. سه منطقه مهم آب و هوای در نتیجه زوایه نامساوی خورشید را نام ببرید؟</p>	۲
۳/۵		<p>فصل سوم</p> <p>الف. عناصر.....و.....از مهمترین عناصر آب و هوا بر نوع و میزان پوشش گیاهی هست.</p> <p>ب. ساوان بین کدام زیست بوم ها قرار دارد؟</p> <p>ج. راهکارهای مهم در استفاده صحیح از جنگل های استوایی را نام ببرید؟</p> <p>د. این زیست بوم از نظر تنوع جانوری غنی هست و در طول سال هوا گرم هست؟</p>	۳




بارم	نام و نام خانوادگی: ابوالفضل آذرپیوند کلاس: ۹-۱ شماره صندلی: ۵	امتحان درس مطالعات اجتماعی پایه نهم مدرسه هیئت امنایی فرهنگیان متوسطه اول وقت ۶۰ دقیقه تاریخ امتحان ۱۴۰۱/۱۰/۲۴	ردیف
۳/۵		<p>۱. فصل اول</p> <p>الف. مریخ از سیاره های بیرونی منظومه خورشیدی هست؟ صحیح غلط</p> <p>ب. فاصله هر مکان با مدار استوا بر حسب درجه.....است</p> <p>ج. بر حسب مختصات جغرافیایی ۱۵ W گزیننه صحیح را انتخاب کنید؟</p> <p>۱. طول جغرافیایی (غربی)</p> <p>۲. عرض جغرافیایی (جنوبی)</p> <p>۳. طول جغرافیایی (شرقی)</p> <p>۴. عرض جغرافیایی (شمالی)</p> <p>د. انقلاب زمستانی را توضیح دهید؟</p> <p>و. دلایل پیدایش فصل های مختلف را توضیح دهید؟</p>	۱
۳/۵		<p>فصل دوم</p> <p>الف. گاز های کره زمین شامل کدام از ارکان چهره زمین هست؟</p> <p>۱. بیوسفر</p> <p>۲. لیتوسفر</p> <p>۳. هیدروسفر</p> <p>۴. اتمسفر</p> <p>ب. دره های گرینلند V «شکل هست؟ صحیح. غلط.</p> <p>ج. مهم ترین مناطق صید ماهی جهان.....است.</p> <p>د. بیشتر تغییرات آب و هوا در کدام لایه از جو اتفاق می افتد؟</p> <p>و. سه منطقه مهم آب و هوای در نتیجه زوایه نامساوی خورشید را نام ببرید؟</p>	۲
۳/۵		<p>فصل سوم</p> <p>الف. عناصر.....و.....از مهمترین عناصر آب و هوا بر نوع و میزان پوشش گیاهی هست.</p> <p>ب. ساوان بین کدام زیست بوم ها قرار دارد؟</p> <p>ج. راهکارهای مهم در استفاده صحیح از جنگل های استوایی را نام ببرید؟</p> <p>د. این زیست بوم از نظر تنوع جانوری غنی هست و در طول سال هوا گرم هست؟</p>	۳




بارم	نام و نام خانوادگی: حسین آراسته کلاس: ۹-۱ شماره صندلی: ۶	امتحان درس مطالعات اجتماعی پایه نهم مدرسه هیئت امنایی فرهنگیان متوسطه اول وقت ۶۰ دقیقه تاریخ امتحان ۱۴۰۱/۱۰/۲۴	ردیف
۳/۵		<p>۱. فصل اول</p> <p>الف. مریخ از سیاره های بیرونی منظومه خورشیدی هست؟ صحیح غلط</p> <p>ب. فاصله هر مکان با مدار استوا بر حسب درجه.....است</p> <p>ج. بر حسب مختصات جغرافیایی ۱۵ W گزیننه صحیح را انتخاب کنید؟</p> <p>۱. طول جغرافیایی (غربی)</p> <p>۲. عرض جغرافیایی (جنوبی)</p> <p>۳. طول جغرافیایی (شرقی)</p> <p>۴. عرض جغرافیایی (شمالی)</p> <p>د. انقلاب زمستانی را توضیح دهید؟</p> <p>و. دلایل پیدایش فصل های مختلف را توضیح دهید؟</p>	۱
۳/۵		<p>فصل دوم</p> <p>الف. گاز های کره زمین شامل کدام از ارکان چهره زمین هست؟</p> <p>۱. بیوسفر</p> <p>۲. لیتوسفر</p> <p>۳. هیدروسفر</p> <p>۴. اتمسفر</p> <p>ب. دره های گرینلند V «شکل هست؟ صحیح. غلط.</p> <p>ج. مهم ترین مناطق صید ماهی جهان.....است.</p> <p>د. بیشتر تغییرات آب و هوا در کدام لایه از جو اتفاق می افتد؟</p> <p>و. سه منطقه مهم آب و هوای در نتیجه زوایه نامساوی خورشید را نام ببرید؟</p>	۲
۳/۵		<p>فصل سوم</p> <p>الف. عناصر.....و.....از مهمترین عناصر آب و هوا بر نوع و میزان پوشش گیاهی هست.</p> <p>ب. ساوان بین کدام زیست بوم ها قرار دارد؟</p> <p>ج. راهکارهای مهم در استفاده صحیح از جنگل های استوایی را نام ببرید؟</p> <p>د. این زیست بوم از نظر تنوع جانوری غنی هست و در طول سال هوا گرم هست؟</p>	۳




بارم	نام و نام خانوادگی: امیرعلی آروین پور کلاس: ۹-۱ شماره صندلی: ۷	امتحان درس مطالعات اجتماعی پایه نهم مدرسه هیئت امنایی فرهنگیان متوسطه اول وقت ۶۰ دقیقه تاریخ امتحان ۱۴۰۱/۱۰/۲۴	ردیف
۳/۵		<p>۱. فصل اول</p> <p>الف. مریخ از سیاره های بیرونی منظومه خورشیدی هست؟ صحیح غلط</p> <p>ب. فاصله هر مکان با مدار استوا بر حسب درجه.....است</p> <p>ج. بر حسب مختصات جغرافیایی ۱۵ W گزیننه صحیح را انتخاب کنید؟</p> <p>۱. طول جغرافیایی (غربی)</p> <p>۲. عرض جغرافیایی (جنوبی)</p> <p>۳. طول جغرافیایی (شرقی)</p> <p>۴. عرض جغرافیایی (شمالی)</p> <p>د. انقلاب زمستانی را توضیح دهید؟</p> <p>و. دلایل پیدایش فصل های مختلف را توضیح دهید؟</p>	۱
۳/۵		<p>فصل دوم</p> <p>الف. گاز های کره زمین شامل کدام از ارکان چهره زمین هست؟</p> <p>۱. بیوسفر</p> <p>۲. لیتوسفر</p> <p>۳. هیدروسفر</p> <p>۴. اتمسفر</p> <p>ب. دره های گرینلند V «شکل هست؟ صحیح. غلط.</p> <p>ج. مهم ترین مناطق صید ماهی جهان.....است.</p> <p>د. بیشتر تغییرات آب و هوا در کدام لایه از جو اتفاق می افتد؟</p> <p>و. سه منطقه مهم آب و هوای در نتیجه زوایه نامساوی خورشید را نام ببرید؟</p>	۲
۳/۵		<p>فصل سوم</p> <p>الف. عناصر.....و.....از مهمترین عناصر آب و هوا بر نوع و میزان پوشش گیاهی هست.</p> <p>ب. ساوان بین کدام زیست بوم ها قرار دارد؟</p> <p>ج. راهکارهای مهم در استفاده صحیح از جنگل های استوایی را نام ببرید؟</p> <p>د. این زیست بوم از نظر تنوع جانوری غنی هست و در طول سال هوا گرم هست؟</p>	۳



بارم	نام و نام خانوادگی: امیرمحمد آقاپورحبیب آباد کلاس: ۹-۱ شماره صندلی: ۸	امتحان درس مطالعات اجتماعی پایه نهم مدرسه هیئت امنایی فرهنگیان متوسطه اول وقت ۶۰ دقیقه تاریخ امتحان ۱۴۰۱/۱۰/۲۴	ردیف
۳/۵		<p>۱. فصل اول</p> <p>الف. مریخ از سیاره های بیرونی منظومه خورشیدی هست؟ صحیح غلط</p> <p>ب. فاصله هر مکان با مدار استوا بر حسب درجه.....است</p> <p>ج. بر حسب مختصات جغرافیایی ۱۵ W گزینه صحیح را انتخاب کنید؟</p> <p>۱. طول جغرافیایی (غربی)</p> <p>۲. عرض جغرافیایی (جنوبی)</p> <p>۳. طول جغرافیایی (شرقی)</p> <p>۴. عرض جغرافیایی (شمالی)</p> <p>د. انقلاب زمستانی را توضیح دهید؟</p> <p>و. دلایل پیدایش فصل های مختلف را توضیح دهید؟</p>	۱
۳/۵		<p>فصل دوم</p> <p>الف. گاز های کره زمین شامل کدام از ارکان چهره زمین هست؟</p> <p>۱. بیوسفر</p> <p>۲. لیتوسفر</p> <p>۳. هیدروسفر</p> <p>۴. اتمسفر</p> <p>ب. دره های گرینلند V «شکل هست؟ صحیح. غلط.</p> <p>ج. مهم ترین مناطق صید ماهی جهان.....است.</p> <p>د. بیشتر تغییرات آب و هوا در کدام لایه از جو اتفاق می افتد؟</p> <p>و. سه منطقه مهم آب و هوای در نتیجه زوایه نامساوی خورشید را نام ببرید؟</p>	۲
۳/۵		<p>فصل سوم</p> <p>الف. عناصر.....و.....از مهمترین عناصر آب و هوا بر نوع و میزان پوشش گیاهی هست.</p> <p>ب. ساوان بین کدام زیست بوم ها قرار دارد؟</p> <p>ج. راهکارهای مهم در استفاده صحیح از جنگل های استوایی را نام ببرید؟</p> <p>د. این زیست بوم از نظر تنوع جانوری غنی هست و در طول سال هوا گرم هست؟</p>	۳




بارم	نام و نام خانوادگی: طاها ابراهیمی کوخدان کلاس: ۹-۱ شماره صندلی: ۹	امتحان درس مطالعات اجتماعی پایه نهم مدرسه هیئت امنایی فرهنگیان متوسطه اول وقت ۶۰ دقیقه تاریخ امتحان ۱۴۰۱/۱۰/۲۴	ردیف
۳/۵		<p>۱. فصل اول</p> <p>الف. مریخ از سیاره های بیرونی منظومه خورشیدی هست؟ صحیح غلط</p> <p>ب. فاصله هر مکان با مدار استوا بر حسب درجه.....است</p> <p>ج. بر حسب مختصات جغرافیایی ۱۵ W گزیننه صحیح را انتخاب کنید؟</p> <p>۱. طول جغرافیایی (غربی)</p> <p>۲. عرض جغرافیایی (جنوبی)</p> <p>۳. طول جغرافیایی (شرقی)</p> <p>۴. عرض جغرافیایی (شمالی)</p> <p>د. انقلاب زمستانی را توضیح دهید؟</p> <p>و. دلایل پیدایش فصل های مختلف را توضیح دهید؟</p>	۱
۳/۵		<p>فصل دوم</p> <p>الف. گاز های کره زمین شامل کدام از ارکان چهره زمین هست؟</p> <p>۱. بیوسفر</p> <p>۲. لیتوسفر</p> <p>۳. هیدروسفر</p> <p>۴. اتمسفر</p> <p>ب. دره های گرینلند V «شکل هست؟ صحیح. غلط.</p> <p>ج. مهم ترین مناطق صید ماهی جهان.....است.</p> <p>د. بیشتر تغییرات آب و هوا در کدام لایه از جو اتفاق می افتد؟</p> <p>و. سه منطقه مهم آب و هوای در نتیجه زوایه نامساوی خورشید را نام ببرید؟</p>	۲
۳/۵		<p>فصل سوم</p> <p>الف. عناصر.....و.....از مهمترین عناصر آب و هوا بر نوع و میزان پوشش گیاهی هست.</p> <p>ب. ساوان بین کدام زیست بوم ها قرار دارد؟</p> <p>ج. راهکارهای مهم در استفاده صحیح از جنگل های استوایی را نام ببرید؟</p> <p>د. این زیست بوم از نظر تنوع جانوری غنی هست و در طول سال هوا گرم هست؟</p>	۳




بارم	نام و نام خانوادگی: حسین احدی خواه کلاس: ۹-۱ شماره صندلی: ۱۰	امتحان درس مطالعات اجتماعی پایه نهم مدرسه هیئت امنایی فرهنگیان متوسطه اول وقت ۶۰ دقیقه تاریخ امتحان ۱۴۰۱/۱۰/۲۴	ردیف
۳/۵		<p>۱. فصل اول</p> <p>الف. مریخ از سیاره های بیرونی منظومه خورشیدی هست؟ صحیح غلط</p> <p>ب. فاصله هر مکان با مدار استوا بر حسب درجه.....است</p> <p>ج. بر حسب مختصات جغرافیایی ۱۵ W گزینه صحیح را انتخاب کنید؟</p> <p>۱. طول جغرافیایی (غربی)</p> <p>۲. عرض جغرافیایی (جنوبی)</p> <p>۳. طول جغرافیایی (شرقی)</p> <p>۴. عرض جغرافیایی (شمالی)</p> <p>د. انقلاب زمستانی را توضیح دهید؟</p> <p>و. دلایل پیدایش فصل های مختلف را توضیح دهید؟</p>	۱
۳/۵		<p>فصل دوم</p> <p>الف. گاز های کره زمین شامل کدام از ارکان چهره زمین هست؟</p> <p>۱. بیوسفر</p> <p>۲. لیتوسفر</p> <p>۳. هیدروسفر</p> <p>۴. اتمسفر</p> <p>ب. دره های گرینلند V «شکل هست؟ صحیح. غلط.</p> <p>ج. مهم ترین مناطق صید ماهی جهان.....است.</p> <p>د. بیشتر تغییرات آب و هوا در کدام لایه از جو اتفاق می افتد؟</p> <p>و. سه منطقه مهم آب و هوای در نتیجه زوایه نامساوی خورشید را نام ببرید؟</p>	۲
۳/۵		<p>فصل سوم</p> <p>الف. عناصر.....و.....از مهمترین عناصر آب و هوا بر نوع و میزان پوشش گیاهی هست.</p> <p>ب. ساوان بین کدام زیست بوم ها قرار دارد؟</p> <p>ج. راهکارهای مهم در استفاده صحیح از جنگل های استوایی را نام ببرید؟</p> <p>د. این زیست بوم از نظر تنوع جانوری غنی هست و در طول سال هوا گرم هست؟</p>	۳




بارم	نام و نام خانوادگی: مانی احمدی منصورآباد کلاس: ۹-۱ شماره صندلی: ۱۱	امتحان درس مطالعات اجتماعی پایه نهم مدرسه هیئت امنایی فرهنگیان متوسطه اول وقت ۶۰ دقیقه تاریخ امتحان ۱۴۰۱/۱۰/۲۴	ردیف
۳/۵		<p>۱. فصل اول</p> <p>الف. مریخ از سیاره های بیرونی منظومه خورشیدی هست؟ صحیح غلط</p> <p>ب. فاصله هر مکان با مدار استوا بر حسب درجه.....است</p> <p>ج. بر حسب مختصات جغرافیایی ۱۵ W گزیننه صحیح را انتخاب کنید؟</p> <p>۱. طول جغرافیایی (غربی)</p> <p>۲. عرض جغرافیایی (جنوبی)</p> <p>۳. طول جغرافیایی (شرقی)</p> <p>۴. عرض جغرافیایی (شمالی)</p> <p>د. انقلاب زمستانی را توضیح دهید؟</p> <p>و. دلایل پیدایش فصل های مختلف را توضیح دهید؟</p>	۱
۳/۵		<p>فصل دوم</p> <p>الف. گاز های کره زمین شامل کدام از ارکان چهره زمین هست؟</p> <p>۱. بیوسفر</p> <p>۲. لیتوسفر</p> <p>۳. هیدروسفر</p> <p>۴. اتمسفر</p> <p>ب. دره های گرینلند V «شکل هست؟ صحیح. غلط.</p> <p>ج. مهم ترین مناطق صید ماهی جهان.....است.</p> <p>د. بیشتر تغییرات آب و هوا در کدام لایه از جو اتفاق می افتد؟</p> <p>و. سه منطقه مهم آب و هوای در نتیجه زوایه نامساوی خورشید را نام ببرید؟</p>	۲
۳/۵		<p>فصل سوم</p> <p>الف. عناصر.....و.....از مهمترین عناصر آب و هوا بر نوع و میزان پوشش گیاهی هست.</p> <p>ب. ساوان بین کدام زیست بوم ها قرار دارد؟</p> <p>ج. راهکارهای مهم در استفاده صحیح از جنگل های استوایی را نام ببرید؟</p> <p>د. این زیست بوم از نظر تنوع جانوری غنی هست و در طول سال هوا گرم هست؟</p>	۳




بارم	نام و نام خانوادگی: احد اسدیپور جهان آباد کلاس: ۹-۱ شماره صندلی: ۱۲	امتحان درس مطالعات اجتماعی پایه نهم مدرسه هیئت امنایی فرهنگیان متوسطه اول وقت ۶۰ دقیقه تاریخ امتحان ۱۴۰۱/۱۰/۲۴	ردیف
۳/۵		<p>۱. فصل اول</p> <p>الف. مریخ از سیاره های بیرونی منظومه خورشیدی هست؟ صحیح غلط</p> <p>ب. فاصله هر مکان با مدار استوا بر حسب درجه.....است</p> <p>ج. بر حسب مختصات جغرافیایی ۱۵ W گزیننه صحیح را انتخاب کنید؟</p> <p>۱. طول جغرافیایی (غربی)</p> <p>۲. عرض جغرافیایی (جنوبی)</p> <p>۳. طول جغرافیایی (شرقی)</p> <p>۴. عرض جغرافیایی (شمالی)</p> <p>د. انقلاب زمستانی را توضیح دهید؟</p> <p>و. دلایل پیدایش فصل های مختلف را توضیح دهید؟</p>	۱
۳/۵		<p>فصل دوم</p> <p>الف. گاز های کره زمین شامل کدام از ارکان چهره زمین هست؟</p> <p>۱. بیوسفر</p> <p>۲. لیتوسفر</p> <p>۳. هیدروسفر</p> <p>۴. اتمسفر</p> <p>ب. دره های گرینلند V «شکل هست؟ صحیح. غلط.</p> <p>ج. مهم ترین مناطق صید ماهی جهان.....است.</p> <p>د. بیشتر تغییرات آب و هوا در کدام لایه از جو اتفاق می افتد؟</p> <p>و. سه منطقه مهم آب و هوای در نتیجه زوایه نامساوی خورشید را نام ببرید؟</p>	۲
۳/۵		<p>فصل سوم</p> <p>الف. عناصر.....و.....از مهمترین عناصر آب و هوا بر نوع و میزان پوشش گیاهی هست.</p> <p>ب. ساوان بین کدام زیست بوم ها قرار دارد؟</p> <p>ج. راهکارهای مهم در استفاده صحیح از جنگل های استوایی را نام ببرید؟</p> <p>د. این زیست بوم از نظر تنوع جانوری غنی هست و در طول سال هوا گرم هست؟</p>	۳




بارم	نام و نام خانوادگی: امیرمحمد اسفندیاری زاده کلاس: ۹-۱ شماره صندلی: ۱۳	امتحان درس مطالعات اجتماعی پایه نهم مدرسه هیئت امنایی فرهنگیان متوسطه اول وقت ۶۰ دقیقه تاریخ امتحان ۱۴۰۱/۱۰/۲۴	ردیف
۳/۵		<p>۱. فصل اول</p> <p>الف. مریخ از سیاره های بیرونی منظومه خورشیدی هست؟ صحیح غلط</p> <p>ب. فاصله هر مکان با مدار استوا بر حسب درجه.....است</p> <p>ج. بر حسب مختصات جغرافیایی ۱۵ W گزینه صحیح را انتخاب کنید؟</p> <p>۱. طول جغرافیایی (غربی)</p> <p>۲. عرض جغرافیایی (جنوبی)</p> <p>۳. طول جغرافیایی (شرقی)</p> <p>۴. عرض جغرافیایی (شمالی)</p> <p>د. انقلاب زمستانی را توضیح دهید؟</p> <p>و. دلایل پیدایش فصل های مختلف را توضیح دهید؟</p>	۱
۳/۵		<p>فصل دوم</p> <p>الف. گاز های کره زمین شامل کدام از ارکان چهره زمین هست؟</p> <p>۱. بیوسفر</p> <p>۲. لیتوسفر</p> <p>۳. هیدروسفر</p> <p>۴. اتمسفر</p> <p>ب. دره های گرینلند V «شکل هست؟ صحیح. غلط.</p> <p>ج. مهم ترین مناطق صید ماهی جهان.....است.</p> <p>د. بیشتر تغییرات آب و هوا در کدام لایه از جو اتفاق می افتد؟</p> <p>و. سه منطقه مهم آب و هوای در نتیجه زوایه نامساوی خورشید را نام ببرید؟</p>	۲
۳/۵		<p>فصل سوم</p> <p>الف. عناصر.....و.....از مهمترین عناصر آب و هوا بر نوع و میزان پوشش گیاهی هست.</p> <p>ب. ساوان بین کدام زیست بوم ها قرار دارد؟</p> <p>ج. راهکارهای مهم در استفاده صحیح از جنگل های استوایی را نام ببرید؟</p> <p>د. این زیست بوم از نظر تنوع جانوری غنی هست و در طول سال هوا گرم هست؟</p>	۳



بارم	نام و نام خانوادگی: میلاد اعتمادنسب کلاس: ۹-۱ شماره صندلی: ۱۴	امتحان درس مطالعات اجتماعی پایه نهم مدرسه هیئت امنایی فرهنگیان متوسطه اول وقت ۶۰ دقیقه تاریخ امتحان ۱۴۰۱/۱۰/۲۴	ردیف
۳/۵		<p>۱. فصل اول</p> <p>الف. مریخ از سیاره های بیرونی منظومه خورشیدی هست؟ صحیح غلط</p> <p>ب. فاصله هر مکان با مدار استوا بر حسب درجه.....است</p> <p>ج. بر حسب مختصات جغرافیایی ۱۵ W گزینه صحیح را انتخاب کنید؟</p> <p>۱. طول جغرافیایی (غربی)</p> <p>۲. عرض جغرافیایی (جنوبی)</p> <p>۳. طول جغرافیایی (شرقی)</p> <p>۴. عرض جغرافیایی (شمالی)</p> <p>د. انقلاب زمستانی را توضیح دهید؟</p> <p>و. دلایل پیدایش فصل های مختلف را توضیح دهید؟</p>	۱
۳/۵		<p>فصل دوم</p> <p>الف. گاز های کره زمین شامل کدام از ارکان چهره زمین هست؟</p> <p>۱. بیوسفر</p> <p>۲. لیتوسفر</p> <p>۳. هیدروسفر</p> <p>۴. اتمسفر</p> <p>ب. دره های گرینلند V «شکل هست؟ صحیح. غلط.</p> <p>ج. مهم ترین مناطق صید ماهی جهان.....است.</p> <p>د. بیشتر تغییرات آب و هوا در کدام لایه از جو اتفاق می افتد؟</p> <p>و. سه منطقه مهم آب و هوای در نتیجه زوایه نامساوی خورشید را نام ببرید؟</p>	۲
۳/۵		<p>فصل سوم</p> <p>الف. عناصر.....و.....از مهمترین عناصر آب و هوا بر نوع و میزان پوشش گیاهی هست.</p> <p>ب. ساوان بین کدام زیست بوم ها قرار دارد؟</p> <p>ج. راهکارهای مهم در استفاده صحیح از جنگل های استوایی را نام ببرید؟</p> <p>د. این زیست بوم از نظر تنوع جانوری غنی هست و در طول سال هوا گرم هست؟</p>	۳




بارم	نام و نام خانوادگی: رضا افتخارزاده علی کلاس: ۹-۱ شماره صندلی: ۱۵	امتحان درس مطالعات اجتماعی پایه نهم مدرسه هیئت امنایی فرهنگیان متوسطه اول وقت ۶۰ دقیقه تاریخ امتحان ۱۴۰۱/۱۰/۲۴	ردیف
۳/۵		<p>۱. فصل اول</p> <p>الف. مریخ از سیاره های بیرونی منظومه خورشیدی هست؟ صحیح غلط</p> <p>ب. فاصله هر مکان با مدار استوا بر حسب درجه.....است</p> <p>ج. بر حسب مختصات جغرافیایی ۱۵ W گزینه صحیح را انتخاب کنید؟</p> <p>۱. طول جغرافیایی (غربی)</p> <p>۲. عرض جغرافیایی (جنوبی)</p> <p>۳. طول جغرافیایی (شرقی)</p> <p>۴. عرض جغرافیایی (شمالی)</p> <p>د. انقلاب زمستانی را توضیح دهید؟</p> <p>و. دلایل پیدایش فصل های مختلف را توضیح دهید؟</p>	۱
۳/۵		<p>فصل دوم</p> <p>الف. گاز های کره زمین شامل کدام از ارکان چهره زمین هست؟</p> <p>۱. بیوسفر</p> <p>۲. لیتوسفر</p> <p>۳. هیدروسفر</p> <p>۴. اتمسفر</p> <p>ب. دره های گرینلند V «شکل هست؟ صحیح. غلط.</p> <p>ج. مهم ترین مناطق صید ماهی جهان.....است.</p> <p>د. بیشتر تغییرات آب و هوا در کدام لایه از جو اتفاق می افتد؟</p> <p>و. سه منطقه مهم آب و هوای در نتیجه زوایه نامساوی خورشید را نام ببرید؟</p>	۲
۳/۵		<p>فصل سوم</p> <p>الف. عناصر.....و.....از مهمترین عناصر آب و هوا بر نوع و میزان پوشش گیاهی هست.</p> <p>ب. ساوان بین کدام زیست بوم ها قرار دارد؟</p> <p>ج. راهکارهای مهم در استفاده صحیح از جنگل های استوایی را نام ببرید؟</p> <p>د. این زیست بوم از نظر تنوع جانوری غنی هست و در طول سال هوا گرم هست؟</p>	۳




بارم	نام و نام خانوادگی: سیدمهدی افشین کلاس: ۹-۱ شماره صندلی: ۱۶	امتحان درس مطالعات اجتماعی پایه نهم مدرسه هیئت امنایی فرهنگیان متوسطه اول وقت ۶۰ دقیقه تاریخ امتحان ۱۴۰۱/۱۰/۲۴	ردیف
۳/۵		<p>۱. فصل اول</p> <p>الف. مریخ از سیاره های بیرونی منظومه خورشیدی هست؟ صحیح غلط</p> <p>ب. فاصله هر مکان با مدار استوا بر حسب درجه.....است</p> <p>ج. بر حسب مختصات جغرافیایی ۱۵ W گزینه صحیح را انتخاب کنید؟</p> <p>۱. طول جغرافیایی (غربی)</p> <p>۲. عرض جغرافیایی (جنوبی)</p> <p>۳. طول جغرافیایی (شرقی)</p> <p>۴. عرض جغرافیایی (شمالی)</p> <p>د. انقلاب زمستانی را توضیح دهید؟</p> <p>و. دلایل پیدایش فصل های مختلف را توضیح دهید؟</p>	۱
۳/۵		<p>فصل دوم</p> <p>الف. گاز های کره زمین شامل کدام از ارکان چهره زمین هست؟</p> <p>۱. بیوسفر</p> <p>۲. لیتوسفر</p> <p>۳. هیدروسفر</p> <p>۴. اتمسفر</p> <p>ب. دره های گرینلند V «شکل هست؟ صحیح. غلط.</p> <p>ج. مهم ترین مناطق صید ماهی جهان.....است.</p> <p>د. بیشتر تغییرات آب و هوا در کدام لایه از جو اتفاق می افتد؟</p> <p>و. سه منطقه مهم آب و هوای در نتیجه زوایه نامساوی خورشید را نام ببرید؟</p>	۲
۳/۵		<p>فصل سوم</p> <p>الف. عناصر.....و.....از مهمترین عناصر آب و هوا بر نوع و میزان پوشش گیاهی هست.</p> <p>ب. ساوان بین کدام زیست بوم ها قرار دارد؟</p> <p>ج. راهکارهای مهم در استفاده صحیح از جنگل های استوایی را نام ببرید؟</p> <p>د. این زیست بوم از نظر تنوع جانوری غنی هست و در طول سال هوا گرم هست؟</p>	۳




بارم	نام و نام خانوادگی: پارسا اکبری علی آباد کلاس: ۹-۱ شماره صندلی: ۱۷	امتحان درس مطالعات اجتماعی پایه نهم مدرسه هیئت امنایی فرهنگیان متوسطه اول وقت ۶۰ دقیقه تاریخ امتحان ۱۴۰۱/۱۰/۲۴	ردیف
۳/۵		<p>۱. فصل اول</p> <p>الف. مریخ از سیاره های بیرونی منظومه خورشیدی هست؟ صحیح غلط</p> <p>ب. فاصله هر مکان با مدار استوا بر حسب درجه.....است</p> <p>ج. بر حسب مختصات جغرافیایی ۱۵ W گزیننه صحیح را انتخاب کنید؟</p> <p>۱. طول جغرافیایی (غربی)</p> <p>۲. عرض جغرافیایی (جنوبی)</p> <p>۳. طول جغرافیایی (شرقی)</p> <p>۴. عرض جغرافیایی (شمالی)</p> <p>د. انقلاب زمستانی را توضیح دهید؟</p> <p>و. دلایل پیدایش فصل های مختلف را توضیح دهید؟</p>	۱
۳/۵		<p>فصل دوم</p> <p>الف. گاز های کره زمین شامل کدام از ارکان چهره زمین هست؟</p> <p>۱. بیوسفر</p> <p>۲. لیتوسفر</p> <p>۳. هیدروسفر</p> <p>۴. اتمسفر</p> <p>ب. دره های گرینلند V «شکل هست؟ صحیح. غلط.</p> <p>ج. مهم ترین مناطق صید ماهی جهان.....است.</p> <p>د. بیشتر تغییرات آب و هوا در کدام لایه از جو اتفاق می افتد؟</p> <p>و. سه منطقه مهم آب و هوای در نتیجه زوایه نامساوی خورشید را نام ببرید؟</p>	۲
۳/۵		<p>فصل سوم</p> <p>الف. عناصر.....و.....از مهمترین عناصر آب و هوا بر نوع و میزان پوشش گیاهی هست.</p> <p>ب. ساوان بین کدام زیست بوم ها قرار دارد؟</p> <p>ج. راهکارهای مهم در استفاده صحیح از جنگل های استوایی را نام ببرید؟</p> <p>د. این زیست بوم از نظر تنوع جانوری غنی هست و در طول سال هوا گرم هست؟</p>	۳




بارم	نام و نام خانوادگی: ابوالفضل امیدی کلاس: ۹-۱ شماره صندلی: ۱۸	امتحان درس مطالعات اجتماعی پایه نهم مدرسه هیئت امنایی فرهنگیان متوسطه اول وقت ۶۰ دقیقه تاریخ امتحان ۱۴۰۱/۱۰/۲۴	ردیف
۳/۵		<p>۱. فصل اول</p> <p>الف. مریخ از سیاره های بیرونی منظومه خورشیدی هست؟ صحیح غلط</p> <p>ب. فاصله هر مکان با مدار استوا بر حسب درجه.....است</p> <p>ج. بر حسب مختصات جغرافیایی ۱۵ W گزینه صحیح را انتخاب کنید؟</p> <p>۱. طول جغرافیایی (غربی)</p> <p>۲. عرض جغرافیایی (جنوبی)</p> <p>۳. طول جغرافیایی (شرقی)</p> <p>۴. عرض جغرافیایی (شمالی)</p> <p>د. انقلاب زمستانی را توضیح دهید؟</p> <p>و. دلایل پیدایش فصل های مختلف را توضیح دهید؟</p>	۱
۳/۵		<p>فصل دوم</p> <p>الف. گاز های کره زمین شامل کدام از ارکان چهره زمین هست؟</p> <p>۱. بیوسفر</p> <p>۲. لیتوسفر</p> <p>۳. هیدروسفر</p> <p>۴. اتمسفر</p> <p>ب. دره های گرینلند V «شکل هست؟ صحیح. غلط.</p> <p>ج. مهم ترین مناطق صید ماهی جهان.....است.</p> <p>د. بیشتر تغییرات آب و هوا در کدام لایه از جو اتفاق می افتد؟</p> <p>و. سه منطقه مهم آب و هوای در نتیجه زوایه نامساوی خورشید را نام ببرید؟</p>	۲
۳/۵		<p>فصل سوم</p> <p>الف. عناصر.....و.....از مهمترین عناصر آب و هوا بر نوع و میزان پوشش گیاهی هست.</p> <p>ب. ساوان بین کدام زیست بوم ها قرار دارد؟</p> <p>ج. راهکارهای مهم در استفاده صحیح از جنگل های استوایی را نام ببرید؟</p> <p>د. این زیست بوم از نظر تنوع جانوری غنی هست و در طول سال هوا گرم هست؟</p>	۳



بارم	نام و نام خانوادگی: علی انصاری کلاس: ۹--۱ شماره صندلی: ۱۹	امتحان درس مطالعات اجتماعی پایه نهم مدرسه هیئت امنایی فرهنگیان متوسطه اول وقت ۶۰ دقیقه تاریخ امتحان ۱۴۰۱/۱۰/۲۴	ردیف
۳/۵		<p>۱. فصل اول</p> <p>الف. مریخ از سیاره های بیرونی منظومه خورشیدی هست؟ صحیح غلط</p> <p>ب. فاصله هر مکان با مدار استوا بر حسب درجه.....است</p> <p>ج. بر حسب مختصات جغرافیایی ۱۵ W گزینه صحیح را انتخاب کنید؟</p> <p>۱. طول جغرافیایی (غربی)</p> <p>۲. عرض جغرافیایی (جنوبی)</p> <p>۳. طول جغرافیایی (شرقی)</p> <p>۴. عرض جغرافیایی (شمالی)</p> <p>د. انقلاب زمستانی را توضیح دهید؟</p> <p>و. دلایل پیدایش فصل های مختلف را توضیح دهید؟</p>	۱
۳/۵		<p>فصل دوم</p> <p>الف. گاز های کره زمین شامل کدام از ارکان چهره زمین هست؟</p> <p>۱. بیوسفر</p> <p>۲. لیتوسفر</p> <p>۳. هیدروسفر</p> <p>۴. اتمسفر</p> <p>ب. دره های گرینلند V «شکل هست؟ صحیح. غلط.</p> <p>ج. مهم ترین مناطق صید ماهی جهان.....است.</p> <p>د. بیشتر تغییرات آب و هوا در کدام لایه از جو اتفاق می افتد؟</p> <p>و. سه منطقه مهم آب و هوای در نتیجه زوایه نامساوی خورشید را نام ببرید؟</p>	۲
۳/۵		<p>فصل سوم</p> <p>الف. عناصر.....و.....از مهمترین عناصر آب و هوا بر نوع و میزان پوشش گیاهی هست.</p> <p>ب. ساوان بین کدام زیست بوم ها قرار دارد؟</p> <p>ج. راهکارهای مهم در استفاده صحیح از جنگل های استوایی را نام ببرید؟</p> <p>د. این زیست بوم از نظر تنوع جانوری غنی هست و در طول سال هوا گرم هست؟</p>	۳




بارم	نام و نام خانوادگی: شایان ایلخانی پور کلاس: ۹-۱ شماره صندلی: ۲۰	امتحان درس مطالعات اجتماعی پایه نهم مدرسه هیئت امنایی فرهنگیان متوسطه اول وقت ۶۰ دقیقه تاریخ امتحان ۱۴۰۱/۱۰/۲۴	ردیف
۳/۵		<p>۱. فصل اول</p> <p>الف. مریخ از سیاره های بیرونی منظومه خورشیدی هست؟ صحیح غلط</p> <p>ب. فاصله هر مکان با مدار استوا بر حسب درجه.....است</p> <p>ج. بر حسب مختصات جغرافیایی ۱۵ W گزینه صحیح را انتخاب کنید؟</p> <p>۱. طول جغرافیایی (غربی)</p> <p>۲. عرض جغرافیایی (جنوبی)</p> <p>۳. طول جغرافیایی (شرقی)</p> <p>۴. عرض جغرافیایی (شمالی)</p> <p>د. انقلاب زمستانی را توضیح دهید؟</p> <p>و. دلایل پیدایش فصل های مختلف را توضیح دهید؟</p>	۱
۳/۵		<p>فصل دوم</p> <p>الف. گاز های کره زمین شامل کدام از ارکان چهره زمین هست؟</p> <p>۱. بیوسفر</p> <p>۲. لیتوسفر</p> <p>۳. هیدروسفر</p> <p>۴. اتمسفر</p> <p>ب. دره های گرینلند V «شکل هست؟ صحیح. غلط.</p> <p>ج. مهم ترین مناطق صید ماهی جهان.....است.</p> <p>د. بیشتر تغییرات آب و هوا در کدام لایه از جو اتفاق می افتد؟</p> <p>و. سه منطقه مهم آب و هوای در نتیجه زوایه نامساوی خورشید را نام ببرید؟</p>	۲
۳/۵		<p>فصل سوم</p> <p>الف. عناصر.....و.....از مهمترین عناصر آب و هوا بر نوع و میزان پوشش گیاهی هست.</p> <p>ب. ساوان بین کدام زیست بوم ها قرار دارد؟</p> <p>ج. راهکارهای مهم در استفاده صحیح از جنگل های استوایی را نام ببرید؟</p> <p>د. این زیست بوم از نظر تنوع جانوری غنی هست و در طول سال هوا گرم هست؟</p>	۳




بارم	نام و نام خانوادگی: رضا بارون زاده سیدعلی کلاس: ۹-۱ شماره صندلی: ۲۱	امتحان درس مطالعات اجتماعی پایه نهم مدرسه هیئت امنایی فرهنگیان متوسطه اول وقت ۶۰ دقیقه تاریخ امتحان ۱۴۰۱/۱۰/۲۴	ردیف
۳/۵		<p>۱. فصل اول</p> <p>الف. مریخ از سیاره های بیرونی منظومه خورشیدی هست؟ صحیح غلط</p> <p>ب. فاصله هر مکان با مدار استوا بر حسب درجه.....است</p> <p>ج. بر حسب مختصات جغرافیایی ۱۵ W گزیننه صحیح را انتخاب کنید؟</p> <p>۱. طول جغرافیایی (غربی)</p> <p>۲. عرض جغرافیایی (جنوبی)</p> <p>۳. طول جغرافیایی (شرقی)</p> <p>۴. عرض جغرافیایی (شمالی)</p> <p>د. انقلاب زمستانی را توضیح دهید؟</p> <p>و. دلایل پیدایش فصل های مختلف را توضیح دهید؟</p>	۱
۳/۵		<p>فصل دوم</p> <p>الف. گاز های کره زمین شامل کدام از ارکان چهره زمین هست؟</p> <p>۱. بیوسفر</p> <p>۲. لیتوسفر</p> <p>۳. هیدروسفر</p> <p>۴. اتمسفر</p> <p>ب. دره های گرینلند V «شکل هست؟ صحیح. غلط.</p> <p>ج. مهم ترین مناطق صید ماهی جهان.....است.</p> <p>د. بیشتر تغییرات آب و هوا در کدام لایه از جو اتفاق می افتد؟</p> <p>و. سه منطقه مهم آب و هوای در نتیجه زوایه نامساوی خورشید را نام ببرید؟</p>	۲
۳/۵		<p>فصل سوم</p> <p>الف. عناصر.....و.....از مهمترین عناصر آب و هوا بر نوع و میزان پوشش گیاهی هست.</p> <p>ب. ساوان بین کدام زیست بوم ها قرار دارد؟</p> <p>ج. راهکارهای مهم در استفاده صحیح از جنگل های استوایی را نام ببرید؟</p> <p>د. این زیست بوم از نظر تنوع جانوری غنی هست و در طول سال هوا گرم هست؟</p>	۳




بارم	نام و نام خانوادگی: ابوالفضل باز یار حمزه خانی کلاس: ۹-۱ شماره صندلی: ۲۲	امتحان درس مطالعات اجتماعی پایه نهم مدرسه هیئت امنایی فرهنگیان متوسطه اول وقت ۶۰ دقیقه تاریخ امتحان ۱۴۰۱/۱۰/۲۴	ردیف
۳/۵		<p>۱. فصل اول</p> <p>الف. مریخ از سیاره های بیرونی منظومه خورشیدی هست؟ صحیح غلط</p> <p>ب. فاصله هر مکان با مدار استوا بر حسب درجه.....است</p> <p>ج. بر حسب مختصات جغرافیایی ۱۵ W گزیننه صحیح را انتخاب کنید؟</p> <p>۱. طول جغرافیایی (غربی)</p> <p>۲. عرض جغرافیایی (جنوبی)</p> <p>۳. طول جغرافیایی (شرقی)</p> <p>۴. عرض جغرافیایی (شمالی)</p> <p>د. انقلاب زمستانی را توضیح دهید؟</p> <p>و. دلایل پیدایش فصل های مختلف را توضیح دهید؟</p>	۱
۳/۵		<p>فصل دوم</p> <p>الف. گاز های کره زمین شامل کدام از ارکان چهره زمین هست؟</p> <p>۱. بیوسفر</p> <p>۲. لیتوسفر</p> <p>۳. هیدروسفر</p> <p>۴. اتمسفر</p> <p>ب. دره های گرینلند V «شکل هست؟ صحیح. غلط.</p> <p>ج. مهم ترین مناطق صید ماهی جهان.....است.</p> <p>د. بیشتر تغییرات آب و هوا در کدام لایه از جو اتفاق می افتد؟</p> <p>و. سه منطقه مهم آب و هوای در نتیجه زوایه نامساوی خورشید را نام ببرید؟</p>	۲
۳/۵		<p>فصل سوم</p> <p>الف. عناصر.....و.....از مهمترین عناصر آب و هوا بر نوع و میزان پوشش گیاهی هست.</p> <p>ب. ساوان بین کدام زیست بوم ها قرار دارد؟</p> <p>ج. راهکارهای مهم در استفاده صحیح از جنگل های استوایی را نام ببرید؟</p> <p>د. این زیست بوم از نظر تنوع جانوری غنی هست و در طول سال هوا گرم هست؟</p>	۳



بارم	نام و نام خانوادگی: رضا باقری کلاس: ۹-۱ شماره صندلی: ۲۳	امتحان درس مطالعات اجتماعی پایه نهم مدرسه هیئت امنایی فرهنگیان متوسطه اول وقت ۶۰ دقیقه تاریخ امتحان ۱۴۰۱/۱۰/۲۴	ردیف
۳/۵		<p>۱. فصل اول</p> <p>الف. مریخ از سیاره های بیرونی منظومه خورشیدی هست؟ صحیح غلط</p> <p>ب. فاصله هر مکان با مدار استوا بر حسب درجه.....است</p> <p>ج. بر حسب مختصات جغرافیایی ۱۵ W گزینه صحیح را انتخاب کنید؟</p> <p>۱. طول جغرافیایی (غربی)</p> <p>۲. عرض جغرافیایی (جنوبی)</p> <p>۳. طول جغرافیایی (شرقی)</p> <p>۴. عرض جغرافیایی (شمالی)</p> <p>د. انقلاب زمستانی را توضیح دهید؟</p> <p>و. دلایل پیدایش فصل های مختلف را توضیح دهید؟</p>	۱
۳/۵		<p>فصل دوم</p> <p>الف. گاز های کره زمین شامل کدام از ارکان چهره زمین هست؟</p> <p>۱. بیوسفر</p> <p>۲. لیتوسفر</p> <p>۳. هیدروسفر</p> <p>۴. اتمسفر</p> <p>ب. دره های گرینلند V «شکل هست؟ صحیح. غلط.</p> <p>ج. مهم ترین مناطق صید ماهی جهان.....است.</p> <p>د. بیشتر تغییرات آب و هوا در کدام لایه از جو اتفاق می افتد؟</p> <p>و. سه منطقه مهم آب و هوای در نتیجه زوایه نامساوی خورشید را نام ببرید؟</p>	۲
۳/۵		<p>فصل سوم</p> <p>الف. عناصر.....و.....از مهمترین عناصر آب و هوا بر نوع و میزان پوشش گیاهی هست.</p> <p>ب. ساوان بین کدام زیست بوم ها قرار دارد؟</p> <p>ج. راهکارهای مهم در استفاده صحیح از جنگل های استوایی را نام ببرید؟</p> <p>د. این زیست بوم از نظر تنوع جانوری غنی هست و در طول سال هوا گرم هست؟</p>	۳




بارم	نام و نام خانوادگی: رضا بحرانی فرد کلاس: ۹-۱ شماره صندلی: ۲۴	امتحان درس مطالعات اجتماعی پایه نهم مدرسه هیئت امنایی فرهنگیان متوسطه اول وقت ۶۰ دقیقه تاریخ امتحان ۱۴۰۱/۱۰/۲۴	ردیف
۳/۵		<p>۱. فصل اول</p> <p>الف. مریخ از سیاره های بیرونی منظومه خورشیدی هست؟ صحیح غلط</p> <p>ب. فاصله هر مکان با مدار استوا بر حسب درجه.....است</p> <p>ج. بر حسب مختصات جغرافیایی ۱۵ W گزیننه صحیح را انتخاب کنید؟</p> <p>۱. طول جغرافیایی (غربی)</p> <p>۲. عرض جغرافیایی (جنوبی)</p> <p>۳. طول جغرافیایی (شرقی)</p> <p>۴. عرض جغرافیایی (شمالی)</p> <p>د. انقلاب زمستانی را توضیح دهید؟</p> <p>و. دلایل پیدایش فصل های مختلف را توضیح دهید؟</p>	۱
۳/۵		<p>فصل دوم</p> <p>الف. گاز های کره زمین شامل کدام از ارکان چهره زمین هست؟</p> <p>۱. بیوسفر</p> <p>۲. لیتوسفر</p> <p>۳. هیدروسفر</p> <p>۴. اتمسفر</p> <p>ب. دره های گرینلند V «شکل هست؟ صحیح. غلط.</p> <p>ج. مهم ترین مناطق صید ماهی جهان.....است.</p> <p>د. بیشتر تغییرات آب و هوا در کدام لایه از جو اتفاق می افتد؟</p> <p>و. سه منطقه مهم آب و هوای در نتیجه زوایه نامساوی خورشید را نام ببرید؟</p>	۲
۳/۵		<p>فصل سوم</p> <p>الف. عناصر.....و.....از مهمترین عناصر آب و هوا بر نوع و میزان پوشش گیاهی هست.</p> <p>ب. ساوان بین کدام زیست بوم ها قرار دارد؟</p> <p>ج. راهکارهای مهم در استفاده صحیح از جنگل های استوایی را نام ببرید؟</p> <p>د. این زیست بوم از نظر تنوع جانوری غنی هست و در طول سال هوا گرم هست؟</p>	۳




بارم	نام و نام خانوادگی: مهدی بخشوده کلاس: ۹-۱ شماره صندلی: ۲۵	امتحان درس مطالعات اجتماعی پایه نهم مدرسه هیئت امنایی فرهنگیان متوسطه اول وقت ۶۰ دقیقه تاریخ امتحان ۱۴۰۱/۱۰/۲۴	ردیف
۳/۵		<p>۱. فصل اول</p> <p>الف. مریخ از سیاره های بیرونی منظومه خورشیدی هست؟ صحیح غلط</p> <p>ب. فاصله هر مکان با مدار استوا بر حسب درجه.....است</p> <p>ج. بر حسب مختصات جغرافیایی ۱۵ W گزینه صحیح را انتخاب کنید؟</p> <p>۱. طول جغرافیایی (غربی)</p> <p>۲. عرض جغرافیایی (جنوبی)</p> <p>۳. طول جغرافیایی (شرقی)</p> <p>۴. عرض جغرافیایی (شمالی)</p> <p>د. انقلاب زمستانی را توضیح دهید؟</p> <p>و. دلایل پیدایش فصل های مختلف را توضیح دهید؟</p>	۱
۳/۵		<p>فصل دوم</p> <p>الف. گاز های کره زمین شامل کدام از ارکان چهره زمین هست؟</p> <p>۱. بیوسفر</p> <p>۲. لیتوسفر</p> <p>۳. هیدروسفر</p> <p>۴. اتمسفر</p> <p>ب. دره های گرینلند V «شکل هست؟ صحیح. غلط.</p> <p>ج. مهم ترین مناطق صید ماهی جهان.....است.</p> <p>د. بیشتر تغییرات آب و هوا در کدام لایه از جو اتفاق می افتد؟</p> <p>و. سه منطقه مهم آب و هوای در نتیجه زوایه نامساوی خورشید را نام ببرید؟</p>	۲
۳/۵		<p>فصل سوم</p> <p>الف. عناصر.....و.....از مهمترین عناصر آب و هوا بر نوع و میزان پوشش گیاهی هست.</p> <p>ب. ساوان بین کدام زیست بوم ها قرار دارد؟</p> <p>ج. راهکارهای مهم در استفاده صحیح از جنگل های استوایی را نام ببرید؟</p> <p>د. این زیست بوم از نظر تنوع جانوری غنی هست و در طول سال هوا گرم هست؟</p>	۳




بارم	نام و نام خانوادگی: آرش بدخشان کلاس: ۹-۱ شماره صندلی: ۲۶	امتحان درس مطالعات اجتماعی پایه نهم مدرسه هیئت امنایی فرهنگیان متوسطه اول وقت ۶۰ دقیقه تاریخ امتحان ۱۴۰۱/۱۰/۲۴	ردیف
۳/۵		<p>۱. فصل اول</p> <p>الف. مریخ از سیاره های بیرونی منظومه خورشیدی هست؟ صحیح غلط</p> <p>ب. فاصله هر مکان با مدار استوا بر حسب درجه.....است</p> <p>ج. بر حسب مختصات جغرافیایی ۱۵ W گزینه صحیح را انتخاب کنید؟</p> <p>۱. طول جغرافیایی (غربی)</p> <p>۲. عرض جغرافیایی (جنوبی)</p> <p>۳. طول جغرافیایی (شرقی)</p> <p>۴. عرض جغرافیایی (شمالی)</p> <p>د. انقلاب زمستانی را توضیح دهید؟</p> <p>و. دلایل پیدایش فصل های مختلف را توضیح دهید؟</p>	۱
۳/۵		<p>فصل دوم</p> <p>الف. گاز های کره زمین شامل کدام از ارکان چهره زمین هست؟</p> <p>۱. بیوسفر</p> <p>۲. لیتوسفر</p> <p>۳. هیدروسفر</p> <p>۴. اتمسفر</p> <p>ب. دره های گرینلند V «شکل هست؟ صحیح. غلط.</p> <p>ج. مهم ترین مناطق صید ماهی جهان.....است.</p> <p>د. بیشتر تغییرات آب و هوا در کدام لایه از جو اتفاق می افتد؟</p> <p>و. سه منطقه مهم آب و هوای در نتیجه زوایه نامساوی خورشید را نام ببرید؟</p>	۲
۳/۵		<p>فصل سوم</p> <p>الف. عناصر.....و.....از مهمترین عناصر آب و هوا بر نوع و میزان پوشش گیاهی هست.</p> <p>ب. ساوان بین کدام زیست بوم ها قرار دارد؟</p> <p>ج. راهکارهای مهم در استفاده صحیح از جنگل های استوایی را نام ببرید؟</p> <p>د. این زیست بوم از نظر تنوع جانوری غنی هست و در طول سال هوا گرم هست؟</p>	۳



بارم	نام و نام خانوادگی: امین بدیعی نژاد کلاس: ۹-۱ شماره صندلی: ۲۷	امتحان درس مطالعات اجتماعی پایه نهم مدرسه هیئت امنایی فرهنگیان متوسطه اول وقت ۶۰ دقیقه تاریخ امتحان ۱۴۰۱/۱۰/۲۴	ردیف
۳/۵		<p>۱. فصل اول</p> <p>الف. مریخ از سیاره های بیرونی منظومه خورشیدی هست؟ صحیح غلط</p> <p>ب. فاصله هر مکان با مدار استوا بر حسب درجه.....است</p> <p>ج. بر حسب مختصات جغرافیایی ۱۵ W گزینه صحیح را انتخاب کنید؟</p> <p>۱. طول جغرافیایی (غربی)</p> <p>۲. عرض جغرافیایی (جنوبی)</p> <p>۳. طول جغرافیایی (شرقی)</p> <p>۴. عرض جغرافیایی (شمالی)</p> <p>د. انقلاب زمستانی را توضیح دهید؟</p> <p>و. دلایل پیدایش فصل های مختلف را توضیح دهید؟</p>	۱
۳/۵		<p>فصل دوم</p> <p>الف. گاز های کره زمین شامل کدام از ارکان چهره زمین هست؟</p> <p>۱. بیوسفر</p> <p>۲. لیتوسفر</p> <p>۳. هیدروسفر</p> <p>۴. اتمسفر</p> <p>ب. دره های گرینلند V «شکل هست؟ صحیح. غلط.</p> <p>ج. مهم ترین مناطق صید ماهی جهان.....است.</p> <p>د. بیشتر تغییرات آب و هوا در کدام لایه از جو اتفاق می افتد؟</p> <p>و. سه منطقه مهم آب و هوای در نتیجه زوایه نامساوی خورشید را نام ببرید؟</p>	۲
۳/۵		<p>فصل سوم</p> <p>الف. عناصر.....و.....از مهمترین عناصر آب و هوا بر نوع و میزان پوشش گیاهی هست.</p> <p>ب. ساوان بین کدام زیست بوم ها قرار دارد؟</p> <p>ج. راهکارهای مهم در استفاده صحیح از جنگل های استوایی را نام ببرید؟</p> <p>د. این زیست بوم از نظر تنوع جانوری غنی هست و در طول سال هوا گرم هست؟</p>	۳



بارم	نام و نام خانوادگی: امیرحسین برامکی کلاس: ۹-۱ شماره صندلی: ۲۸	امتحان درس مطالعات اجتماعی پایه نهم مدرسه هیئت امنایی فرهنگیان متوسطه اول وقت ۶۰ دقیقه تاریخ امتحان ۱۴۰۱/۱۰/۲۴	ردیف
۳/۵		<p>۱. فصل اول</p> <p>الف. مریخ از سیاره های بیرونی منظومه خورشیدی هست؟ صحیح غلط</p> <p>ب. فاصله هر مکان با مدار استوا بر حسب درجه.....است</p> <p>ج. بر حسب مختصات جغرافیایی ۱۵ W گزیننه صحیح را انتخاب کنید؟</p> <p>۱. طول جغرافیایی (غربی)</p> <p>۲. عرض جغرافیایی (جنوبی)</p> <p>۳. طول جغرافیایی (شرقی)</p> <p>۴. عرض جغرافیایی (شمالی)</p> <p>د. انقلاب زمستانی را توضیح دهید؟</p> <p>و. دلایل پیدایش فصل های مختلف را توضیح دهید؟</p>	۱
۳/۵		<p>فصل دوم</p> <p>الف. گاز های کره زمین شامل کدام از ارکان چهره زمین هست؟</p> <p>۱. بیوسفر</p> <p>۲. لیتوسفر</p> <p>۳. هیدروسفر</p> <p>۴. اتمسفر</p> <p>ب. دره های گرینلند V «شکل هست؟ صحیح. غلط.</p> <p>ج. مهم ترین مناطق صید ماهی جهان.....است.</p> <p>د. بیشتر تغییرات آب و هوا در کدام لایه از جو اتفاق می افتد؟</p> <p>و. سه منطقه مهم آب و هوای در نتیجه زوایه نامساوی خورشید را نام ببرید؟</p>	۲
۳/۵		<p>فصل سوم</p> <p>الف. عناصر.....و.....از مهمترین عناصر آب و هوا بر نوع و میزان پوشش گیاهی هست.</p> <p>ب. ساوان بین کدام زیست بوم ها قرار دارد؟</p> <p>ج. راهکارهای مهم در استفاده صحیح از جنگل های استوایی را نام ببرید؟</p> <p>د. این زیست بوم از نظر تنوع جانوری غنی هست و در طول سال هوا گرم هست؟</p>	۳




بارم	نام و نام خانوادگی: پوریا بهادرپور کلاس: ۹-۱ شماره صندلی: ۲۹	امتحان درس مطالعات اجتماعی پایه نهم مدرسه هیئت امنایی فرهنگیان متوسطه اول وقت ۶۰ دقیقه تاریخ امتحان ۱۴۰۱/۱۰/۲۴	ردیف
۳/۵		<p>۱. فصل اول</p> <p>الف. مریخ از سیاره های بیرونی منظومه خورشیدی هست؟ صحیح غلط</p> <p>ب. فاصله هر مکان با مدار استوا بر حسب درجه.....است</p> <p>ج. بر حسب مختصات جغرافیایی ۱۵ W گزینه صحیح را انتخاب کنید؟</p> <p>۱. طول جغرافیایی (غربی)</p> <p>۲. عرض جغرافیایی (جنوبی)</p> <p>۳. طول جغرافیایی (شرقی)</p> <p>۴. عرض جغرافیایی (شمالی)</p> <p>د. انقلاب زمستانی را توضیح دهید؟</p> <p>و. دلایل پیدایش فصل های مختلف را توضیح دهید؟</p>	۱
۳/۵		<p>فصل دوم</p> <p>الف. گاز های کره زمین شامل کدام از ارکان چهره زمین هست؟</p> <p>۱. بیوسفر</p> <p>۲. لیتوسفر</p> <p>۳. هیدروسفر</p> <p>۴. اتمسفر</p> <p>ب. دره های گرینلند V «شکل هست؟ صحیح. غلط.</p> <p>ج. مهم ترین مناطق صید ماهی جهان.....است.</p> <p>د. بیشتر تغییرات آب و هوا در کدام لایه از جو اتفاق می افتد؟</p> <p>و. سه منطقه مهم آب و هوای در نتیجه زوایه نامساوی خورشید را نام ببرید؟</p>	۲
۳/۵		<p>فصل سوم</p> <p>الف. عناصر.....و.....از مهمترین عناصر آب و هوا بر نوع و میزان پوشش گیاهی هست.</p> <p>ب. ساوان بین کدام زیست بوم ها قرار دارد؟</p> <p>ج. راهکارهای مهم در استفاده صحیح از جنگل های استوایی را نام ببرید؟</p> <p>د. این زیست بوم از نظر تنوع جانوری غنی هست و در طول سال هوا گرم هست؟</p>	۳




بارم	نام و نام خانوادگی: سعید بهرامی گنجه کلاس: ۹-۱ شماره صندلی: ۳۰	امتحان درس مطالعات اجتماعی پایه نهم مدرسه هیئت امنایی فرهنگیان متوسطه اول وقت ۶۰ دقیقه تاریخ امتحان ۱۴۰۱/۱۰/۲۴	ردیف
۳/۵		<p>۱. فصل اول</p> <p>الف. مریخ از سیاره های بیرونی منظومه خورشیدی هست؟ صحیح غلط</p> <p>ب. فاصله هر مکان با مدار استوا بر حسب درجه.....است</p> <p>ج. بر حسب مختصات جغرافیایی ۱۵ W گزینه صحیح را انتخاب کنید؟</p> <p>۱. طول جغرافیایی (غربی)</p> <p>۲. عرض جغرافیایی (جنوبی)</p> <p>۳. طول جغرافیایی (شرقی)</p> <p>۴. عرض جغرافیایی (شمالی)</p> <p>د. انقلاب زمستانی را توضیح دهید؟</p> <p>و. دلایل پیدایش فصل های مختلف را توضیح دهید؟</p>	۱
۳/۵		<p>فصل دوم</p> <p>الف. گاز های کره زمین شامل کدام از ارکان چهره زمین هست؟</p> <p>۱. بیوسفر</p> <p>۲. لیتوسفر</p> <p>۳. هیدروسفر</p> <p>۴. اتمسفر</p> <p>ب. دره های گرینلند V «شکل هست؟ صحیح. غلط.</p> <p>ج. مهم ترین مناطق صید ماهی جهان.....است.</p> <p>د. بیشتر تغییرات آب و هوا در کدام لایه از جو اتفاق می افتد؟</p> <p>و. سه منطقه مهم آب و هوای در نتیجه زوایه نامساوی خورشید را نام ببرید؟</p>	۲
۳/۵		<p>فصل سوم</p> <p>الف. عناصر.....و.....از مهمترین عناصر آب و هوا بر نوع و میزان پوشش گیاهی هست.</p> <p>ب. ساوان بین کدام زیست بوم ها قرار دارد؟</p> <p>ج. راهکارهای مهم در استفاده صحیح از جنگل های استوایی را نام ببرید؟</p> <p>د. این زیست بوم از نظر تنوع جانوری غنی هست و در طول سال هوا گرم هست؟</p>	۳




بارم	نام و نام خانوادگی: امیرمحمد بهره بر کلاس: ۹-۱ شماره صندلی: ۳۱	امتحان درس مطالعات اجتماعی پایه نهم مدرسه هیئت امنایی فرهنگیان متوسطه اول وقت ۶۰ دقیقه تاریخ امتحان ۱۴۰۱/۱۰/۲۴	ردیف
۳/۵		<p>۱. فصل اول</p> <p>الف. مریخ از سیاره های بیرونی منظومه خورشیدی هست؟ صحیح غلط</p> <p>ب. فاصله هر مکان با مدار استوا بر حسب درجه.....است</p> <p>ج. بر حسب مختصات جغرافیایی ۱۵ W گزیننه صحیح را انتخاب کنید؟</p> <p>۱. طول جغرافیایی (غربی)</p> <p>۲. عرض جغرافیایی (جنوبی)</p> <p>۳. طول جغرافیایی (شرقی)</p> <p>۴. عرض جغرافیایی (شمالی)</p> <p>د. انقلاب زمستانی را توضیح دهید؟</p> <p>و. دلایل پیدایش فصل های مختلف را توضیح دهید؟</p>	۱
۳/۵		<p>فصل دوم</p> <p>الف. گاز های کره زمین شامل کدام از ارکان چهره زمین هست؟</p> <p>۱. بیوسفر</p> <p>۲. لیتوسفر</p> <p>۳. هیدروسفر</p> <p>۴. اتمسفر</p> <p>ب. دره های گرینلند V «شکل هست؟ صحیح. غلط.</p> <p>ج. مهم ترین مناطق صید ماهی جهان.....است.</p> <p>د. بیشتر تغییرات آب و هوا در کدام لایه از جو اتفاق می افتد؟</p> <p>و. سه منطقه مهم آب و هوای در نتیجه زوایه نامساوی خورشید را نام ببرید؟</p>	۲
۳/۵		<p>فصل سوم</p> <p>الف. عناصر.....و.....از مهمترین عناصر آب و هوا بر نوع و میزان پوشش گیاهی هست.</p> <p>ب. ساوان بین کدام زیست بوم ها قرار دارد؟</p> <p>ج. راهکارهای مهم در استفاده صحیح از جنگل های استوایی را نام ببرید؟</p> <p>د. این زیست بوم از نظر تنوع جانوری غنی هست و در طول سال هوا گرم هست؟</p>	۳




بارم	نام و نام خانوادگی: یاسین بهروزی کلاس: ۹-۱ شماره صندلی: ۳۲	امتحان درس مطالعات اجتماعی پایه نهم مدرسه هیئت امنایی فرهنگیان متوسطه اول وقت ۶۰ دقیقه تاریخ امتحان ۱۴۰۱/۱۰/۲۴	ردیف
۳/۵		<p>۱. فصل اول</p> <p>الف. مریخ از سیاره های بیرونی منظومه خورشیدی هست؟ صحیح غلط</p> <p>ب. فاصله هر مکان با مدار استوا بر حسب درجه.....است</p> <p>ج. بر حسب مختصات جغرافیایی ۱۵ W گزیننه صحیح را انتخاب کنید؟</p> <p>۱. طول جغرافیایی (غربی)</p> <p>۲. عرض جغرافیایی (جنوبی)</p> <p>۳. طول جغرافیایی (شرقی)</p> <p>۴. عرض جغرافیایی (شمالی)</p> <p>د. انقلاب زمستانی را توضیح دهید؟</p> <p>و. دلایل پیدایش فصل های مختلف را توضیح دهید؟</p>	۱
۳/۵		<p>فصل دوم</p> <p>الف. گاز های کره زمین شامل کدام از ارکان چهره زمین هست؟</p> <p>۱. بیوسفر</p> <p>۲. لیتوسفر</p> <p>۳. هیدروسفر</p> <p>۴. اتمسفر</p> <p>ب. دره های گرینلند V «شکل هست؟ صحیح. غلط.</p> <p>ج. مهم ترین مناطق صید ماهی جهان.....است.</p> <p>د. بیشتر تغییرات آب و هوا در کدام لایه از جو اتفاق می افتد؟</p> <p>و. سه منطقه مهم آب و هوای در نتیجه زوایه نامساوی خورشید را نام ببرید؟</p>	۲
۳/۵		<p>فصل سوم</p> <p>الف. عناصر.....و.....از مهمترین عناصر آب و هوا بر نوع و میزان پوشش گیاهی هست.</p> <p>ب. ساوان بین کدام زیست بوم ها قرار دارد؟</p> <p>ج. راهکارهای مهم در استفاده صحیح از جنگل های استوایی را نام ببرید؟</p> <p>د. این زیست بوم از نظر تنوع جانوری غنی هست و در طول سال هوا گرم هست؟</p>	۳




بارم	نام و نام خانوادگی: طاها بهره بر کلاس: ۹--۲ شماره صندلی: ۳۳	امتحان درس مطالعات اجتماعی پایه نهم مدرسه هیئت امنایی فرهنگیان متوسطه اول وقت ۶۰ دقیقه تاریخ امتحان ۱۴۰۱/۱۰/۲۴	ردیف
۳/۵		<p>۱. فصل اول</p> <p>الف. مریخ از سیاره های بیرونی منظومه خورشیدی هست؟ صحیح غلط</p> <p>ب. فاصله هر مکان با مدار استوا بر حسب درجه.....است</p> <p>ج. بر حسب مختصات جغرافیایی ۱۵ W گزیننه صحیح را انتخاب کنید؟</p> <p>۱. طول جغرافیایی (غربی)</p> <p>۲. عرض جغرافیایی (جنوبی)</p> <p>۳. طول جغرافیایی (شرقی)</p> <p>۴. عرض جغرافیایی (شمالی)</p> <p>د. انقلاب زمستانی را توضیح دهید؟</p> <p>و. دلایل پیدایش فصل های مختلف را توضیح دهید؟</p>	۱
۳/۵		<p>فصل دوم</p> <p>الف. گاز های کره زمین شامل کدام از ارکان چهره زمین هست؟</p> <p>۱. بیوسفر</p> <p>۲. لیتوسفر</p> <p>۳. هیدروسفر</p> <p>۴. اتمسفر</p> <p>ب. دره های گرینلند V «شکل هست؟ صحیح. غلط.</p> <p>ج. مهم ترین مناطق صید ماهی جهان.....است.</p> <p>د. بیشتر تغییرات آب و هوا در کدام لایه از جو اتفاق می افتد؟</p> <p>و. سه منطقه مهم آب و هوای در نتیجه زوایه نامساوی خورشید را نام ببرید؟</p>	۲
۳/۵		<p>فصل سوم</p> <p>الف. عناصر.....و.....از مهمترین عناصر آب و هوا بر نوع و میزان پوشش گیاهی هست.</p> <p>ب. ساوان بین کدام زیست بوم ها قرار دارد؟</p> <p>ج. راهکارهای مهم در استفاده صحیح از جنگل های استوایی را نام ببرید؟</p> <p>د. این زیست بوم از نظر تنوع جانوری غنی هست و در طول سال هوا گرم هست؟</p>	۳




بارم	نام و نام خانوادگی: آتیلا پادیاب کلاس: ۹--۲ شماره صندلی: ۳۴	امتحان درس مطالعات اجتماعی پایه نهم مدرسه هیئت امنایی فرهنگیان متوسطه اول وقت ۶۰ دقیقه تاریخ امتحان ۱۴۰۱/۱۰/۲۴	ردیف
۳/۵		<p>۱. فصل اول</p> <p>الف. مریخ از سیاره های بیرونی منظومه خورشیدی هست؟ صحیح غلط</p> <p>ب. فاصله هر مکان با مدار استوا بر حسب درجه.....است</p> <p>ج. بر حسب مختصات جغرافیایی ۱۵ W گزیننه صحیح را انتخاب کنید؟</p> <p>۱. طول جغرافیایی (غربی)</p> <p>۲. عرض جغرافیایی (جنوبی)</p> <p>۳. طول جغرافیایی (شرقی)</p> <p>۴. عرض جغرافیایی (شمالی)</p> <p>د. انقلاب زمستانی را توضیح دهید؟</p> <p>و. دلایل پیدایش فصل های مختلف را توضیح دهید؟</p>	۱
۳/۵		<p>فصل دوم</p> <p>الف. گاز های کره زمین شامل کدام از ارکان چهره زمین هست؟</p> <p>۱. بیوسفر</p> <p>۲. لیتوسفر</p> <p>۳. هیدروسفر</p> <p>۴. اتمسفر</p> <p>ب. دره های گرینلند V «شکل هست؟ صحیح. غلط.</p> <p>ج. مهم ترین مناطق صید ماهی جهان.....است.</p> <p>د. بیشتر تغییرات آب و هوا در کدام لایه از جو اتفاق می افتد؟</p> <p>و. سه منطقه مهم آب و هوای در نتیجه زوایه نامساوی خورشید را نام ببرید؟</p>	۲
۳/۵		<p>فصل سوم</p> <p>الف. عناصر.....و.....از مهمترین عناصر آب و هوا بر نوع و میزان پوشش گیاهی هست.</p> <p>ب. ساوان بین کدام زیست بوم ها قرار دارد؟</p> <p>ج. راهکارهای مهم در استفاده صحیح از جنگل های استوایی را نام ببرید؟</p> <p>د. این زیست بوم از نظر تنوع جانوری غنی هست و در طول سال هوا گرم هست؟</p>	۳




بارم	نام و نام خانوادگی: امیرطاها پایدار کلاس: ۹--۲ شماره صندلی: ۳۵	امتحان درس مطالعات اجتماعی پایه نهم مدرسه هیئت امنایی فرهنگیان متوسطه اول وقت ۶۰ دقیقه تاریخ امتحان ۱۴۰۱/۱۰/۲۴	ردیف
۳/۵		<p>۱. فصل اول</p> <p>الف. مریخ از سیاره های بیرونی منظومه خورشیدی هست؟ صحیح غلط</p> <p>ب. فاصله هر مکان با مدار استوا بر حسب درجه.....است</p> <p>ج. بر حسب مختصات جغرافیایی ۱۵ W گزیننه صحیح را انتخاب کنید؟</p> <p>۱. طول جغرافیایی (غربی)</p> <p>۲. عرض جغرافیایی (جنوبی)</p> <p>۳. طول جغرافیایی (شرقی)</p> <p>۴. عرض جغرافیایی (شمالی)</p> <p>د. انقلاب زمستانی را توضیح دهید؟</p> <p>و. دلایل پیدایش فصل های مختلف را توضیح دهید؟</p>	۱
۳/۵		<p>فصل دوم</p> <p>الف. گاز های کره زمین شامل کدام از ارکان چهره زمین هست؟</p> <p>۱. بیوسفر</p> <p>۲. لیتوسفر</p> <p>۳. هیدروسفر</p> <p>۴. اتمسفر</p> <p>ب. دره های گرینلند V «شکل هست؟ صحیح. غلط.</p> <p>ج. مهم ترین مناطق صید ماهی جهان.....است.</p> <p>د. بیشتر تغییرات آب و هوا در کدام لایه از جو اتفاق می افتد؟</p> <p>و. سه منطقه مهم آب و هوای در نتیجه زوایه نامساوی خورشید را نام ببرید؟</p>	۲
۳/۵		<p>فصل سوم</p> <p>الف. عناصر.....و.....از مهمترین عناصر آب و هوا بر نوع و میزان پوشش گیاهی هست.</p> <p>ب. ساوان بین کدام زیست بوم ها قرار دارد؟</p> <p>ج. راهکارهای مهم در استفاده صحیح از جنگل های استوایی را نام ببرید؟</p> <p>د. این زیست بوم از نظر تنوع جانوری غنی هست و در طول سال هوا گرم هست؟</p>	۳




بارم	نام و نام خانوادگی: یاسین پایدار کلاس: ۹--۲ شماره صندلی: ۳۶	امتحان درس مطالعات اجتماعی پایه نهم مدرسه هیئت امنایی فرهنگیان متوسطه اول وقت ۶۰ دقیقه تاریخ امتحان ۱۴۰۱/۱۰/۲۴	ردیف
۳/۵		<p>۱. فصل اول</p> <p>الف. مریخ از سیاره های بیرونی منظومه خورشیدی هست؟ صحیح غلط</p> <p>ب. فاصله هر مکان با مدار استوا بر حسب درجه.....است</p> <p>ج. بر حسب مختصات جغرافیایی ۱۵ W گزیننه صحیح را انتخاب کنید؟</p> <p>۱. طول جغرافیایی (غربی)</p> <p>۲. عرض جغرافیایی (جنوبی)</p> <p>۳. طول جغرافیایی (شرقی)</p> <p>۴. عرض جغرافیایی (شمالی)</p> <p>د. انقلاب زمستانی را توضیح دهید؟</p> <p>و. دلایل پیدایش فصل های مختلف را توضیح دهید؟</p>	۱
۳/۵		<p>فصل دوم</p> <p>الف. گاز های کره زمین شامل کدام از ارکان چهره زمین هست؟</p> <p>۱. بیوسفر</p> <p>۲. لیتوسفر</p> <p>۳. هیدروسفر</p> <p>۴. اتمسفر</p> <p>ب. دره های گرینلند V «شکل هست؟ صحیح. غلط.</p> <p>ج. مهم ترین مناطق صید ماهی جهان.....است.</p> <p>د. بیشتر تغییرات آب و هوا در کدام لایه از جو اتفاق می افتد؟</p> <p>و. سه منطقه مهم آب و هوای در نتیجه زوایه نامساوی خورشید را نام ببرید؟</p>	۲
۳/۵		<p>فصل سوم</p> <p>الف. عناصر.....و.....از مهمترین عناصر آب و هوا بر نوع و میزان پوشش گیاهی هست.</p> <p>ب. ساوان بین کدام زیست بوم ها قرار دارد؟</p> <p>ج. راهکارهای مهم در استفاده صحیح از جنگل های استوایی را نام ببرید؟</p> <p>د. این زیست بوم از نظر تنوع جانوری غنی هست و در طول سال هوا گرم هست؟</p>	۳




بارم	نام و نام خانوادگی: امیرعلی پایدارفر کلاس: ۹--۲ شماره صندلی: ۳۷	امتحان درس مطالعات اجتماعی پایه نهم مدرسه هیئت امنایی فرهنگیان متوسطه اول وقت ۶۰ دقیقه تاریخ امتحان ۱۴۰۱/۱۰/۲۴	ردیف
۳/۵		<p>۱۰. فصل اول</p> <p>الف. مریخ از سیاره های بیرونی منظومه خورشیدی هست؟ صحیح غلط</p> <p>ب. فاصله هر مکان با مدار استوا بر حسب درجه.....است</p> <p>ج. بر حسب مختصات جغرافیایی ۱۵ W گزیننه صحیح را انتخاب کنید؟</p> <p>۱۰. طول جغرافیایی (غربی)</p> <p>۲۰. عرض جغرافیایی (جنوبی)</p> <p>۳. طول جغرافیایی (شرقی)</p> <p>۴. عرض جغرافیایی (شمالی)</p> <p>د. انقلاب زمستانی را توضیح دهید؟</p> <p>و. دلایل پیدایش فصل های مختلف را توضیح دهید؟</p>	۱
۳/۵		<p>فصل دوم</p> <p>الف. گاز های کره زمین شامل کدام از ارکان چهره زمین هست؟</p> <p>۱. بیوسفر</p> <p>۲. لیتوسفر</p> <p>۳. هیدروسفر</p> <p>۴. اتمسفر</p> <p>ب. دره های گرینلند V «شکل هست؟ صحیح. غلط.</p> <p>ج. مهم ترین مناطق صید ماهی جهان.....است.</p> <p>د. بیشتر تغییرات آب و هوا در کدام لایه از جو اتفاق می افتد؟</p> <p>و. سه منطقه مهم آب و هوای در نتیجه زوایه نامساوی خورشید را نام ببرید؟</p>	۲
۳/۵		<p>فصل سوم</p> <p>الف. عناصر.....و.....از مهمترین عناصر آب و هوا بر نوع و میزان پوشش گیاهی هست.</p> <p>ب. ساوان بین کدام زیست بوم ها قرار دارد؟</p> <p>ج. راهکارهای مهم در استفاده صحیح از جنگل های استوایی را نام ببرید؟</p> <p>د. این زیست بوم از نظر تنوع جانوری غنی هست و در طول سال هوا گرم هست؟</p>	۳




بارم	نام و نام خانوادگی: حسین پرکاس کلاس: ۹--۲ شماره صندلی: ۳۸	امتحان درس مطالعات اجتماعی پایه نهم مدرسه هیئت امنایی فرهنگیان متوسطه اول وقت ۶۰ دقیقه تاریخ امتحان ۱۴۰۱/۱۰/۲۴	ردیف
۳/۵		<p>۱. فصل اول</p> <p>الف. مریخ از سیاره های بیرونی منظومه خورشیدی هست؟ صحیح غلط</p> <p>ب. فاصله هر مکان با مدار استوا بر حسب درجه.....است</p> <p>ج. بر حسب مختصات جغرافیایی ۱۵ W گزینه صحیح را انتخاب کنید؟</p> <p>۱. طول جغرافیایی (غربی)</p> <p>۲. عرض جغرافیایی (جنوبی)</p> <p>۳. طول جغرافیایی (شرقی)</p> <p>۴. عرض جغرافیایی (شمالی)</p> <p>د. انقلاب زمستانی را توضیح دهید؟</p> <p>و. دلایل پیدایش فصل های مختلف را توضیح دهید؟</p>	۱
۳/۵		<p>فصل دوم</p> <p>الف. گاز های کره زمین شامل کدام از ارکان چهره زمین هست؟</p> <p>۱. بیوسفر</p> <p>۲. لیتوسفر</p> <p>۳. هیدروسفر</p> <p>۴. اتمسفر</p> <p>ب. دره های گرینلند V «شکل هست؟ صحیح. غلط.</p> <p>ج. مهم ترین مناطق صید ماهی جهان.....است.</p> <p>د. بیشتر تغییرات آب و هوا در کدام لایه از جو اتفاق می افتد؟</p> <p>و. سه منطقه مهم آب و هوای در نتیجه زوایه نامساوی خورشید را نام ببرید؟</p>	۲
۳/۵		<p>فصل سوم</p> <p>الف. عناصر.....و.....از مهمترین عناصر آب و هوا بر نوع و میزان پوشش گیاهی هست.</p> <p>ب. ساوان بین کدام زیست بوم ها قرار دارد؟</p> <p>ج. راهکارهای مهم در استفاده صحیح از جنگل های استوایی را نام ببرید؟</p> <p>د. این زیست بوم از نظر تنوع جانوری غنی هست و در طول سال هوا گرم هست؟</p>	۳




بارم	نام و نام خانوادگی: حمیدرضا پروانه کلاس: ۹--۲ شماره صندلی: ۳۹	امتحان درس مطالعات اجتماعی پایه نهم مدرسه هیئت امنایی فرهنگیان متوسطه اول وقت ۶۰ دقیقه تاریخ امتحان ۱۴۰۱/۱۰/۲۴	ردیف
۳/۵		<p>۱. فصل اول</p> <p>الف. مریخ از سیاره های بیرونی منظومه خورشیدی هست؟ صحیح غلط</p> <p>ب. فاصله هر مکان با مدار استوا بر حسب درجه.....است</p> <p>ج. بر حسب مختصات جغرافیایی ۱۵ W گزینه صحیح را انتخاب کنید؟</p> <p>۱. طول جغرافیایی (غربی)</p> <p>۲. عرض جغرافیایی (جنوبی)</p> <p>۳. طول جغرافیایی (شرقی)</p> <p>۴. عرض جغرافیایی (شمالی)</p> <p>د. انقلاب زمستانی را توضیح دهید؟</p> <p>و. دلایل پیدایش فصل های مختلف را توضیح دهید؟</p>	۱
۳/۵		<p>فصل دوم</p> <p>الف. گاز های کره زمین شامل کدام از ارکان چهره زمین هست؟</p> <p>۱. بیوسفر</p> <p>۲. لیتوسفر</p> <p>۳. هیدروسفر</p> <p>۴. اتمسفر</p> <p>ب. دره های گرینلند V «شکل هست؟ صحیح. غلط.</p> <p>ج. مهم ترین مناطق صید ماهی جهان.....است.</p> <p>د. بیشتر تغییرات آب و هوا در کدام لایه از جو اتفاق می افتد؟</p> <p>و. سه منطقه مهم آب و هوای در نتیجه زوایه نامساوی خورشید را نام ببرید؟</p>	۲
۳/۵		<p>فصل سوم</p> <p>الف. عناصر.....و.....از مهمترین عناصر آب و هوا بر نوع و میزان پوشش گیاهی هست.</p> <p>ب. ساوان بین کدام زیست بوم ها قرار دارد؟</p> <p>ج. راهکارهای مهم در استفاده صحیح از جنگل های استوایی را نام ببرید؟</p> <p>د. این زیست بوم از نظر تنوع جانوری غنی هست و در طول سال هوا گرم هست؟</p>	۳




بارم	نام و نام خانوادگی: مهدی پرویزیان گنجه کلاس: ۹--۲ شماره صندلی: ۴۰	امتحان درس مطالعات اجتماعی پایه نهم مدرسه هیئت امنایی فرهنگیان متوسطه اول وقت ۶۰ دقیقه تاریخ امتحان ۱۴۰۱/۱۰/۲۴	ردیف
۳/۵		<p>۱. فصل اول</p> <p>الف. مریخ از سیاره های بیرونی منظومه خورشیدی هست؟ صحیح غلط</p> <p>ب. فاصله هر مکان با مدار استوا بر حسب درجه.....است</p> <p>ج. بر حسب مختصات جغرافیایی ۱۵ W گزیننه صحیح را انتخاب کنید؟</p> <p>۱. طول جغرافیایی (غربی)</p> <p>۲. عرض جغرافیایی (جنوبی)</p> <p>۳. طول جغرافیایی (شرقی)</p> <p>۴. عرض جغرافیایی (شمالی)</p> <p>د. انقلاب زمستانی را توضیح دهید؟</p> <p>و. دلایل پیدایش فصل های مختلف را توضیح دهید؟</p>	۱
۳/۵		<p>فصل دوم</p> <p>الف. گاز های کره زمین شامل کدام از ارکان چهره زمین هست؟</p> <p>۱. بیوسفر</p> <p>۲. لیتوسفر</p> <p>۳. هیدروسفر</p> <p>۴. اتمسفر</p> <p>ب. دره های گرینلند V «شکل هست؟ صحیح. غلط.</p> <p>ج. مهم ترین مناطق صید ماهی جهان.....است.</p> <p>د. بیشتر تغییرات آب و هوا در کدام لایه از جو اتفاق می افتد؟</p> <p>و. سه منطقه مهم آب و هوای در نتیجه زوایه نامساوی خورشید را نام ببرید؟</p>	۲
۳/۵		<p>فصل سوم</p> <p>الف. عناصر.....و.....از مهمترین عناصر آب و هوا بر نوع و میزان پوشش گیاهی هست.</p> <p>ب. ساوان بین کدام زیست بوم ها قرار دارد؟</p> <p>ج. راهکارهای مهم در استفاده صحیح از جنگل های استوایی را نام ببرید؟</p> <p>د. این زیست بوم از نظر تنوع جانوری غنی هست و در طول سال هوا گرم هست؟</p>	۳




بارم	نام و نام خانوادگی: آرشام پناهی کلاس: ۹--۲ شماره صندلی: ۴۱	امتحان درس مطالعات اجتماعی پایه نهم مدرسه هیئت امنایی فرهنگیان متوسطه اول وقت ۶۰ دقیقه تاریخ امتحان ۱۴۰۱/۱۰/۲۴	ردیف
۳/۵		<p>۱. فصل اول</p> <p>الف. مریخ از سیاره های بیرونی منظومه خورشیدی هست؟ صحیح غلط</p> <p>ب. فاصله هر مکان با مدار استوا بر حسب درجه.....است</p> <p>ج. بر حسب مختصات جغرافیایی ۱۵ W گزینه صحیح را انتخاب کنید؟</p> <p>۱. طول جغرافیایی (غربی)</p> <p>۲. عرض جغرافیایی (جنوبی)</p> <p>۳. طول جغرافیایی (شرقی)</p> <p>۴. عرض جغرافیایی (شمالی)</p> <p>د. انقلاب زمستانی را توضیح دهید؟</p> <p>و. دلایل پیدایش فصل های مختلف را توضیح دهید؟</p>	۱
۳/۵		<p>فصل دوم</p> <p>الف. گاز های کره زمین شامل کدام از ارکان چهره زمین هست؟</p> <p>۱. بیوسفر</p> <p>۲. لیتوسفر</p> <p>۳. هیدروسفر</p> <p>۴. اتمسفر</p> <p>ب. دره های گرینلند V «شکل هست؟ صحیح. غلط.</p> <p>ج. مهم ترین مناطق صید ماهی جهان.....است.</p> <p>د. بیشتر تغییرات آب و هوا در کدام لایه از جو اتفاق می افتد؟</p> <p>و. سه منطقه مهم آب و هوای در نتیجه زوایه نامساوی خورشید را نام ببرید؟</p>	۲
۳/۵		<p>فصل سوم</p> <p>الف. عناصر.....و.....از مهمترین عناصر آب و هوا بر نوع و میزان پوشش گیاهی هست.</p> <p>ب. ساوان بین کدام زیست بوم ها قرار دارد؟</p> <p>ج. راهکارهای مهم در استفاده صحیح از جنگل های استوایی را نام ببرید؟</p> <p>د. این زیست بوم از نظر تنوع جانوری غنی هست و در طول سال هوا گرم هست؟</p>	۳




بارم	نام و نام خانوادگی: دانیال پناهی کالوس کلاس: ۹--۲ شماره صندلی: ۴۲	امتحان درس مطالعات اجتماعی پایه نهم مدرسه هیئت امنایی فرهنگیان متوسطه اول وقت ۶۰ دقیقه تاریخ امتحان ۱۴۰۱/۱۰/۲۴	ردیف
۳/۵		<p>۱. فصل اول</p> <p>الف. مریخ از سیاره های بیرونی منظومه خورشیدی هست؟ صحیح غلط</p> <p>ب. فاصله هر مکان با مدار استوا بر حسب درجه.....است</p> <p>ج. بر حسب مختصات جغرافیایی ۱۵ W گزیننه صحیح را انتخاب کنید؟</p> <p>۱. طول جغرافیایی (غربی)</p> <p>۲. عرض جغرافیایی (جنوبی)</p> <p>۳. طول جغرافیایی (شرقی)</p> <p>۴. عرض جغرافیایی (شمالی)</p> <p>د. انقلاب زمستانی را توضیح دهید؟</p> <p>و. دلایل پیدایش فصل های مختلف را توضیح دهید؟</p>	۱
۳/۵		<p>فصل دوم</p> <p>الف. گاز های کره زمین شامل کدام از ارکان چهره زمین هست؟</p> <p>۱. بیوسفر</p> <p>۲. لیتوسفر</p> <p>۳. هیدروسفر</p> <p>۴. اتمسفر</p> <p>ب. دره های گرینلند V «شکل هست؟ صحیح. غلط.</p> <p>ج. مهم ترین مناطق صید ماهی جهان.....است.</p> <p>د. بیشتر تغییرات آب و هوا در کدام لایه از جو اتفاق می افتد؟</p> <p>و. سه منطقه مهم آب و هوای در نتیجه زوایه نامساوی خورشید را نام ببرید؟</p>	۲
۳/۵		<p>فصل سوم</p> <p>الف. عناصر.....و.....از مهمترین عناصر آب و هوا بر نوع و میزان پوشش گیاهی هست.</p> <p>ب. ساوان بین کدام زیست بوم ها قرار دارد؟</p> <p>ج. راهکارهای مهم در استفاده صحیح از جنگل های استوایی را نام ببرید؟</p> <p>د. این زیست بوم از نظر تنوع جانوری غنی هست و در طول سال هوا گرم هست؟</p>	۳



بارم	نام و نام خانوادگی: مصطفی پوربهبشت کلاس: ۹--۲ شماره صندلی: ۴۳	امتحان درس مطالعات اجتماعی پایه نهم مدرسه هیئت امنایی فرهنگیان متوسطه اول وقت ۶۰ دقیقه تاریخ امتحان ۱۴۰۱/۱۰/۲۴	ردیف
۳/۵		<p>۱. فصل اول</p> <p>الف. مریخ از سیاره های بیرونی منظومه خورشیدی هست؟ صحیح غلط</p> <p>ب. فاصله هر مکان با مدار استوا بر حسب درجه.....است</p> <p>ج. بر حسب مختصات جغرافیایی ۱۵ W گزیننه صحیح را انتخاب کنید؟</p> <p>۱. طول جغرافیایی (غربی)</p> <p>۲. عرض جغرافیایی (جنوبی)</p> <p>۳. طول جغرافیایی (شرقی)</p> <p>۴. عرض جغرافیایی (شمالی)</p> <p>د. انقلاب زمستانی را توضیح دهید؟</p> <p>و. دلایل پیدایش فصل های مختلف را توضیح دهید؟</p>	۱
۳/۵		<p>فصل دوم</p> <p>الف. گاز های کره زمین شامل کدام از ارکان چهره زمین هست؟</p> <p>۱. بیوسفر</p> <p>۲. لیتوسفر</p> <p>۳. هیدروسفر</p> <p>۴. اتمسفر</p> <p>ب. دره های گرینلند V «شکل هست؟ صحیح. غلط.</p> <p>ج. مهم ترین مناطق صید ماهی جهان.....است.</p> <p>د. بیشتر تغییرات آب و هوا در کدام لایه از جو اتفاق می افتد؟</p> <p>و. سه منطقه مهم آب و هوای در نتیجه زوایه نامساوی خورشید را نام ببرید؟</p>	۲
۳/۵		<p>فصل سوم</p> <p>الف. عناصر.....و.....از مهمترین عناصر آب و هوا بر نوع و میزان پوشش گیاهی هست.</p> <p>ب. ساوان بین کدام زیست بوم ها قرار دارد؟</p> <p>ج. راهکارهای مهم در استفاده صحیح از جنگل های استوایی را نام ببرید؟</p> <p>د. این زیست بوم از نظر تنوع جانوری غنی هست و در طول سال هوا گرم هست؟</p>	۳




بارم	نام و نام خانوادگی: رضا پوردیان کلاس: ۹--۲ شماره صندلی: ۴۴	امتحان درس مطالعات اجتماعی پایه نهم مدرسه هیئت امنایی فرهنگیان متوسطه اول وقت ۶۰ دقیقه تاریخ امتحان ۱۴۰۱/۱۰/۲۴	ردیف
۳/۵		<p>۱. فصل اول</p> <p>الف. مریخ از سیاره های بیرونی منظومه خورشیدی هست؟ صحیح غلط</p> <p>ب. فاصله هر مکان با مدار استوا بر حسب درجه.....است</p> <p>ج. بر حسب مختصات جغرافیایی ۱۵ W گزیننه صحیح را انتخاب کنید؟</p> <p>۱. طول جغرافیایی (غربی)</p> <p>۲. عرض جغرافیایی (جنوبی)</p> <p>۳. طول جغرافیایی (شرقی)</p> <p>۴. عرض جغرافیایی (شمالی)</p> <p>د. انقلاب زمستانی را توضیح دهید؟</p> <p>و. دلایل پیدایش فصل های مختلف را توضیح دهید؟</p>	۱
۳/۵		<p>فصل دوم</p> <p>الف. گاز های کره زمین شامل کدام از ارکان چهره زمین هست؟</p> <p>۱. بیوسفر</p> <p>۲. لیتوسفر</p> <p>۳. هیدروسفر</p> <p>۴. اتمسفر</p> <p>ب. دره های گرینلند V «شکل هست؟ صحیح. غلط.</p> <p>ج. مهم ترین مناطق صید ماهی جهان.....است.</p> <p>د. بیشتر تغییرات آب و هوا در کدام لایه از جو اتفاق می افتد؟</p> <p>و. سه منطقه مهم آب و هوای در نتیجه زوایه نامساوی خورشید را نام ببرید؟</p>	۲
۳/۵		<p>فصل سوم</p> <p>الف. عناصر.....و.....از مهمترین عناصر آب و هوا بر نوع و میزان پوشش گیاهی هست.</p> <p>ب. ساوان بین کدام زیست بوم ها قرار دارد؟</p> <p>ج. راهکارهای مهم در استفاده صحیح از جنگل های استوایی را نام ببرید؟</p> <p>د. این زیست بوم از نظر تنوع جانوری غنی هست و در طول سال هوا گرم هست؟</p>	۳




بارم	نام و نام خانوادگی: سیدامیرحسین توسلمند کلاس: ۹--۲ شماره صندلی: ۴۵	امتحان درس مطالعات اجتماعی پایه نهم مدرسه هیئت امنایی فرهنگیان متوسطه اول وقت ۶۰ دقیقه تاریخ امتحان ۱۴۰۱/۱۰/۲۴	ردیف
۳/۵		<p>۱. فصل اول</p> <p>الف. مریخ از سیاره های بیرونی منظومه خورشیدی هست؟ صحیح غلط</p> <p>ب. فاصله هر مکان با مدار استوا بر حسب درجه.....است</p> <p>ج. بر حسب مختصات جغرافیایی ۱۵ W گزیننه صحیح را انتخاب کنید؟</p> <p>۱. طول جغرافیایی (غربی)</p> <p>۲. عرض جغرافیایی (جنوبی)</p> <p>۳. طول جغرافیایی (شرقی)</p> <p>۴. عرض جغرافیایی (شمالی)</p> <p>د. انقلاب زمستانی را توضیح دهید؟</p> <p>و. دلایل پیدایش فصل های مختلف را توضیح دهید؟</p>	۱
۳/۵		<p>فصل دوم</p> <p>الف. گاز های کره زمین شامل کدام از ارکان چهره زمین هست؟</p> <p>۱. بیوسفر</p> <p>۲. لیتوسفر</p> <p>۳. هیدروسفر</p> <p>۴. اتمسفر</p> <p>ب. دره های گرینلند V «شکل هست؟ صحیح. غلط.</p> <p>ج. مهم ترین مناطق صید ماهی جهان.....است.</p> <p>د. بیشتر تغییرات آب و هوا در کدام لایه از جو اتفاق می افتد؟</p> <p>و. سه منطقه مهم آب و هوای در نتیجه زوایه نامساوی خورشید را نام ببرید؟</p>	۲
۳/۵		<p>فصل سوم</p> <p>الف. عناصر.....و.....از مهمترین عناصر آب و هوا بر نوع و میزان پوشش گیاهی هست.</p> <p>ب. ساوان بین کدام زیست بوم ها قرار دارد؟</p> <p>ج. راهکارهای مهم در استفاده صحیح از جنگل های استوایی را نام ببرید؟</p> <p>د. این زیست بوم از نظر تنوع جانوری غنی هست و در طول سال هوا گرم هست؟</p>	۳




بارم	نام و نام خانوادگی: امیرحسین تیموری فرد کلاس: ۹--۲ شماره صندلی: ۴۶	امتحان درس مطالعات اجتماعی پایه نهم مدرسه هیئت امنایی فرهنگیان متوسطه اول وقت ۶۰ دقیقه تاریخ امتحان ۱۴۰۱/۱۰/۲۴	ردیف
۳/۵		<p>۱. فصل اول</p> <p>الف. مریخ از سیاره های بیرونی منظومه خورشیدی هست؟ صحیح غلط</p> <p>ب. فاصله هر مکان با مدار استوا بر حسب درجه.....است</p> <p>ج. بر حسب مختصات جغرافیایی ۱۵ W گزیننه صحیح را انتخاب کنید؟</p> <p>۱. طول جغرافیایی (غربی)</p> <p>۲. عرض جغرافیایی (جنوبی)</p> <p>۳. طول جغرافیایی (شرقی)</p> <p>۴. عرض جغرافیایی (شمالی)</p> <p>د. انقلاب زمستانی را توضیح دهید؟</p> <p>و. دلایل پیدایش فصل های مختلف را توضیح دهید؟</p>	۱
۳/۵		<p>فصل دوم</p> <p>الف. گاز های کره زمین شامل کدام از ارکان چهره زمین هست؟</p> <p>۱. بیوسفر</p> <p>۲. لیتوسفر</p> <p>۳. هیدروسفر</p> <p>۴. اتمسفر</p> <p>ب. دره های گرینلند V «شکل هست؟ صحیح. غلط.</p> <p>ج. مهم ترین مناطق صید ماهی جهان.....است.</p> <p>د. بیشتر تغییرات آب و هوا در کدام لایه از جو اتفاق می افتد؟</p> <p>و. سه منطقه مهم آب و هوای در نتیجه زوایه نامساوی خورشید را نام ببرید؟</p>	۲
۳/۵		<p>فصل سوم</p> <p>الف. عناصر.....و.....از مهمترین عناصر آب و هوا بر نوع و میزان پوشش گیاهی هست.</p> <p>ب. ساوان بین کدام زیست بوم ها قرار دارد؟</p> <p>ج. راهکارهای مهم در استفاده صحیح از جنگل های استوایی را نام ببرید؟</p> <p>د. این زیست بوم از نظر تنوع جانوری غنی هست و در طول سال هوا گرم هست؟</p>	۳




بارم	نام و نام خانوادگی: نواب جمال مقدم کلاس: ۹--۲ شماره صندلی: ۴۷	امتحان درس مطالعات اجتماعی پایه نهم مدرسه هیئت امنایی فرهنگیان متوسطه اول وقت ۶۰ دقیقه تاریخ امتحان ۱۴۰۱/۱۰/۲۴	ردیف
۳/۵		<p>۱. فصل اول</p> <p>الف. مریخ از سیاره های بیرونی منظومه خورشیدی هست؟ صحیح غلط</p> <p>ب. فاصله هر مکان با مدار استوا بر حسب درجه.....است</p> <p>ج. بر حسب مختصات جغرافیایی ۱۵ W گزیننه صحیح را انتخاب کنید؟</p> <p>۱. طول جغرافیایی (غربی)</p> <p>۲. عرض جغرافیایی (جنوبی)</p> <p>۳. طول جغرافیایی (شرقی)</p> <p>۴. عرض جغرافیایی (شمالی)</p> <p>د. انقلاب زمستانی را توضیح دهید؟</p> <p>و. دلایل پیدایش فصل های مختلف را توضیح دهید؟</p>	۱
۳/۵		<p>فصل دوم</p> <p>الف. گاز های کره زمین شامل کدام از ارکان چهره زمین هست؟</p> <p>۱. بیوسفر</p> <p>۲. لیتوسفر</p> <p>۳. هیدروسفر</p> <p>۴. اتمسفر</p> <p>ب. دره های گرینلند V «شکل هست؟ صحیح. غلط.</p> <p>ج. مهم ترین مناطق صید ماهی جهان.....است.</p> <p>د. بیشتر تغییرات آب و هوا در کدام لایه از جو اتفاق می افتد؟</p> <p>و. سه منطقه مهم آب و هوای در نتیجه زوایه نامساوی خورشید را نام ببرید؟</p>	۲
۳/۵		<p>فصل سوم</p> <p>الف. عناصر.....و.....از مهمترین عناصر آب و هوا بر نوع و میزان پوشش گیاهی هست.</p> <p>ب. ساوان بین کدام زیست بوم ها قرار دارد؟</p> <p>ج. راهکارهای مهم در استفاده صحیح از جنگل های استوایی را نام ببرید؟</p> <p>د. این زیست بوم از نظر تنوع جانوری غنی هست و در طول سال هوا گرم هست؟</p>	۳




بارم	نام و نام خانوادگی: رضا جوادی علی کلاس: ۹--۲ شماره صندلی: ۴۸	امتحان درس مطالعات اجتماعی پایه نهم مدرسه هیئت امنایی فرهنگیان متوسطه اول وقت ۶۰ دقیقه تاریخ امتحان ۱۴۰۱/۱۰/۲۴	ردیف
۳/۵		<p>۱. فصل اول</p> <p>الف. مریخ از سیاره های بیرونی منظومه خورشیدی هست؟ صحیح غلط</p> <p>ب. فاصله هر مکان با مدار استوا بر حسب درجه.....است</p> <p>ج. بر حسب مختصات جغرافیایی ۱۵ W گزیننه صحیح را انتخاب کنید؟</p> <p>۱. طول جغرافیایی (غربی)</p> <p>۲. عرض جغرافیایی (جنوبی)</p> <p>۳. طول جغرافیایی (شرقی)</p> <p>۴. عرض جغرافیایی (شمالی)</p> <p>د. انقلاب زمستانی را توضیح دهید؟</p> <p>و. دلایل پیدایش فصل های مختلف را توضیح دهید؟</p>	۱
۳/۵		<p>فصل دوم</p> <p>الف. گاز های کره زمین شامل کدام از ارکان چهره زمین هست؟</p> <p>۱. بیوسفر</p> <p>۲. لیتوسفر</p> <p>۳. هیدروسفر</p> <p>۴. اتمسفر</p> <p>ب. دره های گرینلند V «شکل هست؟ صحیح. غلط.</p> <p>ج. مهم ترین مناطق صید ماهی جهان.....است.</p> <p>د. بیشتر تغییرات آب و هوا در کدام لایه از جو اتفاق می افتد؟</p> <p>و. سه منطقه مهم آب و هوای در نتیجه زوایه نامساوی خورشید را نام ببرید؟</p>	۲
۳/۵		<p>فصل سوم</p> <p>الف. عناصر.....و.....از مهمترین عناصر آب و هوا بر نوع و میزان پوشش گیاهی هست.</p> <p>ب. ساوان بین کدام زیست بوم ها قرار دارد؟</p> <p>ج. راهکارهای مهم در استفاده صحیح از جنگل های استوایی را نام ببرید؟</p> <p>د. این زیست بوم از نظر تنوع جانوری غنی هست و در طول سال هوا گرم هست؟</p>	۳




بارم	نام و نام خانوادگی: سینا جوان بخت کلاس: ۹--۲ شماره صندلی: ۴۹	امتحان درس مطالعات اجتماعی پایه نهم مدرسه هیئت امنایی فرهنگیان متوسطه اول وقت ۶۰ دقیقه تاریخ امتحان ۱۴۰۱/۱۰/۲۴	ردیف
۳/۵		<p>۱. فصل اول</p> <p>الف. مریخ از سیاره های بیرونی منظومه خورشیدی هست؟ صحیح غلط</p> <p>ب. فاصله هر مکان با مدار استوا بر حسب درجه.....است</p> <p>ج. بر حسب مختصات جغرافیایی ۱۵ W گزینه صحیح را انتخاب کنید؟</p> <p>۱. طول جغرافیایی (غربی)</p> <p>۲. عرض جغرافیایی (جنوبی)</p> <p>۳. طول جغرافیایی (شرقی)</p> <p>۴. عرض جغرافیایی (شمالی)</p> <p>د. انقلاب زمستانی را توضیح دهید؟</p> <p>و. دلایل پیدایش فصل های مختلف را توضیح دهید؟</p>	۱
۳/۵		<p>فصل دوم</p> <p>الف. گاز های کره زمین شامل کدام از ارکان چهره زمین هست؟</p> <p>۱. بیوسفر</p> <p>۲. لیتوسفر</p> <p>۳. هیدروسفر</p> <p>۴. اتمسفر</p> <p>ب. دره های گرینلند V «شکل هست؟ صحیح. غلط.</p> <p>ج. مهم ترین مناطق صید ماهی جهان.....است.</p> <p>د. بیشتر تغییرات آب و هوا در کدام لایه از جو اتفاق می افتد؟</p> <p>و. سه منطقه مهم آب و هوای در نتیجه زوایه نامساوی خورشید را نام ببرید؟</p>	۲
۳/۵		<p>فصل سوم</p> <p>الف. عناصر.....و.....از مهمترین عناصر آب و هوا بر نوع و میزان پوشش گیاهی هست.</p> <p>ب. ساوان بین کدام زیست بوم ها قرار دارد؟</p> <p>ج. راهکارهای مهم در استفاده صحیح از جنگل های استوایی را نام ببرید؟</p> <p>د. این زیست بوم از نظر تنوع جانوری غنی هست و در طول سال هوا گرم هست؟</p>	۳




بارم	نام و نام خانوادگی: علیرضا حاتمی نژاد کلاس: ۹--۲ شماره صندلی: ۵۰	امتحان درس مطالعات اجتماعی پایه نهم مدرسه هیئت امنایی فرهنگیان متوسطه اول وقت ۶۰ دقیقه تاریخ امتحان ۱۴۰۱/۱۰/۲۴	ردیف
۳/۵		<p>۱. فصل اول</p> <p>الف. مریخ از سیاره های بیرونی منظومه خورشیدی هست؟ صحیح غلط</p> <p>ب. فاصله هر مکان با مدار استوا بر حسب درجه.....است</p> <p>ج. بر حسب مختصات جغرافیایی ۱۵ W گزیننه صحیح را انتخاب کنید؟</p> <p>۱. طول جغرافیایی (غربی)</p> <p>۲. عرض جغرافیایی (جنوبی)</p> <p>۳. طول جغرافیایی (شرقی)</p> <p>۴. عرض جغرافیایی (شمالی)</p> <p>د. انقلاب زمستانی را توضیح دهید؟</p> <p>و. دلایل پیدایش فصل های مختلف را توضیح دهید؟</p>	۱
۳/۵		<p>فصل دوم</p> <p>الف. گاز های کره زمین شامل کدام از ارکان چهره زمین هست؟</p> <p>۱. بیوسفر</p> <p>۲. لیتوسفر</p> <p>۳. هیدروسفر</p> <p>۴. اتمسفر</p> <p>ب. دره های گرینلند V «شکل هست؟ صحیح. غلط.</p> <p>ج. مهم ترین مناطق صید ماهی جهان.....است.</p> <p>د. بیشتر تغییرات آب و هوا در کدام لایه از جو اتفاق می افتد؟</p> <p>و. سه منطقه مهم آب و هوای در نتیجه زوایه نامساوی خورشید را نام ببرید؟</p>	۲
۳/۵		<p>فصل سوم</p> <p>الف. عناصر.....و.....از مهمترین عناصر آب و هوا بر نوع و میزان پوشش گیاهی هست.</p> <p>ب. ساوان بین کدام زیست بوم ها قرار دارد؟</p> <p>ج. راهکارهای مهم در استفاده صحیح از جنگل های استوایی را نام ببرید؟</p> <p>د. این زیست بوم از نظر تنوع جانوری غنی هست و در طول سال هوا گرم هست؟</p>	۳



بارم	نام و نام خانوادگی: ابوالفضل رادمهر کلاس: ۹--۲ شماره صندلی: ۵۱	امتحان درس مطالعات اجتماعی پایه نهم مدرسه هیئت امنایی فرهنگیان متوسطه اول وقت ۶۰ دقیقه تاریخ امتحان ۱۴۰۱/۱۰/۲۴	ردیف
۳/۵		<p>۱. فصل اول</p> <p>الف. مریخ از سیاره های بیرونی منظومه خورشیدی هست؟ صحیح غلط</p> <p>ب. فاصله هر مکان با مدار استوا بر حسب درجه.....است</p> <p>ج. بر حسب مختصات جغرافیایی ۱۵ W گزیننه صحیح را انتخاب کنید؟</p> <p>۱. طول جغرافیایی (غربی)</p> <p>۲. عرض جغرافیایی (جنوبی)</p> <p>۳. طول جغرافیایی (شرقی)</p> <p>۴. عرض جغرافیایی (شمالی)</p> <p>د. انقلاب زمستانی را توضیح دهید؟</p> <p>و. دلایل پیدایش فصل های مختلف را توضیح دهید؟</p>	۱
۳/۵		<p>فصل دوم</p> <p>الف. گاز های کره زمین شامل کدام از ارکان چهره زمین هست؟</p> <p>۱. بیوسفر</p> <p>۲. لیتوسفر</p> <p>۳. هیدروسفر</p> <p>۴. اتمسفر</p> <p>ب. دره های گرینلند V «شکل هست؟ صحیح. غلط.</p> <p>ج. مهم ترین مناطق صید ماهی جهان.....است.</p> <p>د. بیشتر تغییرات آب و هوا در کدام لایه از جو اتفاق می افتد؟</p> <p>و. سه منطقه مهم آب و هوای در نتیجه زوایه نامساوی خورشید را نام ببرید؟</p>	۲
۳/۵		<p>فصل سوم</p> <p>الف. عناصر.....و.....از مهمترین عناصر آب و هوا بر نوع و میزان پوشش گیاهی هست.</p> <p>ب. ساوان بین کدام زیست بوم ها قرار دارد؟</p> <p>ج. راهکارهای مهم در استفاده صحیح از جنگل های استوایی را نام ببرید؟</p> <p>د. این زیست بوم از نظر تنوع جانوری غنی هست و در طول سال هوا گرم هست؟</p>	۳




بارم	نام و نام خانوادگی: محسن حسن ابراهیمی کلاس: ۹--۲ شماره صندلی: ۵۲	امتحان درس مطالعات اجتماعی پایه نهم مدرسه هیئت امنایی فرهنگیان متوسطه اول وقت ۶۰ دقیقه تاریخ امتحان ۱۴۰۱/۱۰/۲۴	ردیف
۳/۵		<p>۱. فصل اول</p> <p>الف. مریخ از سیاره های بیرونی منظومه خورشیدی هست؟ صحیح غلط</p> <p>ب. فاصله هر مکان با مدار استوا بر حسب درجه.....است</p> <p>ج. بر حسب مختصات جغرافیایی ۱۵ W گزیننه صحیح را انتخاب کنید؟</p> <p>۱. طول جغرافیایی (غربی)</p> <p>۲. عرض جغرافیایی (جنوبی)</p> <p>۳. طول جغرافیایی (شرقی)</p> <p>۴. عرض جغرافیایی (شمالی)</p> <p>د. انقلاب زمستانی را توضیح دهید؟</p> <p>و. دلایل پیدایش فصل های مختلف را توضیح دهید؟</p>	۱
۳/۵		<p>فصل دوم</p> <p>الف. گاز های کره زمین شامل کدام از ارکان چهره زمین هست؟</p> <p>۱. بیوسفر</p> <p>۲. لیتوسفر</p> <p>۳. هیدروسفر</p> <p>۴. اتمسفر</p> <p>ب. دره های گرینلند V «شکل هست؟ صحیح. غلط.</p> <p>ج. مهم ترین مناطق صید ماهی جهان.....است.</p> <p>د. بیشتر تغییرات آب و هوا در کدام لایه از جو اتفاق می افتد؟</p> <p>و. سه منطقه مهم آب و هوای در نتیجه زوایه نامساوی خورشید را نام ببرید؟</p>	۲
۳/۵		<p>فصل سوم</p> <p>الف. عناصر.....و.....از مهمترین عناصر آب و هوا بر نوع و میزان پوشش گیاهی هست.</p> <p>ب. ساوان بین کدام زیست بوم ها قرار دارد؟</p> <p>ج. راهکارهای مهم در استفاده صحیح از جنگل های استوایی را نام ببرید؟</p> <p>د. این زیست بوم از نظر تنوع جانوری غنی هست و در طول سال هوا گرم هست؟</p>	۳




بارم	نام و نام خانوادگی: سیدامیرمهدی حسن زاده کلاس: ۹--۲ شماره صندلی: ۵۳	امتحان درس مطالعات اجتماعی پایه نهم مدرسه هیئت امنایی فرهنگیان متوسطه اول وقت ۶۰ دقیقه تاریخ امتحان ۱۴۰۱/۱۰/۲۴	ردیف
۳/۵		<p>۱. فصل اول</p> <p>الف. مریخ از سیاره های بیرونی منظومه خورشیدی هست؟ صحیح غلط</p> <p>ب. فاصله هر مکان با مدار استوا بر حسب درجه.....است</p> <p>ج. بر حسب مختصات جغرافیایی ۱۵ W گزیننه صحیح را انتخاب کنید؟</p> <p>۱. طول جغرافیایی (غربی)</p> <p>۲. عرض جغرافیایی (جنوبی)</p> <p>۳. طول جغرافیایی (شرقی)</p> <p>۴. عرض جغرافیایی (شمالی)</p> <p>د. انقلاب زمستانی را توضیح دهید؟</p> <p>و. دلایل پیدایش فصل های مختلف را توضیح دهید؟</p>	۱
۳/۵		<p>فصل دوم</p> <p>الف. گاز های کره زمین شامل کدام از ارکان چهره زمین هست؟</p> <p>۱. بیوسفر</p> <p>۲. لیتوسفر</p> <p>۳. هیدروسفر</p> <p>۴. اتمسفر</p> <p>ب. دره های گرینلند V «شکل هست؟ صحیح. غلط.</p> <p>ج. مهم ترین مناطق صید ماهی جهان.....است.</p> <p>د. بیشتر تغییرات آب و هوا در کدام لایه از جو اتفاق می افتد؟</p> <p>و. سه منطقه مهم آب و هوای در نتیجه زوایه نامساوی خورشید را نام ببرید؟</p>	۲
۳/۵		<p>فصل سوم</p> <p>الف. عناصر.....و.....از مهمترین عناصر آب و هوا بر نوع و میزان پوشش گیاهی هست.</p> <p>ب. ساوان بین کدام زیست بوم ها قرار دارد؟</p> <p>ج. راهکارهای مهم در استفاده صحیح از جنگل های استوایی را نام ببرید؟</p> <p>د. این زیست بوم از نظر تنوع جانوری غنی هست و در طول سال هوا گرم هست؟</p>	۳




بارم	نام و نام خانوادگی: سیدامیرمسعود حسینی صفت کلاس: ۹--۲ شماره صندلی: ۵۴	امتحان درس مطالعات اجتماعی پایه نهم مدرسه هیئت امنایی فرهنگیان متوسطه اول وقت ۶۰ دقیقه تاریخ امتحان ۱۴۰۱/۱۰/۲۴	ردیف
۳/۵		<p>۱. فصل اول</p> <p>الف. مریخ از سیاره های بیرونی منظومه خورشیدی هست؟ صحیح غلط</p> <p>ب. فاصله هر مکان با مدار استوا بر حسب درجه.....است</p> <p>ج. بر حسب مختصات جغرافیایی ۱۵ W گزیننه صحیح را انتخاب کنید؟</p> <p>۱. طول جغرافیایی (غربی)</p> <p>۲. عرض جغرافیایی (جنوبی)</p> <p>۳. طول جغرافیایی (شرقی)</p> <p>۴. عرض جغرافیایی (شمالی)</p> <p>د. انقلاب زمستانی را توضیح دهید؟</p> <p>و. دلایل پیدایش فصل های مختلف را توضیح دهید؟</p>	۱
۳/۵		<p>فصل دوم</p> <p>الف. گاز های کره زمین شامل کدام از ارکان چهره زمین هست؟</p> <p>۱. بیوسفر</p> <p>۲. لیتوسفر</p> <p>۳. هیدروسفر</p> <p>۴. اتمسفر</p> <p>ب. دره های گرینلند V «شکل هست؟ صحیح. غلط.</p> <p>ج. مهم ترین مناطق صید ماهی جهان.....است.</p> <p>د. بیشتر تغییرات آب و هوا در کدام لایه از جو اتفاق می افتد؟</p> <p>و. سه منطقه مهم آب و هوای در نتیجه زوایه نامساوی خورشید را نام ببرید؟</p>	۲
۳/۵		<p>فصل سوم</p> <p>الف. عناصر.....و.....از مهمترین عناصر آب و هوا بر نوع و میزان پوشش گیاهی هست.</p> <p>ب. ساوان بین کدام زیست بوم ها قرار دارد؟</p> <p>ج. راهکارهای مهم در استفاده صحیح از جنگل های استوایی را نام ببرید؟</p> <p>د. این زیست بوم از نظر تنوع جانوری غنی هست و در طول سال هوا گرم هست؟</p>	۳




بارم	نام و نام خانوادگی: آریین حسینیان بلکو کلاس: ۹--۲ شماره صندلی: ۵۵	امتحان درس مطالعات اجتماعی پایه نهم مدرسه هیئت امنایی فرهنگیان متوسطه اول وقت ۶۰ دقیقه تاریخ امتحان ۱۴۰۱/۱۰/۲۴	ردیف
۳/۵		<p>۱. فصل اول</p> <p>الف. مریخ از سیاره های بیرونی منظومه خورشیدی هست؟ صحیح غلط</p> <p>ب. فاصله هر مکان با مدار استوا بر حسب درجه.....است</p> <p>ج. بر حسب مختصات جغرافیایی ۱۵ W گزینه صحیح را انتخاب کنید؟</p> <p>۱. طول جغرافیایی (غربی)</p> <p>۲. عرض جغرافیایی (جنوبی)</p> <p>۳. طول جغرافیایی (شرقی)</p> <p>۴. عرض جغرافیایی (شمالی)</p> <p>د. انقلاب زمستانی را توضیح دهید؟</p> <p>و. دلایل پیدایش فصل های مختلف را توضیح دهید؟</p>	۱
۳/۵		<p>فصل دوم</p> <p>الف. گاز های کره زمین شامل کدام از ارکان چهره زمین هست؟</p> <p>۱. بیوسفر</p> <p>۲. لیتوسفر</p> <p>۳. هیدروسفر</p> <p>۴. اتمسفر</p> <p>ب. دره های گرینلند V «شکل هست؟ صحیح. غلط.</p> <p>ج. مهم ترین مناطق صید ماهی جهان.....است.</p> <p>د. بیشتر تغییرات آب و هوا در کدام لایه از جو اتفاق می افتد؟</p> <p>و. سه منطقه مهم آب و هوای در نتیجه زوایه نامساوی خورشید را نام ببرید؟</p>	۲
۳/۵		<p>فصل سوم</p> <p>الف. عناصر.....و.....از مهمترین عناصر آب و هوا بر نوع و میزان پوشش گیاهی هست.</p> <p>ب. ساوان بین کدام زیست بوم ها قرار دارد؟</p> <p>ج. راهکارهای مهم در استفاده صحیح از جنگل های استوایی را نام ببرید؟</p> <p>د. این زیست بوم از نظر تنوع جانوری غنی هست و در طول سال هوا گرم هست؟</p>	۳




بارم	نام و نام خانوادگی: وحید حشمتیان کلاس: ۹--۲ شماره صندلی: ۵۶	امتحان درس مطالعات اجتماعی پایه نهم مدرسه هیئت امنایی فرهنگیان متوسطه اول وقت ۶۰ دقیقه تاریخ امتحان ۱۴۰۱/۱۰/۲۴	ردیف
۳/۵		<p>۱. فصل اول</p> <p>الف. مریخ از سیاره های بیرونی منظومه خورشیدی هست؟ صحیح غلط</p> <p>ب. فاصله هر مکان با مدار استوا بر حسب درجه.....است</p> <p>ج. بر حسب مختصات جغرافیایی ۱۵ W گزیننه صحیح را انتخاب کنید؟</p> <p>۱. طول جغرافیایی (غربی)</p> <p>۲. عرض جغرافیایی (جنوبی)</p> <p>۳. طول جغرافیایی (شرقی)</p> <p>۴. عرض جغرافیایی (شمالی)</p> <p>د. انقلاب زمستانی را توضیح دهید؟</p> <p>و. دلایل پیدایش فصل های مختلف را توضیح دهید؟</p>	۱
۳/۵		<p>فصل دوم</p> <p>الف. گاز های کره زمین شامل کدام از ارکان چهره زمین هست؟</p> <p>۱. بیوسفر</p> <p>۲. لیتوسفر</p> <p>۳. هیدروسفر</p> <p>۴. اتمسفر</p> <p>ب. دره های گرینلند V «شکل هست؟ صحیح. غلط.</p> <p>ج. مهم ترین مناطق صید ماهی جهان.....است.</p> <p>د. بیشتر تغییرات آب و هوا در کدام لایه از جو اتفاق می افتد؟</p> <p>و. سه منطقه مهم آب و هوای در نتیجه زوایه نامساوی خورشید را نام ببرید؟</p>	۲
۳/۵		<p>فصل سوم</p> <p>الف. عناصر.....و.....از مهمترین عناصر آب و هوا بر نوع و میزان پوشش گیاهی هست.</p> <p>ب. ساوان بین کدام زیست بوم ها قرار دارد؟</p> <p>ج. راهکارهای مهم در استفاده صحیح از جنگل های استوایی را نام ببرید؟</p> <p>د. این زیست بوم از نظر تنوع جانوری غنی هست و در طول سال هوا گرم هست؟</p>	۳



بارم	نام و نام خانوادگی: امیرحسین حکمت نیا کلاس: ۹--۲ شماره صندلی: ۵۷	امتحان درس مطالعات اجتماعی پایه نهم مدرسه هیئت امنایی فرهنگیان متوسطه اول وقت ۶۰ دقیقه تاریخ امتحان ۱۴۰۱/۱۰/۲۴	ردیف
۳/۵		<p>۱. فصل اول</p> <p>الف. مریخ از سیاره های بیرونی منظومه خورشیدی هست؟ صحیح غلط</p> <p>ب. فاصله هر مکان با مدار استوا بر حسب درجه.....است</p> <p>ج. بر حسب مختصات جغرافیایی ۱۵ W گزیننه صحیح را انتخاب کنید؟</p> <p>۱. طول جغرافیایی (غربی)</p> <p>۲. عرض جغرافیایی (جنوبی)</p> <p>۳. طول جغرافیایی (شرقی)</p> <p>۴. عرض جغرافیایی (شمالی)</p> <p>د. انقلاب زمستانی را توضیح دهید؟</p> <p>و. دلایل پیدایش فصل های مختلف را توضیح دهید؟</p>	۱
۳/۵		<p>فصل دوم</p> <p>الف. گاز های کره زمین شامل کدام از ارکان چهره زمین هست؟</p> <p>۱. بیوسفر</p> <p>۲. لیتوسفر</p> <p>۳. هیدروسفر</p> <p>۴. اتمسفر</p> <p>ب. دره های گرینلند V «شکل هست؟ صحیح. غلط.</p> <p>ج. مهم ترین مناطق صید ماهی جهان.....است.</p> <p>د. بیشتر تغییرات آب و هوا در کدام لایه از جو اتفاق می افتد؟</p> <p>و. سه منطقه مهم آب و هوای در نتیجه زوایه نامساوی خورشید را نام ببرید؟</p>	۲
۳/۵		<p>فصل سوم</p> <p>الف. عناصر.....و.....از مهمترین عناصر آب و هوا بر نوع و میزان پوشش گیاهی هست.</p> <p>ب. ساوان بین کدام زیست بوم ها قرار دارد؟</p> <p>ج. راهکارهای مهم در استفاده صحیح از جنگل های استوایی را نام ببرید؟</p> <p>د. این زیست بوم از نظر تنوع جانوری غنی هست و در طول سال هوا گرم هست؟</p>	۳




بارم	نام و نام خانوادگی: یاسین خادمی منش کلاس: ۹--۲ شماره صندلی: ۵۸	امتحان درس مطالعات اجتماعی پایه نهم مدرسه هیئت امنایی فرهنگیان متوسطه اول وقت ۶۰ دقیقه تاریخ امتحان ۱۴۰۱/۱۰/۲۴	ردیف
۳/۵		<p>۱. فصل اول</p> <p>الف. مریخ از سیاره های بیرونی منظومه خورشیدی هست؟ صحیح غلط</p> <p>ب. فاصله هر مکان با مدار استوا بر حسب درجه.....است</p> <p>ج. بر حسب مختصات جغرافیایی ۱۵ W گزیننه صحیح را انتخاب کنید؟</p> <p>۱. طول جغرافیایی (غربی)</p> <p>۲. عرض جغرافیایی (جنوبی)</p> <p>۳. طول جغرافیایی (شرقی)</p> <p>۴. عرض جغرافیایی (شمالی)</p> <p>د. انقلاب زمستانی را توضیح دهید؟</p> <p>و. دلایل پیدایش فصل های مختلف را توضیح دهید؟</p>	۱
۳/۵		<p>فصل دوم</p> <p>الف. گاز های کره زمین شامل کدام از ارکان چهره زمین هست؟</p> <p>۱. بیوسفر</p> <p>۲. لیتوسفر</p> <p>۳. هیدروسفر</p> <p>۴. اتمسفر</p> <p>ب. دره های گرینلند V «شکل هست؟ صحیح. غلط.</p> <p>ج. مهم ترین مناطق صید ماهی جهان.....است.</p> <p>د. بیشتر تغییرات آب و هوا در کدام لایه از جو اتفاق می افتد؟</p> <p>و. سه منطقه مهم آب و هوای در نتیجه زوایه نامساوی خورشید را نام ببرید؟</p>	۲
۳/۵		<p>فصل سوم</p> <p>الف. عناصر.....و.....از مهمترین عناصر آب و هوا بر نوع و میزان پوشش گیاهی هست.</p> <p>ب. ساوان بین کدام زیست بوم ها قرار دارد؟</p> <p>ج. راهکارهای مهم در استفاده صحیح از جنگل های استوایی را نام ببرید؟</p> <p>د. این زیست بوم از نظر تنوع جانوری غنی هست و در طول سال هوا گرم هست؟</p>	۳




بارم	نام و نام خانوادگی: امین خرم روز کلاس: ۹--۲ شماره صندلی: ۵۹	امتحان درس مطالعات اجتماعی پایه نهم مدرسه هیئت امنایی فرهنگیان متوسطه اول وقت ۶۰ دقیقه تاریخ امتحان ۱۴۰۱/۱۰/۲۴	ردیف
۳/۵		<p>۱. فصل اول</p> <p>الف. مریخ از سیاره های بیرونی منظومه خورشیدی هست؟ صحیح غلط</p> <p>ب. فاصله هر مکان با مدار استوا بر حسب درجه.....است</p> <p>ج. بر حسب مختصات جغرافیایی ۱۵ W گزیننه صحیح را انتخاب کنید؟</p> <p>۱. طول جغرافیایی (غربی)</p> <p>۲. عرض جغرافیایی (جنوبی)</p> <p>۳. طول جغرافیایی (شرقی)</p> <p>۴. عرض جغرافیایی (شمالی)</p> <p>د. انقلاب زمستانی را توضیح دهید؟</p> <p>و. دلایل پیدایش فصل های مختلف را توضیح دهید؟</p>	۱
۳/۵		<p>فصل دوم</p> <p>الف. گاز های کره زمین شامل کدام از ارکان چهره زمین هست؟</p> <p>۱. بیوسفر</p> <p>۲. لیتوسفر</p> <p>۳. هیدروسفر</p> <p>۴. اتمسفر</p> <p>ب. دره های گرینلند V «شکل هست؟ صحیح. غلط.</p> <p>ج. مهم ترین مناطق صید ماهی جهان.....است.</p> <p>د. بیشتر تغییرات آب و هوا در کدام لایه از جو اتفاق می افتد؟</p> <p>و. سه منطقه مهم آب و هوای در نتیجه زوایه نامساوی خورشید را نام ببرید؟</p>	۲
۳/۵		<p>فصل سوم</p> <p>الف. عناصر.....و.....از مهمترین عناصر آب و هوا بر نوع و میزان پوشش گیاهی هست.</p> <p>ب. ساوان بین کدام زیست بوم ها قرار دارد؟</p> <p>ج. راهکارهای مهم در استفاده صحیح از جنگل های استوایی را نام ببرید؟</p> <p>د. این زیست بوم از نظر تنوع جانوری غنی هست و در طول سال هوا گرم هست؟</p>	۳




بارم	نام و نام خانوادگی: رضا خرمروزی سیدعلی کلاس: ۹--۲ شماره صندلی: ۶۰	امتحان درس مطالعات اجتماعی پایه نهم مدرسه هیئت امنایی فرهنگیان متوسطه اول وقت ۶۰ دقیقه تاریخ امتحان ۱۴۰۱/۱۰/۲۴	ردیف
۳/۵		<p>۱. فصل اول</p> <p>الف. مریخ از سیاره های بیرونی منظومه خورشیدی هست؟ صحیح غلط</p> <p>ب. فاصله هر مکان با مدار استوا بر حسب درجه.....است</p> <p>ج. بر حسب مختصات جغرافیایی ۱۵ W گزیننه صحیح را انتخاب کنید؟</p> <p>۱. طول جغرافیایی (غربی)</p> <p>۲. عرض جغرافیایی (جنوبی)</p> <p>۳. طول جغرافیایی (شرقی)</p> <p>۴. عرض جغرافیایی (شمالی)</p> <p>د. انقلاب زمستانی را توضیح دهید؟</p> <p>و. دلایل پیدایش فصل های مختلف را توضیح دهید؟</p>	۱
۳/۵		<p>فصل دوم</p> <p>الف. گاز های کره زمین شامل کدام از ارکان چهره زمین هست؟</p> <p>۱. بیوسفر</p> <p>۲. لیتوسفر</p> <p>۳. هیدروسفر</p> <p>۴. اتمسفر</p> <p>ب. دره های گرینلند V «شکل هست؟ صحیح. غلط.</p> <p>ج. مهم ترین مناطق صید ماهی جهان.....است.</p> <p>د. بیشتر تغییرات آب و هوا در کدام لایه از جو اتفاق می افتد؟</p> <p>و. سه منطقه مهم آب و هوای در نتیجه زوایه نامساوی خورشید را نام ببرید؟</p>	۲
۳/۵		<p>فصل سوم</p> <p>الف. عناصر.....و.....از مهمترین عناصر آب و هوا بر نوع و میزان پوشش گیاهی هست.</p> <p>ب. ساوان بین کدام زیست بوم ها قرار دارد؟</p> <p>ج. راهکارهای مهم در استفاده صحیح از جنگل های استوایی را نام ببرید؟</p> <p>د. این زیست بوم از نظر تنوع جانوری غنی هست و در طول سال هوا گرم هست؟</p>	۳




بارم	نام و نام خانوادگی: محمد خشت زر کلاس: ۹--۲ شماره صندلی: ۶۱	امتحان درس مطالعات اجتماعی پایه نهم مدرسه هیئت امنایی فرهنگیان متوسطه اول وقت ۶۰ دقیقه تاریخ امتحان ۱۴۰۱/۱۰/۲۴	ردیف
۳/۵		<p>۱. فصل اول</p> <p>الف. مریخ از سیاره های بیرونی منظومه خورشیدی هست؟ صحیح غلط</p> <p>ب. فاصله هر مکان با مدار استوا بر حسب درجه.....است</p> <p>ج. بر حسب مختصات جغرافیایی ۱۵ W گزینه صحیح را انتخاب کنید؟</p> <p>۱. طول جغرافیایی (غربی)</p> <p>۲. عرض جغرافیایی (جنوبی)</p> <p>۳. طول جغرافیایی (شرقی)</p> <p>۴. عرض جغرافیایی (شمالی)</p> <p>د. انقلاب زمستانی را توضیح دهید؟</p> <p>و. دلایل پیدایش فصل های مختلف را توضیح دهید؟</p>	۱
۳/۵		<p>فصل دوم</p> <p>الف. گاز های کره زمین شامل کدام از ارکان چهره زمین هست؟</p> <p>۱. بیوسفر</p> <p>۲. لیتوسفر</p> <p>۳. هیدروسفر</p> <p>۴. اتمسفر</p> <p>ب. دره های گرینلند V «شکل هست؟ صحیح. غلط.</p> <p>ج. مهم ترین مناطق صید ماهی جهان.....است.</p> <p>د. بیشتر تغییرات آب و هوا در کدام لایه از جو اتفاق می افتد؟</p> <p>و. سه منطقه مهم آب و هوای در نتیجه زوایه نامساوی خورشید را نام ببرید؟</p>	۲
۳/۵		<p>فصل سوم</p> <p>الف. عناصر.....و.....از مهمترین عناصر آب و هوا بر نوع و میزان پوشش گیاهی هست.</p> <p>ب. ساوان بین کدام زیست بوم ها قرار دارد؟</p> <p>ج. راهکارهای مهم در استفاده صحیح از جنگل های استوایی را نام ببرید؟</p> <p>د. این زیست بوم از نظر تنوع جانوری غنی هست و در طول سال هوا گرم هست؟</p>	۳




بارم	نام و نام خانوادگی: امیرحسین خشنود کلاس: ۹--۲ شماره صندلی: ۶۲	امتحان درس مطالعات اجتماعی پایه نهم مدرسه هیئت امنایی فرهنگیان متوسطه اول وقت ۶۰ دقیقه تاریخ امتحان ۱۴۰۱/۱۰/۲۴	ردیف
۳/۵		<p>۱. فصل اول</p> <p>الف. مریخ از سیاره های بیرونی منظومه خورشیدی هست؟ صحیح غلط</p> <p>ب. فاصله هر مکان با مدار استوا بر حسب درجه.....است</p> <p>ج. بر حسب مختصات جغرافیایی ۱۵ W گزینه صحیح را انتخاب کنید؟</p> <p>۱. طول جغرافیایی (غربی)</p> <p>۲. عرض جغرافیایی (جنوبی)</p> <p>۳. طول جغرافیایی (شرقی)</p> <p>۴. عرض جغرافیایی (شمالی)</p> <p>د. انقلاب زمستانی را توضیح دهید؟</p> <p>و. دلایل پیدایش فصل های مختلف را توضیح دهید؟</p>	۱
۳/۵		<p>فصل دوم</p> <p>الف. گاز های کره زمین شامل کدام از ارکان چهره زمین هست؟</p> <p>۱. بیوسفر</p> <p>۲. لیتوسفر</p> <p>۳. هیدروسفر</p> <p>۴. اتمسفر</p> <p>ب. دره های گرینلند V «شکل هست؟ صحیح. غلط.</p> <p>ج. مهم ترین مناطق صید ماهی جهان.....است.</p> <p>د. بیشتر تغییرات آب و هوا در کدام لایه از جو اتفاق می افتد؟</p> <p>و. سه منطقه مهم آب و هوای در نتیجه زوایه نامساوی خورشید را نام ببرید؟</p>	۲
۳/۵		<p>فصل سوم</p> <p>الف. عناصر.....و.....از مهمترین عناصر آب و هوا بر نوع و میزان پوشش گیاهی هست.</p> <p>ب. ساوان بین کدام زیست بوم ها قرار دارد؟</p> <p>ج. راهکارهای مهم در استفاده صحیح از جنگل های استوایی را نام ببرید؟</p> <p>د. این زیست بوم از نظر تنوع جانوری غنی هست و در طول سال هوا گرم هست؟</p>	۳




بارم	نام و نام خانوادگی: پدرام دادی حسن آباد کلاس: ۹--۲ شماره صندلی: ۶۳	امتحان درس مطالعات اجتماعی پایه نهم مدرسه هیئت امنایی فرهنگیان متوسطه اول وقت ۶۰ دقیقه تاریخ امتحان ۱۴۰۱/۱۰/۲۴	ردیف
۳/۵		<p>۱. فصل اول</p> <p>الف. مریخ از سیاره های بیرونی منظومه خورشیدی هست؟ صحیح غلط</p> <p>ب. فاصله هر مکان با مدار استوا بر حسب درجه.....است</p> <p>ج. بر حسب مختصات جغرافیایی ۱۵ W گزیننه صحیح را انتخاب کنید؟</p> <p>۱. طول جغرافیایی (غربی)</p> <p>۲. عرض جغرافیایی (جنوبی)</p> <p>۳. طول جغرافیایی (شرقی)</p> <p>۴. عرض جغرافیایی (شمالی)</p> <p>د. انقلاب زمستانی را توضیح دهید؟</p> <p>و. دلایل پیدایش فصل های مختلف را توضیح دهید؟</p>	۱
۳/۵		<p>فصل دوم</p> <p>الف. گاز های کره زمین شامل کدام از ارکان چهره زمین هست؟</p> <p>۱. بیوسفر</p> <p>۲. لیتوسفر</p> <p>۳. هیدروسفر</p> <p>۴. اتمسفر</p> <p>ب. دره های گرینلند V «شکل هست؟ صحیح. غلط.</p> <p>ج. مهم ترین مناطق صید ماهی جهان.....است.</p> <p>د. بیشتر تغییرات آب و هوا در کدام لایه از جو اتفاق می افتد؟</p> <p>و. سه منطقه مهم آب و هوای در نتیجه زوایه نامساوی خورشید را نام ببرید؟</p>	۲
۳/۵		<p>فصل سوم</p> <p>الف. عناصر.....و.....از مهمترین عناصر آب و هوا بر نوع و میزان پوشش گیاهی هست.</p> <p>ب. ساوان بین کدام زیست بوم ها قرار دارد؟</p> <p>ج. راهکارهای مهم در استفاده صحیح از جنگل های استوایی را نام ببرید؟</p> <p>د. این زیست بوم از نظر تنوع جانوری غنی هست و در طول سال هوا گرم هست؟</p>	۳




بارم	نام و نام خانوادگی: محمدطاها دانش آموز کلاس: ۳--۹ شماره صندلی: ۶۴	امتحان درس مطالعات اجتماعی پایه نهم مدرسه هیئت امنایی فرهنگیان متوسطه اول وقت ۶۰ دقیقه تاریخ امتحان ۱۴۰۱/۱۰/۲۴	ردیف
۳/۵		<p>۱. فصل اول</p> <p>الف. مریخ از سیاره های بیرونی منظومه خورشیدی هست؟ صحیح غلط</p> <p>ب. فاصله هر مکان با مدار استوا بر حسب درجه.....است</p> <p>ج. بر حسب مختصات جغرافیایی ۱۵ W گزیننه صحیح را انتخاب کنید؟</p> <p>۱. طول جغرافیایی (غربی)</p> <p>۲. عرض جغرافیایی (جنوبی)</p> <p>۳. طول جغرافیایی (شرقی)</p> <p>۴. عرض جغرافیایی (شمالی)</p> <p>د. انقلاب زمستانی را توضیح دهید؟</p> <p>و. دلایل پیدایش فصل های مختلف را توضیح دهید؟</p>	۱
۳/۵		<p>فصل دوم</p> <p>الف. گاز های کره زمین شامل کدام از ارکان چهره زمین هست؟</p> <p>۱. بیوسفر</p> <p>۲. لیتوسفر</p> <p>۳. هیدروسفر</p> <p>۴. اتمسفر</p> <p>ب. دره های گرینلند V «شکل هست؟ صحیح. غلط.</p> <p>ج. مهم ترین مناطق صید ماهی جهان.....است.</p> <p>د. بیشتر تغییرات آب و هوا در کدام لایه از جو اتفاق می افتد؟</p> <p>و. سه منطقه مهم آب و هوای در نتیجه زوایه نامساوی خورشید را نام ببرید؟</p>	۲
۳/۵		<p>فصل سوم</p> <p>الف. عناصر.....و.....از مهمترین عناصر آب و هوا بر نوع و میزان پوشش گیاهی هست.</p> <p>ب. ساوان بین کدام زیست بوم ها قرار دارد؟</p> <p>ج. راهکارهای مهم در استفاده صحیح از جنگل های استوایی را نام ببرید؟</p> <p>د. این زیست بوم از نظر تنوع جانوری غنی هست و در طول سال هوا گرم هست؟</p>	۳




بارم	نام و نام خانوادگی: محمد دانش پایه کلاس: ۳--۹ شماره صندلی: ۶۵	امتحان درس مطالعات اجتماعی پایه نهم مدرسه هیئت امنایی فرهنگیان متوسطه اول وقت ۶۰ دقیقه تاریخ امتحان ۱۴۰۱/۱۰/۲۴	ردیف
۳/۵		<p>۱. فصل اول</p> <p>الف. مریخ از سیاره های بیرونی منظومه خورشیدی هست؟ صحیح غلط</p> <p>ب. فاصله هر مکان با مدار استوا بر حسب درجه.....است</p> <p>ج. بر حسب مختصات جغرافیایی ۱۵ W گزیننه صحیح را انتخاب کنید؟</p> <p>۱. طول جغرافیایی (غربی)</p> <p>۲. عرض جغرافیایی (جنوبی)</p> <p>۳. طول جغرافیایی (شرقی)</p> <p>۴. عرض جغرافیایی (شمالی)</p> <p>د. انقلاب زمستانی را توضیح دهید؟</p> <p>و. دلایل پیدایش فصل های مختلف را توضیح دهید؟</p>	۱
۳/۵		<p>فصل دوم</p> <p>الف. گاز های کره زمین شامل کدام از ارکان چهره زمین هست؟</p> <p>۱. بیوسفر</p> <p>۲. لیتوسفر</p> <p>۳. هیدروسفر</p> <p>۴. اتمسفر</p> <p>ب. دره های گرینلند V «شکل هست؟ صحیح. غلط.</p> <p>ج. مهم ترین مناطق صید ماهی جهان.....است.</p> <p>د. بیشتر تغییرات آب و هوا در کدام لایه از جو اتفاق می افتد؟</p> <p>و. سه منطقه مهم آب و هوای در نتیجه زوایه نامساوی خورشید را نام ببرید؟</p>	۲
۳/۵		<p>فصل سوم</p> <p>الف. عناصر.....و.....از مهمترین عناصر آب و هوا بر نوع و میزان پوشش گیاهی هست.</p> <p>ب. ساوان بین کدام زیست بوم ها قرار دارد؟</p> <p>ج. راهکارهای مهم در استفاده صحیح از جنگل های استوایی را نام ببرید؟</p> <p>د. این زیست بوم از نظر تنوع جانوری غنی هست و در طول سال هوا گرم هست؟</p>	۳




بارم	نام و نام خانوادگی: پویا درخشانیان کلاس: ۹--۳ شماره صندلی: ۶۶	امتحان درس مطالعات اجتماعی پایه نهم مدرسه هیئت امنایی فرهنگیان متوسطه اول وقت ۶۰ دقیقه تاریخ امتحان ۱۴۰۱/۱۰/۲۴	ردیف
۳/۵		<p>۱. فصل اول</p> <p>الف. مریخ از سیاره های بیرونی منظومه خورشیدی هست؟ صحیح غلط</p> <p>ب. فاصله هر مکان با مدار استوا بر حسب درجه.....است</p> <p>ج. بر حسب مختصات جغرافیایی ۱۵ W گزینه صحیح را انتخاب کنید؟</p> <p>۱. طول جغرافیایی (غربی)</p> <p>۲. عرض جغرافیایی (جنوبی)</p> <p>۳. طول جغرافیایی (شرقی)</p> <p>۴. عرض جغرافیایی (شمالی)</p> <p>د. انقلاب زمستانی را توضیح دهید؟</p> <p>و. دلایل پیدایش فصل های مختلف را توضیح دهید؟</p>	۱
۳/۵		<p>فصل دوم</p> <p>الف. گاز های کره زمین شامل کدام از ارکان چهره زمین هست؟</p> <p>۱. بیوسفر</p> <p>۲. لیتوسفر</p> <p>۳. هیدروسفر</p> <p>۴. اتمسفر</p> <p>ب. دره های گرینلند V «شکل هست؟ صحیح. غلط.</p> <p>ج. مهم ترین مناطق صید ماهی جهان.....است.</p> <p>د. بیشتر تغییرات آب و هوا در کدام لایه از جو اتفاق می افتد؟</p> <p>و. سه منطقه مهم آب و هوای در نتیجه زوایه نامساوی خورشید را نام ببرید؟</p>	۲
۳/۵		<p>فصل سوم</p> <p>الف. عناصر.....و.....از مهمترین عناصر آب و هوا بر نوع و میزان پوشش گیاهی هست.</p> <p>ب. ساوان بین کدام زیست بوم ها قرار دارد؟</p> <p>ج. راهکارهای مهم در استفاده صحیح از جنگل های استوایی را نام ببرید؟</p> <p>د. این زیست بوم از نظر تنوع جانوری غنی هست و در طول سال هوا گرم هست؟</p>	۳




بارم	نام و نام خانوادگی: احمد دست یافته کلاس: ۳--۹ شماره صندلی: ۶۷	امتحان درس مطالعات اجتماعی پایه نهم مدرسه هیئت امنایی فرهنگیان متوسطه اول وقت ۶۰ دقیقه تاریخ امتحان ۱۴۰۱/۱۰/۲۴	ردیف
۳/۵		<p>۱. فصل اول</p> <p>الف. مریخ از سیاره های بیرونی منظومه خورشیدی هست؟ صحیح غلط</p> <p>ب. فاصله هر مکان با مدار استوا بر حسب درجه.....است</p> <p>ج. بر حسب مختصات جغرافیایی ۱۵ W گزیننه صحیح را انتخاب کنید؟</p> <p>۱. طول جغرافیایی (غربی)</p> <p>۲. عرض جغرافیایی (جنوبی)</p> <p>۳. طول جغرافیایی (شرقی)</p> <p>۴. عرض جغرافیایی (شمالی)</p> <p>د. انقلاب زمستانی را توضیح دهید؟</p> <p>و. دلایل پیدایش فصل های مختلف را توضیح دهید؟</p>	۱
۳/۵		<p>فصل دوم</p> <p>الف. گاز های کره زمین شامل کدام از ارکان چهره زمین هست؟</p> <p>۱. بیوسفر</p> <p>۲. لیتوسفر</p> <p>۳. هیدروسفر</p> <p>۴. اتمسفر</p> <p>ب. دره های گرینلند V «شکل هست؟ صحیح. غلط.</p> <p>ج. مهم ترین مناطق صید ماهی جهان.....است.</p> <p>د. بیشتر تغییرات آب و هوا در کدام لایه از جو اتفاق می افتد؟</p> <p>و. سه منطقه مهم آب و هوای در نتیجه زوایه نامساوی خورشید را نام ببرید؟</p>	۲
۳/۵		<p>فصل سوم</p> <p>الف. عناصر.....و.....از مهمترین عناصر آب و هوا بر نوع و میزان پوشش گیاهی هست.</p> <p>ب. ساوان بین کدام زیست بوم ها قرار دارد؟</p> <p>ج. راهکارهای مهم در استفاده صحیح از جنگل های استوایی را نام ببرید؟</p> <p>د. این زیست بوم از نظر تنوع جانوری غنی هست و در طول سال هوا گرم هست؟</p>	۳




بارم	نام و نام خانوادگی: ابوالفضل دشتیان کلاس: ۳--۹ شماره صندلی: ۶۸	امتحان درس مطالعات اجتماعی پایه نهم مدرسه هیئت امنایی فرهنگیان متوسطه اول وقت ۶۰ دقیقه تاریخ امتحان ۱۴۰۱/۱۰/۲۴	ردیف
۳/۵		<p>۱. فصل اول</p> <p>الف. مریخ از سیاره های بیرونی منظومه خورشیدی هست؟ صحیح غلط</p> <p>ب. فاصله هر مکان با مدار استوا بر حسب درجه.....است</p> <p>ج. بر حسب مختصات جغرافیایی ۱۵ W گزیننه صحیح را انتخاب کنید؟</p> <p>۱. طول جغرافیایی (غربی)</p> <p>۲. عرض جغرافیایی (جنوبی)</p> <p>۳. طول جغرافیایی (شرقی)</p> <p>۴. عرض جغرافیایی (شمالی)</p> <p>د. انقلاب زمستانی را توضیح دهید؟</p> <p>و. دلایل پیدایش فصل های مختلف را توضیح دهید؟</p>	۱
۳/۵		<p>فصل دوم</p> <p>الف. گاز های کره زمین شامل کدام از ارکان چهره زمین هست؟</p> <p>۱. بیوسفر</p> <p>۲. لیتوسفر</p> <p>۳. هیدروسفر</p> <p>۴. اتمسفر</p> <p>ب. دره های گرینلند V «شکل هست؟ صحیح. غلط.</p> <p>ج. مهم ترین مناطق صید ماهی جهان.....است.</p> <p>د. بیشتر تغییرات آب و هوا در کدام لایه از جو اتفاق می افتد؟</p> <p>و. سه منطقه مهم آب و هوای در نتیجه زوایه نامساوی خورشید را نام ببرید؟</p>	۲
۳/۵		<p>فصل سوم</p> <p>الف. عناصر.....و.....از مهمترین عناصر آب و هوا بر نوع و میزان پوشش گیاهی هست.</p> <p>ب. ساوان بین کدام زیست بوم ها قرار دارد؟</p> <p>ج. راهکارهای مهم در استفاده صحیح از جنگل های استوایی را نام ببرید؟</p> <p>د. این زیست بوم از نظر تنوع جانوری غنی هست و در طول سال هوا گرم هست؟</p>	۳




بارم	نام و نام خانوادگی: پویا دشتیان کلاس: ۹--۳ شماره صندلی: ۶۹	امتحان درس مطالعات اجتماعی پایه نهم مدرسه هیئت امنایی فرهنگیان متوسطه اول وقت ۶۰ دقیقه تاریخ امتحان ۱۴۰۱/۱۰/۲۴	ردیف
۳/۵		<p>۱. فصل اول</p> <p>الف. مریخ از سیاره های بیرونی منظومه خورشیدی هست؟ صحیح غلط</p> <p>ب. فاصله هر مکان با مدار استوا بر حسب درجه.....است</p> <p>ج. بر حسب مختصات جغرافیایی ۱۵ W گزیننه صحیح را انتخاب کنید؟</p> <p>۱. طول جغرافیایی (غربی)</p> <p>۲. عرض جغرافیایی (جنوبی)</p> <p>۳. طول جغرافیایی (شرقی)</p> <p>۴. عرض جغرافیایی (شمالی)</p> <p>د. انقلاب زمستانی را توضیح دهید؟</p> <p>و. دلایل پیدایش فصل های مختلف را توضیح دهید؟</p>	۱
۳/۵		<p>فصل دوم</p> <p>الف. گاز های کره زمین شامل کدام از ارکان چهره زمین هست؟</p> <p>۱. بیوسفر</p> <p>۲. لیتوسفر</p> <p>۳. هیدروسفر</p> <p>۴. اتمسفر</p> <p>ب. دره های گرینلند V «شکل هست؟ صحیح. غلط.</p> <p>ج. مهم ترین مناطق صید ماهی جهان.....است.</p> <p>د. بیشتر تغییرات آب و هوا در کدام لایه از جو اتفاق می افتد؟</p> <p>و. سه منطقه مهم آب و هوای در نتیجه زوایه نامساوی خورشید را نام ببرید؟</p>	۲
۳/۵		<p>فصل سوم</p> <p>الف. عناصر.....و.....از مهمترین عناصر آب و هوا بر نوع و میزان پوشش گیاهی هست.</p> <p>ب. ساوان بین کدام زیست بوم ها قرار دارد؟</p> <p>ج. راهکارهای مهم در استفاده صحیح از جنگل های استوایی را نام ببرید؟</p> <p>د. این زیست بوم از نظر تنوع جانوری غنی هست و در طول سال هوا گرم هست؟</p>	۳



بارم	نام و نام خانوادگی: محمدحسین ذوالفقاری کریک کلاس: ۳--۹ شماره صندلی: ۷۰	امتحان درس مطالعات اجتماعی پایه نهم مدرسه هیئت امنایی فرهنگیان متوسطه اول وقت ۶۰ دقیقه تاریخ امتحان ۱۴۰۱/۱۰/۲۴	ردیف
۳/۵		<p>۱. فصل اول</p> <p>الف. مریخ از سیاره های بیرونی منظومه خورشیدی هست؟ صحیح غلط</p> <p>ب. فاصله هر مکان با مدار استوا بر حسب درجه.....است</p> <p>ج. بر حسب مختصات جغرافیایی ۱۵ W گزینه صحیح را انتخاب کنید؟</p> <p>۱. طول جغرافیایی (غربی)</p> <p>۲. عرض جغرافیایی (جنوبی)</p> <p>۳. طول جغرافیایی (شرقی)</p> <p>۴. عرض جغرافیایی (شمالی)</p> <p>د. انقلاب زمستانی را توضیح دهید؟</p> <p>و. دلایل پیدایش فصل های مختلف را توضیح دهید؟</p>	۱
۳/۵		<p>فصل دوم</p> <p>الف. گاز های کره زمین شامل کدام از ارکان چهره زمین هست؟</p> <p>۱. بیوسفر</p> <p>۲. لیتوسفر</p> <p>۳. هیدروسفر</p> <p>۴. اتمسفر</p> <p>ب. دره های گرینلند V «شکل هست؟ صحیح. غلط.</p> <p>ج. مهم ترین مناطق صید ماهی جهان.....است.</p> <p>د. بیشتر تغییرات آب و هوا در کدام لایه از جو اتفاق می افتد؟</p> <p>و. سه منطقه مهم آب و هوای در نتیجه زوایه نامساوی خورشید را نام ببرید؟</p>	۲
۳/۵		<p>فصل سوم</p> <p>الف. عناصر.....و.....از مهمترین عناصر آب و هوا بر نوع و میزان پوشش گیاهی هست.</p> <p>ب. ساوان بین کدام زیست بوم ها قرار دارد؟</p> <p>ج. راهکارهای مهم در استفاده صحیح از جنگل های استوایی را نام ببرید؟</p> <p>د. این زیست بوم از نظر تنوع جانوری غنی هست و در طول سال هوا گرم هست؟</p>	۳




بارم	نام و نام خانوادگی: شایان رشیدی کلاس: ۳--۹ شماره صندلی: ۷۱	امتحان درس مطالعات اجتماعی پایه نهم مدرسه هیئت امنایی فرهنگیان متوسطه اول وقت ۶۰ دقیقه تاریخ امتحان ۱۴۰۱/۱۰/۲۴	ردیف
۳/۵		<p>۱. فصل اول</p> <p>الف. مریخ از سیاره های بیرونی منظومه خورشیدی هست؟ صحیح غلط</p> <p>ب. فاصله هر مکان با مدار استوا بر حسب درجه.....است</p> <p>ج. بر حسب مختصات جغرافیایی ۱۵ W گزینه صحیح را انتخاب کنید؟</p> <p>۱. طول جغرافیایی (غربی)</p> <p>۲. عرض جغرافیایی (جنوبی)</p> <p>۳. طول جغرافیایی (شرقی)</p> <p>۴. عرض جغرافیایی (شمالی)</p> <p>د. انقلاب زمستانی را توضیح دهید؟</p> <p>و. دلایل پیدایش فصل های مختلف را توضیح دهید؟</p>	۱
۳/۵		<p>فصل دوم</p> <p>الف. گاز های کره زمین شامل کدام از ارکان چهره زمین هست؟</p> <p>۱. بیوسفر</p> <p>۲. لیتوسفر</p> <p>۳. هیدروسفر</p> <p>۴. اتمسفر</p> <p>ب. دره های گرینلند V «شکل هست؟ صحیح. غلط.</p> <p>ج. مهم ترین مناطق صید ماهی جهان.....است.</p> <p>د. بیشتر تغییرات آب و هوا در کدام لایه از جو اتفاق می افتد؟</p> <p>و. سه منطقه مهم آب و هوای در نتیجه زوایه نامساوی خورشید را نام ببرید؟</p>	۲
۳/۵		<p>فصل سوم</p> <p>الف. عناصر.....و.....از مهمترین عناصر آب و هوا بر نوع و میزان پوشش گیاهی هست.</p> <p>ب. ساوان بین کدام زیست بوم ها قرار دارد؟</p> <p>ج. راهکارهای مهم در استفاده صحیح از جنگل های استوایی را نام ببرید؟</p> <p>د. این زیست بوم از نظر تنوع جانوری غنی هست و در طول سال هوا گرم هست؟</p>	۳




بارم	نام و نام خانوادگی: احمد رضا رشیدی فرد کلاس: ۳--۹ شماره صندلی: ۷۲	امتحان درس مطالعات اجتماعی پایه نهم مدرسه هیئت امنایی فرهنگیان متوسطه اول وقت ۶۰ دقیقه تاریخ امتحان ۱۴۰۱/۱۰/۲۴	ردیف
۳/۵		<p>۱. فصل اول</p> <p>الف. مریخ از سیاره های بیرونی منظومه خورشیدی هست؟ صحیح غلط</p> <p>ب. فاصله هر مکان با مدار استوا بر حسب درجه.....است</p> <p>ج. بر حسب مختصات جغرافیایی ۱۵ W گزینه صحیح را انتخاب کنید؟</p> <p>۱. طول جغرافیایی (غربی)</p> <p>۲. عرض جغرافیایی (جنوبی)</p> <p>۳. طول جغرافیایی (شرقی)</p> <p>۴. عرض جغرافیایی (شمالی)</p> <p>د. انقلاب زمستانی را توضیح دهید؟</p> <p>و. دلایل پیدایش فصل های مختلف را توضیح دهید؟</p>	۱
۳/۵		<p>فصل دوم</p> <p>الف. گاز های کره زمین شامل کدام از ارکان چهره زمین هست؟</p> <p>۱. بیوسفر</p> <p>۲. لیتوسفر</p> <p>۳. هیدروسفر</p> <p>۴. اتمسفر</p> <p>ب. دره های گرینلند V «شکل هست؟ صحیح. غلط.</p> <p>ج. مهم ترین مناطق صید ماهی جهان.....است.</p> <p>د. بیشتر تغییرات آب و هوا در کدام لایه از جو اتفاق می افتد؟</p> <p>و. سه منطقه مهم آب و هوای در نتیجه زوایه نامساوی خورشید را نام ببرید؟</p>	۲
۳/۵		<p>فصل سوم</p> <p>الف. عناصر.....و.....از مهمترین عناصر آب و هوا بر نوع و میزان پوشش گیاهی هست.</p> <p>ب. ساوان بین کدام زیست بوم ها قرار دارد؟</p> <p>ج. راهکارهای مهم در استفاده صحیح از جنگل های استوایی را نام ببرید؟</p> <p>د. این زیست بوم از نظر تنوع جانوری غنی هست و در طول سال هوا گرم هست؟</p>	۳




بارم	نام و نام خانوادگی: رضا رضائی کلاس: ۳--۹ شماره صندلی: ۷۳	امتحان درس مطالعات اجتماعی پایه نهم مدرسه هیئت امنایی فرهنگیان متوسطه اول وقت ۶۰ دقیقه تاریخ امتحان ۱۴۰۱/۱۰/۲۴	ردیف
۳/۵		<p>۱. فصل اول</p> <p>الف. مریخ از سیاره های بیرونی منظومه خورشیدی هست؟ صحیح غلط</p> <p>ب. فاصله هر مکان با مدار استوا بر حسب درجه.....است</p> <p>ج. بر حسب مختصات جغرافیایی ۱۵ W گزیننه صحیح را انتخاب کنید؟</p> <p>۱. طول جغرافیایی (غربی)</p> <p>۲. عرض جغرافیایی (جنوبی)</p> <p>۳. طول جغرافیایی (شرقی)</p> <p>۴. عرض جغرافیایی (شمالی)</p> <p>د. انقلاب زمستانی را توضیح دهید؟</p> <p>و. دلایل پیدایش فصل های مختلف را توضیح دهید؟</p>	۱
۳/۵		<p>فصل دوم</p> <p>الف. گاز های کره زمین شامل کدام از ارکان چهره زمین هست؟</p> <p>۱. بیوسفر</p> <p>۲. لیتوسفر</p> <p>۳. هیدروسفر</p> <p>۴. اتمسفر</p> <p>ب. دره های گرینلند V «شکل هست؟ صحیح. غلط.</p> <p>ج. مهم ترین مناطق صید ماهی جهان.....است.</p> <p>د. بیشتر تغییرات آب و هوا در کدام لایه از جو اتفاق می افتد؟</p> <p>و. سه منطقه مهم آب و هوای در نتیجه زوایه نامساوی خورشید را نام ببرید؟</p>	۲
۳/۵		<p>فصل سوم</p> <p>الف. عناصر.....و.....از مهمترین عناصر آب و هوا بر نوع و میزان پوشش گیاهی هست.</p> <p>ب. ساوان بین کدام زیست بوم ها قرار دارد؟</p> <p>ج. راهکارهای مهم در استفاده صحیح از جنگل های استوایی را نام ببرید؟</p> <p>د. این زیست بوم از نظر تنوع جانوری غنی هست و در طول سال هوا گرم هست؟</p>	۳




بارم	نام و نام خانوادگی: محمدمهدی رضائی کلاس: ۳--۹ شماره صندلی: ۷۴	امتحان درس مطالعات اجتماعی پایه نهم مدرسه هیئت امنایی فرهنگیان متوسطه اول وقت ۶۰ دقیقه تاریخ امتحان ۱۴۰۱/۱۰/۲۴	ردیف
۳/۵		<p>۱. فصل اول</p> <p>الف. مریخ از سیاره های بیرونی منظومه خورشیدی هست؟ صحیح غلط</p> <p>ب. فاصله هر مکان با مدار استوا بر حسب درجه.....است</p> <p>ج. بر حسب مختصات جغرافیایی ۱۵ W گزینه صحیح را انتخاب کنید؟</p> <p>۱. طول جغرافیایی (غربی)</p> <p>۲. عرض جغرافیایی (جنوبی)</p> <p>۳. طول جغرافیایی (شرقی)</p> <p>۴. عرض جغرافیایی (شمالی)</p> <p>د. انقلاب زمستانی را توضیح دهید؟</p> <p>و. دلایل پیدایش فصل های مختلف را توضیح دهید؟</p>	۱
۳/۵		<p>فصل دوم</p> <p>الف. گاز های کره زمین شامل کدام از ارکان چهره زمین هست؟</p> <p>۱. بیوسفر</p> <p>۲. لیتوسفر</p> <p>۳. هیدروسفر</p> <p>۴. اتمسفر</p> <p>ب. دره های گرینلند V «شکل هست؟ صحیح. غلط.</p> <p>ج. مهم ترین مناطق صید ماهی جهان.....است.</p> <p>د. بیشتر تغییرات آب و هوا در کدام لایه از جو اتفاق می افتد؟</p> <p>و. سه منطقه مهم آب و هوای در نتیجه زوایه نامساوی خورشید را نام ببرید؟</p>	۲
۳/۵		<p>فصل سوم</p> <p>الف. عناصر.....و.....از مهمترین عناصر آب و هوا بر نوع و میزان پوشش گیاهی هست.</p> <p>ب. ساوان بین کدام زیست بوم ها قرار دارد؟</p> <p>ج. راهکارهای مهم در استفاده صحیح از جنگل های استوایی را نام ببرید؟</p> <p>د. این زیست بوم از نظر تنوع جانوری غنی هست و در طول سال هوا گرم هست؟</p>	۳




بارم	نام و نام خانوادگی: سیدیاسین رضوی کلاس: ۳--۹ شماره صندلی: ۷۵	امتحان درس مطالعات اجتماعی پایه نهم مدرسه هیئت امنایی فرهنگیان متوسطه اول وقت ۶۰ دقیقه تاریخ امتحان ۱۴۰۱/۱۰/۲۴	ردیف
۳/۵		<p>۱. فصل اول</p> <p>الف. مریخ از سیاره های بیرونی منظومه خورشیدی هست؟ صحیح غلط</p> <p>ب. فاصله هر مکان با مدار استوا بر حسب درجه.....است</p> <p>ج. بر حسب مختصات جغرافیایی ۱۵ W گزیننه صحیح را انتخاب کنید؟</p> <p>۱. طول جغرافیایی (غربی)</p> <p>۲. عرض جغرافیایی (جنوبی)</p> <p>۳. طول جغرافیایی (شرقی)</p> <p>۴. عرض جغرافیایی (شمالی)</p> <p>د. انقلاب زمستانی را توضیح دهید؟</p> <p>و. دلایل پیدایش فصل های مختلف را توضیح دهید؟</p>	۱
۳/۵		<p>فصل دوم</p> <p>الف. گاز های کره زمین شامل کدام از ارکان چهره زمین هست؟</p> <p>۱. بیوسفر</p> <p>۲. لیتوسفر</p> <p>۳. هیدروسفر</p> <p>۴. اتمسفر</p> <p>ب. دره های گرینلند V «شکل هست؟ صحیح. غلط.</p> <p>ج. مهم ترین مناطق صید ماهی جهان.....است.</p> <p>د. بیشتر تغییرات آب و هوا در کدام لایه از جو اتفاق می افتد؟</p> <p>و. سه منطقه مهم آب و هوای در نتیجه زوایه نامساوی خورشید را نام ببرید؟</p>	۲
۳/۵		<p>فصل سوم</p> <p>الف. عناصر.....و.....از مهمترین عناصر آب و هوا بر نوع و میزان پوشش گیاهی هست.</p> <p>ب. ساوان بین کدام زیست بوم ها قرار دارد؟</p> <p>ج. راهکارهای مهم در استفاده صحیح از جنگل های استوایی را نام ببرید؟</p> <p>د. این زیست بوم از نظر تنوع جانوری غنی هست و در طول سال هوا گرم هست؟</p>	۳




بارم	نام و نام خانوادگی: علی رضوی زاده کلاس: ۹--۳ شماره صندلی: ۷۶	امتحان درس مطالعات اجتماعی پایه نهم مدرسه هیئت امنایی فرهنگیان متوسطه اول وقت ۶۰ دقیقه تاریخ امتحان ۱۴۰۱/۱۰/۲۴	ردیف
۳/۵		<p>۱. فصل اول</p> <p>الف. مریخ از سیاره های بیرونی منظومه خورشیدی هست؟ صحیح غلط</p> <p>ب. فاصله هر مکان با مدار استوا بر حسب درجه.....است</p> <p>ج. بر حسب مختصات جغرافیایی ۱۵ W گزینه صحیح را انتخاب کنید؟</p> <p>۱. طول جغرافیایی (غربی)</p> <p>۲. عرض جغرافیایی (جنوبی)</p> <p>۳. طول جغرافیایی (شرقی)</p> <p>۴. عرض جغرافیایی (شمالی)</p> <p>د. انقلاب زمستانی را توضیح دهید؟</p> <p>و. دلایل پیدایش فصل های مختلف را توضیح دهید؟</p>	۱
۳/۵		<p>فصل دوم</p> <p>الف. گاز های کره زمین شامل کدام از ارکان چهره زمین هست؟</p> <p>۱. بیوسفر</p> <p>۲. لیتوسفر</p> <p>۳. هیدروسفر</p> <p>۴. اتمسفر</p> <p>ب. دره های گرینلند V «شکل هست؟ صحیح. غلط.</p> <p>ج. مهم ترین مناطق صید ماهی جهان.....است.</p> <p>د. بیشتر تغییرات آب و هوا در کدام لایه از جو اتفاق می افتد؟</p> <p>و. سه منطقه مهم آب و هوای در نتیجه زوایه نامساوی خورشید را نام ببرید؟</p>	۲
۳/۵		<p>فصل سوم</p> <p>الف. عناصر.....و.....از مهمترین عناصر آب و هوا بر نوع و میزان پوشش گیاهی هست.</p> <p>ب. ساوان بین کدام زیست بوم ها قرار دارد؟</p> <p>ج. راهکارهای مهم در استفاده صحیح از جنگل های استوایی را نام ببرید؟</p> <p>د. این زیست بوم از نظر تنوع جانوری غنی هست و در طول سال هوا گرم هست؟</p>	۳




بارم	نام و نام خانوادگی: سجاد رکنی کیش کلاس: ۳--۹ شماره صندلی: ۷۷	امتحان درس مطالعات اجتماعی پایه نهم مدرسه هیئت امنایی فرهنگیان متوسطه اول وقت ۶۰ دقیقه تاریخ امتحان ۱۴۰۱/۱۰/۲۴	ردیف
۳/۵		<p>۱۰. فصل اول</p> <p>الف. مریخ از سیاره های بیرونی منظومه خورشیدی هست؟ صحیح غلط</p> <p>ب. فاصله هر مکان با مدار استوا بر حسب درجه.....است</p> <p>ج. بر حسب مختصات جغرافیایی ۱۵ W گزینه صحیح را انتخاب کنید؟</p> <p>۱. طول جغرافیایی (غربی)</p> <p>۲. عرض جغرافیایی (جنوبی)</p> <p>۳. طول جغرافیایی (شرقی)</p> <p>۴. عرض جغرافیایی (شمالی)</p> <p>د. انقلاب زمستانی را توضیح دهید؟</p> <p>و. دلایل پیدایش فصل های مختلف را توضیح دهید؟</p>	۱
۳/۵		<p>فصل دوم</p> <p>الف. گاز های کره زمین شامل کدام از ارکان چهره زمین هست؟</p> <p>۱. بیوسفر</p> <p>۲. لیتوسفر</p> <p>۳. هیدروسفر</p> <p>۴. اتمسفر</p> <p>ب. دره های گرینلند V «شکل هست؟ صحیح. غلط.</p> <p>ج. مهم ترین مناطق صید ماهی جهان.....است.</p> <p>د. بیشتر تغییرات آب و هوا در کدام لایه از جو اتفاق می افتد؟</p> <p>و. سه منطقه مهم آب و هوای در نتیجه زوایه نامساوی خورشید را نام ببرید؟</p>	۲
۳/۵		<p>فصل سوم</p> <p>الف. عناصر.....و.....از مهمترین عناصر آب و هوا بر نوع و میزان پوشش گیاهی هست.</p> <p>ب. ساوان بین کدام زیست بوم ها قرار دارد؟</p> <p>ج. راهکارهای مهم در استفاده صحیح از جنگل های استوایی را نام ببرید؟</p> <p>د. این زیست بوم از نظر تنوع جانوری غنی هست و در طول سال هوا گرم هست؟</p>	۳




بارم	نام و نام خانوادگی: امیرمحمد رنجبران کلاس: ۳--۹ شماره صندلی: ۷۸	امتحان درس مطالعات اجتماعی پایه نهم مدرسه هیئت امنایی فرهنگیان متوسطه اول وقت ۶۰ دقیقه تاریخ امتحان ۱۴۰۱/۱۰/۲۴	ردیف
۳/۵		<p>۱. فصل اول</p> <p>الف. مریخ از سیاره های بیرونی منظومه خورشیدی هست؟ صحیح غلط</p> <p>ب. فاصله هر مکان با مدار استوا بر حسب درجه.....است</p> <p>ج. بر حسب مختصات جغرافیایی ۱۵ W گزیننه صحیح را انتخاب کنید؟</p> <p>۱. طول جغرافیایی (غربی)</p> <p>۲. عرض جغرافیایی (جنوبی)</p> <p>۳. طول جغرافیایی (شرقی)</p> <p>۴. عرض جغرافیایی (شمالی)</p> <p>د. انقلاب زمستانی را توضیح دهید؟</p> <p>و. دلایل پیدایش فصل های مختلف را توضیح دهید؟</p>	۱
۳/۵		<p>فصل دوم</p> <p>الف. گاز های کره زمین شامل کدام از ارکان چهره زمین هست؟</p> <p>۱. بیوسفر</p> <p>۲. لیتوسفر</p> <p>۳. هیدروسفر</p> <p>۴. اتمسفر</p> <p>ب. دره های گرینلند ۷ «شکل هست؟ صحیح. غلط.</p> <p>ج. مهم ترین مناطق صید ماهی جهان.....است.</p> <p>د. بیشتر تغییرات آب و هوا در کدام لایه از جو اتفاق می افتد؟</p> <p>و. سه منطقه مهم آب و هوای در نتیجه زوایه نامساوی خورشید را نام ببرید؟</p>	۲
۳/۵		<p>فصل سوم</p> <p>الف. عناصر.....و.....از مهمترین عناصر آب و هوا بر نوع و میزان پوشش گیاهی هست.</p> <p>ب. ساوان بین کدام زیست بوم ها قرار دارد؟</p> <p>ج. راهکارهای مهم در استفاده صحیح از جنگل های استوایی را نام ببرید؟</p> <p>د. این زیست بوم از نظر تنوع جانوری غنی هست و در طول سال هوا گرم هست؟</p>	۳




بارم	نام و نام خانوادگی: طها روانشاد کلاس: ۳--۹ شماره صندلی: ۷۹	امتحان درس مطالعات اجتماعی پایه نهم مدرسه هیئت امنایی فرهنگیان متوسطه اول وقت ۶۰ دقیقه تاریخ امتحان ۱۴۰۱/۱۰/۲۴	ردیف
۳/۵		<p>۱. فصل اول</p> <p>الف. مریخ از سیاره های بیرونی منظومه خورشیدی هست؟ صحیح غلط</p> <p>ب. فاصله هر مکان با مدار استوا بر حسب درجه.....است</p> <p>ج. بر حسب مختصات جغرافیایی ۱۵ W گزیننه صحیح را انتخاب کنید؟</p> <p>۱. طول جغرافیایی (غربی)</p> <p>۲. عرض جغرافیایی (جنوبی)</p> <p>۳. طول جغرافیایی (شرقی)</p> <p>۴. عرض جغرافیایی (شمالی)</p> <p>د. انقلاب زمستانی را توضیح دهید؟</p> <p>و. دلایل پیدایش فصل های مختلف را توضیح دهید؟</p>	۱
۳/۵		<p>فصل دوم</p> <p>الف. گاز های کره زمین شامل کدام از ارکان چهره زمین هست؟</p> <p>۱. بیوسفر</p> <p>۲. لیتوسفر</p> <p>۳. هیدروسفر</p> <p>۴. اتمسفر</p> <p>ب. دره های گرینلند V «شکل هست؟ صحیح. غلط.</p> <p>ج. مهم ترین مناطق صید ماهی جهان.....است.</p> <p>د. بیشتر تغییرات آب و هوا در کدام لایه از جو اتفاق می افتد؟</p> <p>و. سه منطقه مهم آب و هوای در نتیجه زوایه نامساوی خورشید را نام ببرید؟</p>	۲
۳/۵		<p>فصل سوم</p> <p>الف. عناصر.....و.....از مهمترین عناصر آب و هوا بر نوع و میزان پوشش گیاهی هست.</p> <p>ب. ساوان بین کدام زیست بوم ها قرار دارد؟</p> <p>ج. راهکارهای مهم در استفاده صحیح از جنگل های استوایی را نام ببرید؟</p> <p>د. این زیست بوم از نظر تنوع جانوری غنی هست و در طول سال هوا گرم هست؟</p>	۳




بارم	نام و نام خانوادگی: یونس زابل نسب کلاس: ۳--۹ شماره صندلی: ۸۰	امتحان درس مطالعات اجتماعی پایه نهم مدرسه هیئت امنایی فرهنگیان متوسطه اول وقت ۶۰ دقیقه تاریخ امتحان ۱۴۰۱/۱۰/۲۴	ردیف
۳/۵		<p>۱. فصل اول</p> <p>الف. مریخ از سیاره های بیرونی منظومه خورشیدی هست؟ صحیح غلط</p> <p>ب. فاصله هر مکان با مدار استوا بر حسب درجه.....است</p> <p>ج. بر حسب مختصات جغرافیایی ۱۵ W گزیننه صحیح را انتخاب کنید؟</p> <p>۱. طول جغرافیایی (غربی)</p> <p>۲. عرض جغرافیایی (جنوبی)</p> <p>۳. طول جغرافیایی (شرقی)</p> <p>۴. عرض جغرافیایی (شمالی)</p> <p>د. انقلاب زمستانی را توضیح دهید؟</p> <p>و. دلایل پیدایش فصل های مختلف را توضیح دهید؟</p>	۱
۳/۵		<p>فصل دوم</p> <p>الف. گاز های کره زمین شامل کدام از ارکان چهره زمین هست؟</p> <p>۱. بیوسفر</p> <p>۲. لیتوسفر</p> <p>۳. هیدروسفر</p> <p>۴. اتمسفر</p> <p>ب. دره های گرینلند V «شکل هست؟ صحیح. غلط.</p> <p>ج. مهم ترین مناطق صید ماهی جهان.....است.</p> <p>د. بیشتر تغییرات آب و هوا در کدام لایه از جو اتفاق می افتد؟</p> <p>و. سه منطقه مهم آب و هوای در نتیجه زوایه نامساوی خورشید را نام ببرید؟</p>	۲
۳/۵		<p>فصل سوم</p> <p>الف. عناصر.....و.....از مهمترین عناصر آب و هوا بر نوع و میزان پوشش گیاهی هست.</p> <p>ب. ساوان بین کدام زیست بوم ها قرار دارد؟</p> <p>ج. راهکارهای مهم در استفاده صحیح از جنگل های استوایی را نام ببرید؟</p> <p>د. این زیست بوم از نظر تنوع جانوری غنی هست و در طول سال هوا گرم هست؟</p>	۳




بارم	نام و نام خانوادگی: دانیال زلفی کلاس: ۳--۹ شماره صندلی: ۸۱	امتحان درس مطالعات اجتماعی پایه نهم مدرسه هیئت امنایی فرهنگیان متوسطه اول وقت ۶۰ دقیقه تاریخ امتحان ۱۴۰۱/۱۰/۲۴	ردیف
۳/۵		<p>۱. فصل اول</p> <p>الف. مریخ از سیاره های بیرونی منظومه خورشیدی هست؟ صحیح غلط</p> <p>ب. فاصله هر مکان با مدار استوا بر حسب درجه.....است</p> <p>ج. بر حسب مختصات جغرافیایی ۱۵ W گزیننه صحیح را انتخاب کنید؟</p> <p>۱. طول جغرافیایی (غربی)</p> <p>۲. عرض جغرافیایی (جنوبی)</p> <p>۳. طول جغرافیایی (شرقی)</p> <p>۴. عرض جغرافیایی (شمالی)</p> <p>د. انقلاب زمستانی را توضیح دهید؟</p> <p>و. دلایل پیدایش فصل های مختلف را توضیح دهید؟</p>	۱
۳/۵		<p>فصل دوم</p> <p>الف. گاز های کره زمین شامل کدام از ارکان چهره زمین هست؟</p> <p>۱. بیوسفر</p> <p>۲. لیتوسفر</p> <p>۳. هیدروسفر</p> <p>۴. اتمسفر</p> <p>ب. دره های گرینلند V «شکل هست؟ صحیح. غلط.</p> <p>ج. مهم ترین مناطق صید ماهی جهان.....است.</p> <p>د. بیشتر تغییرات آب و هوا در کدام لایه از جو اتفاق می افتد؟</p> <p>و. سه منطقه مهم آب و هوای در نتیجه زوایه نامساوی خورشید را نام ببرید؟</p>	۲
۳/۵		<p>فصل سوم</p> <p>الف. عناصر.....و.....از مهمترین عناصر آب و هوا بر نوع و میزان پوشش گیاهی هست.</p> <p>ب. ساوان بین کدام زیست بوم ها قرار دارد؟</p> <p>ج. راهکارهای مهم در استفاده صحیح از جنگل های استوایی را نام ببرید؟</p> <p>د. این زیست بوم از نظر تنوع جانوری غنی هست و در طول سال هوا گرم هست؟</p>	۳




بارم	نام و نام خانوادگی: ابوالفضل ساجدی مقدم کلاس: ۹--۳ شماره صندلی: ۸۲	امتحان درس مطالعات اجتماعی پایه نهم مدرسه هیئت امنایی فرهنگیان متوسطه اول وقت ۶۰ دقیقه تاریخ امتحان ۱۴۰۱/۱۰/۲۴	ردیف
۳/۵		<p>۱. فصل اول</p> <p>الف. مریخ از سیاره های بیرونی منظومه خورشیدی هست؟ صحیح غلط</p> <p>ب. فاصله هر مکان با مدار استوا بر حسب درجه.....است</p> <p>ج. بر حسب مختصات جغرافیایی ۱۵ W گزیننه صحیح را انتخاب کنید؟</p> <p>۱. طول جغرافیایی (غربی)</p> <p>۲. عرض جغرافیایی (جنوبی)</p> <p>۳. طول جغرافیایی (شرقی)</p> <p>۴. عرض جغرافیایی (شمالی)</p> <p>د. انقلاب زمستانی را توضیح دهید؟</p> <p>و. دلایل پیدایش فصل های مختلف را توضیح دهید؟</p>	۱
۳/۵		<p>فصل دوم</p> <p>الف. گاز های کره زمین شامل کدام از ارکان چهره زمین هست؟</p> <p>۱. بیوسفر</p> <p>۲. لیتوسفر</p> <p>۳. هیدروسفر</p> <p>۴. اتمسفر</p> <p>ب. دره های گرینلند V «شکل هست؟ صحیح. غلط.</p> <p>ج. مهم ترین مناطق صید ماهی جهان.....است.</p> <p>د. بیشتر تغییرات آب و هوا در کدام لایه از جو اتفاق می افتد؟</p> <p>و. سه منطقه مهم آب و هوای در نتیجه زوایه نامساوی خورشید را نام ببرید؟</p>	۲
۳/۵		<p>فصل سوم</p> <p>الف. عناصر.....و.....از مهمترین عناصر آب و هوا بر نوع و میزان پوشش گیاهی هست.</p> <p>ب. ساوان بین کدام زیست بوم ها قرار دارد؟</p> <p>ج. راهکارهای مهم در استفاده صحیح از جنگل های استوایی را نام ببرید؟</p> <p>د. این زیست بوم از نظر تنوع جانوری غنی هست و در طول سال هوا گرم هست؟</p>	۳




بارم	نام و نام خانوادگی: صادق ستایشگر کلاس: ۹--۳ شماره صندلی: ۸۳	امتحان درس مطالعات اجتماعی پایه نهم مدرسه هیئت امنایی فرهنگیان متوسطه اول وقت ۶۰ دقیقه تاریخ امتحان ۱۴۰۱/۱۰/۲۴	ردیف
۳/۵		<p>۱. فصل اول</p> <p>الف. مریخ از سیاره های بیرونی منظومه خورشیدی هست؟ صحیح غلط</p> <p>ب. فاصله هر مکان با مدار استوا بر حسب درجه.....است</p> <p>ج. بر حسب مختصات جغرافیایی ۱۵ W گزیننه صحیح را انتخاب کنید؟</p> <p>۱. طول جغرافیایی (غربی)</p> <p>۲. عرض جغرافیایی (جنوبی)</p> <p>۳. طول جغرافیایی (شرقی)</p> <p>۴. عرض جغرافیایی (شمالی)</p> <p>د. انقلاب زمستانی را توضیح دهید؟</p> <p>و. دلایل پیدایش فصل های مختلف را توضیح دهید؟</p>	۱
۳/۵		<p>فصل دوم</p> <p>الف. گاز های کره زمین شامل کدام از ارکان چهره زمین هست؟</p> <p>۱. بیوسفر</p> <p>۲. لیتوسفر</p> <p>۳. هیدروسفر</p> <p>۴. اتمسفر</p> <p>ب. دره های گرینلند V «شکل هست؟ صحیح. غلط.</p> <p>ج. مهم ترین مناطق صید ماهی جهان.....است.</p> <p>د. بیشتر تغییرات آب و هوا در کدام لایه از جو اتفاق می افتد؟</p> <p>و. سه منطقه مهم آب و هوای در نتیجه زوایه نامساوی خورشید را نام ببرید؟</p>	۲
۳/۵		<p>فصل سوم</p> <p>الف. عناصر.....و.....از مهمترین عناصر آب و هوا بر نوع و میزان پوشش گیاهی هست.</p> <p>ب. ساوان بین کدام زیست بوم ها قرار دارد؟</p> <p>ج. راهکارهای مهم در استفاده صحیح از جنگل های استوایی را نام ببرید؟</p> <p>د. این زیست بوم از نظر تنوع جانوری غنی هست و در طول سال هوا گرم هست؟</p>	۳




بارم	نام و نام خانوادگی: احسان سعادت نیا کلاس: ۳--۹ شماره صندلی: ۸۴	امتحان درس مطالعات اجتماعی پایه نهم مدرسه هیئت امنایی فرهنگیان متوسطه اول وقت ۶۰ دقیقه تاریخ امتحان ۱۴۰۱/۱۰/۲۴	ردیف
۳/۵		<p>۱. فصل اول</p> <p>الف. مریخ از سیاره های بیرونی منظومه خورشیدی هست؟ صحیح غلط</p> <p>ب. فاصله هر مکان با مدار استوا بر حسب درجه.....است</p> <p>ج. بر حسب مختصات جغرافیایی ۱۵ W گزیننه صحیح را انتخاب کنید؟</p> <p>۱. طول جغرافیایی (غربی)</p> <p>۲. عرض جغرافیایی (جنوبی)</p> <p>۳. طول جغرافیایی (شرقی)</p> <p>۴. عرض جغرافیایی (شمالی)</p> <p>د. انقلاب زمستانی را توضیح دهید؟</p> <p>و. دلایل پیدایش فصل های مختلف را توضیح دهید؟</p>	۱
۳/۵		<p>فصل دوم</p> <p>الف. گاز های کره زمین شامل کدام از ارکان چهره زمین هست؟</p> <p>۱. بیوسفر</p> <p>۲. لیتوسفر</p> <p>۳. هیدروسفر</p> <p>۴. اتمسفر</p> <p>ب. دره های گرینلند V «شکل هست؟ صحیح. غلط.</p> <p>ج. مهم ترین مناطق صید ماهی جهان.....است.</p> <p>د. بیشتر تغییرات آب و هوا در کدام لایه از جو اتفاق می افتد؟</p> <p>و. سه منطقه مهم آب و هوای در نتیجه زوایه نامساوی خورشید را نام ببرید؟</p>	۲
۳/۵		<p>فصل سوم</p> <p>الف. عناصر.....و.....از مهمترین عناصر آب و هوا بر نوع و میزان پوشش گیاهی هست.</p> <p>ب. ساوان بین کدام زیست بوم ها قرار دارد؟</p> <p>ج. راهکارهای مهم در استفاده صحیح از جنگل های استوایی را نام ببرید؟</p> <p>د. این زیست بوم از نظر تنوع جانوری غنی هست و در طول سال هوا گرم هست؟</p>	۳




بارم	نام و نام خانوادگی: ابوالفضل سلامی کلاس: ۳--۹ شماره صندلی: ۸۵	امتحان درس مطالعات اجتماعی پایه نهم مدرسه هیئت امنایی فرهنگیان متوسطه اول وقت ۶۰ دقیقه تاریخ امتحان ۱۴۰۱/۱۰/۲۴	ردیف
۳/۵		<p>۱. فصل اول</p> <p>الف. مریخ از سیاره های بیرونی منظومه خورشیدی هست؟ صحیح غلط</p> <p>ب. فاصله هر مکان با مدار استوا بر حسب درجه.....است</p> <p>ج. بر حسب مختصات جغرافیایی ۱۵ W گزینه صحیح را انتخاب کنید؟</p> <p>۱. طول جغرافیایی (غربی)</p> <p>۲. عرض جغرافیایی (جنوبی)</p> <p>۳. طول جغرافیایی (شرقی)</p> <p>۴. عرض جغرافیایی (شمالی)</p> <p>د. انقلاب زمستانی را توضیح دهید؟</p> <p>و. دلایل پیدایش فصل های مختلف را توضیح دهید؟</p>	۱
۳/۵		<p>فصل دوم</p> <p>الف. گاز های کره زمین شامل کدام از ارکان چهره زمین هست؟</p> <p>۱. بیوسفر</p> <p>۲. لیتوسفر</p> <p>۳. هیدروسفر</p> <p>۴. اتمسفر</p> <p>ب. دره های گرینلند V «شکل هست؟ صحیح. غلط.</p> <p>ج. مهم ترین مناطق صید ماهی جهان.....است.</p> <p>د. بیشتر تغییرات آب و هوا در کدام لایه از جو اتفاق می افتد؟</p> <p>و. سه منطقه مهم آب و هوای در نتیجه زوایه نامساوی خورشید را نام ببرید؟</p>	۲
۳/۵		<p>فصل سوم</p> <p>الف. عناصر.....و.....از مهمترین عناصر آب و هوا بر نوع و میزان پوشش گیاهی هست.</p> <p>ب. ساوان بین کدام زیست بوم ها قرار دارد؟</p> <p>ج. راهکارهای مهم در استفاده صحیح از جنگل های استوایی را نام ببرید؟</p> <p>د. این زیست بوم از نظر تنوع جانوری غنی هست و در طول سال هوا گرم هست؟</p>	۳




بارم	نام و نام خانوادگی: عرشیا سیفی اصل کلاس: ۳--۹ شماره صندلی: ۸۶	امتحان درس مطالعات اجتماعی پایه نهم مدرسه هیئت امنایی فرهنگیان متوسطه اول وقت ۶۰ دقیقه تاریخ امتحان ۱۴۰۱/۱۰/۲۴	ردیف
۳/۵		<p>۱. فصل اول</p> <p>الف. مریخ از سیاره های بیرونی منظومه خورشیدی هست؟ صحیح غلط</p> <p>ب. فاصله هر مکان با مدار استوا بر حسب درجه.....است</p> <p>ج. بر حسب مختصات جغرافیایی ۱۵ W گزیننه صحیح را انتخاب کنید؟</p> <p>۱. طول جغرافیایی (غربی)</p> <p>۲. عرض جغرافیایی (جنوبی)</p> <p>۳. طول جغرافیایی (شرقی)</p> <p>۴. عرض جغرافیایی (شمالی)</p> <p>د. انقلاب زمستانی را توضیح دهید؟</p> <p>و. دلایل پیدایش فصل های مختلف را توضیح دهید؟</p>	۱
۳/۵		<p>فصل دوم</p> <p>الف. گاز های کره زمین شامل کدام از ارکان چهره زمین هست؟</p> <p>۱. بیوسفر</p> <p>۲. لیتوسفر</p> <p>۳. هیدروسفر</p> <p>۴. اتمسفر</p> <p>ب. دره های گرینلند V «شکل هست؟ صحیح. غلط.</p> <p>ج. مهم ترین مناطق صید ماهی جهان.....است.</p> <p>د. بیشتر تغییرات آب و هوا در کدام لایه از جو اتفاق می افتد؟</p> <p>و. سه منطقه مهم آب و هوای در نتیجه زوایه نامساوی خورشید را نام ببرید؟</p>	۲
۳/۵		<p>فصل سوم</p> <p>الف. عناصر.....و.....از مهمترین عناصر آب و هوا بر نوع و میزان پوشش گیاهی هست.</p> <p>ب. ساوان بین کدام زیست بوم ها قرار دارد؟</p> <p>ج. راهکارهای مهم در استفاده صحیح از جنگل های استوایی را نام ببرید؟</p> <p>د. این زیست بوم از نظر تنوع جانوری غنی هست و در طول سال هوا گرم هست؟</p>	۳




بارم	نام و نام خانوادگی: رضا شجاعی پور کلاس: ۳--۹ شماره صندلی: ۸۷	امتحان درس مطالعات اجتماعی پایه نهم مدرسه هیئت امنایی فرهنگیان متوسطه اول وقت ۶۰ دقیقه تاریخ امتحان ۱۴۰۱/۱۰/۲۴	ردیف
۳/۵		<p>۱. فصل اول</p> <p>الف. مریخ از سیاره های بیرونی منظومه خورشیدی هست؟ صحیح غلط</p> <p>ب. فاصله هر مکان با مدار استوا بر حسب درجه.....است</p> <p>ج. بر حسب مختصات جغرافیایی ۱۵ W گزینه صحیح را انتخاب کنید؟</p> <p>۱. طول جغرافیایی (غربی)</p> <p>۲. عرض جغرافیایی (جنوبی)</p> <p>۳. طول جغرافیایی (شرقی)</p> <p>۴. عرض جغرافیایی (شمالی)</p> <p>د. انقلاب زمستانی را توضیح دهید؟</p> <p>و. دلایل پیدایش فصل های مختلف را توضیح دهید؟</p>	۱
۳/۵		<p>فصل دوم</p> <p>الف. گاز های کره زمین شامل کدام از ارکان چهره زمین هست؟</p> <p>۱. بیوسفر</p> <p>۲. لیتوسفر</p> <p>۳. هیدروسفر</p> <p>۴. اتمسفر</p> <p>ب. دره های گرینلند V «شکل هست؟ صحیح. غلط.</p> <p>ج. مهم ترین مناطق صید ماهی جهان.....است.</p> <p>د. بیشتر تغییرات آب و هوا در کدام لایه از جو اتفاق می افتد؟</p> <p>و. سه منطقه مهم آب و هوای در نتیجه زوایه نامساوی خورشید را نام ببرید؟</p>	۲
۳/۵		<p>فصل سوم</p> <p>الف. عناصر.....و.....از مهمترین عناصر آب و هوا بر نوع و میزان پوشش گیاهی هست.</p> <p>ب. ساوان بین کدام زیست بوم ها قرار دارد؟</p> <p>ج. راهکارهای مهم در استفاده صحیح از جنگل های استوایی را نام ببرید؟</p> <p>د. این زیست بوم از نظر تنوع جانوری غنی هست و در طول سال هوا گرم هست؟</p>	۳



بارم	نام و نام خانوادگی: محمد شجاعی راد کلاس: ۳--۹ شماره صندلی: ۸۸	امتحان درس مطالعات اجتماعی پایه نهم مدرسه هیئت امنایی فرهنگیان متوسطه اول وقت ۶۰ دقیقه تاریخ امتحان ۱۴۰۱/۱۰/۲۴	ردیف
۳/۵		<p>۱. فصل اول</p> <p>الف. مریخ از سیاره های بیرونی منظومه خورشیدی هست؟ صحیح غلط</p> <p>ب. فاصله هر مکان با مدار استوا بر حسب درجه.....است</p> <p>ج. بر حسب مختصات جغرافیایی ۱۵ W گزیننه صحیح را انتخاب کنید؟</p> <p>۱. طول جغرافیایی (غربی)</p> <p>۲. عرض جغرافیایی (جنوبی)</p> <p>۳. طول جغرافیایی (شرقی)</p> <p>۴. عرض جغرافیایی (شمالی)</p> <p>د. انقلاب زمستانی را توضیح دهید؟</p> <p>و. دلایل پیدایش فصل های مختلف را توضیح دهید؟</p>	۱
۳/۵		<p>فصل دوم</p> <p>الف. گاز های کره زمین شامل کدام از ارکان چهره زمین هست؟</p> <p>۱. بیوسفر</p> <p>۲. لیتوسفر</p> <p>۳. هیدروسفر</p> <p>۴. اتمسفر</p> <p>ب. دره های گرینلند V «شکل هست؟ صحیح. غلط.</p> <p>ج. مهم ترین مناطق صید ماهی جهان.....است.</p> <p>د. بیشتر تغییرات آب و هوا در کدام لایه از جو اتفاق می افتد؟</p> <p>و. سه منطقه مهم آب و هوای در نتیجه زوایه نامساوی خورشید را نام ببرید؟</p>	۲
۳/۵		<p>فصل سوم</p> <p>الف. عناصر.....و.....از مهمترین عناصر آب و هوا بر نوع و میزان پوشش گیاهی هست.</p> <p>ب. ساوان بین کدام زیست بوم ها قرار دارد؟</p> <p>ج. راهکارهای مهم در استفاده صحیح از جنگل های استوایی را نام ببرید؟</p> <p>د. این زیست بوم از نظر تنوع جانوری غنی هست و در طول سال هوا گرم هست؟</p>	۳




بارم	نام و نام خانوادگی: سیدعلی شجاعی نسب کلاس: ۳--۹ شماره صندلی: ۸۹	امتحان درس مطالعات اجتماعی پایه نهم مدرسه هیئت امنایی فرهنگیان متوسطه اول وقت ۶۰ دقیقه تاریخ امتحان ۱۴۰۱/۱۰/۲۴	ردیف
۳/۵		<p>۱. فصل اول</p> <p>الف. مریخ از سیاره های بیرونی منظومه خورشیدی هست؟ صحیح غلط</p> <p>ب. فاصله هر مکان با مدار استوا بر حسب درجه.....است</p> <p>ج. بر حسب مختصات جغرافیایی ۱۵ W گزیننه صحیح را انتخاب کنید؟</p> <p>۱. طول جغرافیایی (غربی)</p> <p>۲. عرض جغرافیایی (جنوبی)</p> <p>۳. طول جغرافیایی (شرقی)</p> <p>۴. عرض جغرافیایی (شمالی)</p> <p>د. انقلاب زمستانی را توضیح دهید؟</p> <p>و. دلایل پیدایش فصل های مختلف را توضیح دهید؟</p>	۱
۳/۵		<p>فصل دوم</p> <p>الف. گاز های کره زمین شامل کدام از ارکان چهره زمین هست؟</p> <p>۱. بیوسفر</p> <p>۲. لیتوسفر</p> <p>۳. هیدروسفر</p> <p>۴. اتمسفر</p> <p>ب. دره های گرینلند V «شکل هست؟ صحیح. غلط.</p> <p>ج. مهم ترین مناطق صید ماهی جهان.....است.</p> <p>د. بیشتر تغییرات آب و هوا در کدام لایه از جو اتفاق می افتد؟</p> <p>و. سه منطقه مهم آب و هوای در نتیجه زوایه نامساوی خورشید را نام ببرید؟</p>	۲
۳/۵		<p>فصل سوم</p> <p>الف. عناصر.....و.....از مهمترین عناصر آب و هوا بر نوع و میزان پوشش گیاهی هست.</p> <p>ب. ساوان بین کدام زیست بوم ها قرار دارد؟</p> <p>ج. راهکارهای مهم در استفاده صحیح از جنگل های استوایی را نام ببرید؟</p> <p>د. این زیست بوم از نظر تنوع جانوری غنی هست و در طول سال هوا گرم هست؟</p>	۳




بارم	نام و نام خانوادگی: حسین شریف امامی کلاس: ۳--۹ شماره صندلی: ۹۰	امتحان درس مطالعات اجتماعی پایه نهم مدرسه هیئت امنایی فرهنگیان متوسطه اول وقت ۶۰ دقیقه تاریخ امتحان ۱۴۰۱/۱۰/۲۴	ردیف
۳/۵		<p>۱. فصل اول</p> <p>الف. مریخ از سیاره های بیرونی منظومه خورشیدی هست؟ صحیح غلط</p> <p>ب. فاصله هر مکان با مدار استوا بر حسب درجه.....است</p> <p>ج. بر حسب مختصات جغرافیایی ۱۵ W گزیننه صحیح را انتخاب کنید؟</p> <p>۱. طول جغرافیایی (غربی)</p> <p>۲. عرض جغرافیایی (جنوبی)</p> <p>۳. طول جغرافیایی (شرقی)</p> <p>۴. عرض جغرافیایی (شمالی)</p> <p>د. انقلاب زمستانی را توضیح دهید؟</p> <p>و. دلایل پیدایش فصل های مختلف را توضیح دهید؟</p>	۱
۳/۵		<p>فصل دوم</p> <p>الف. گاز های کره زمین شامل کدام از ارکان چهره زمین هست؟</p> <p>۱. بیوسفر</p> <p>۲. لیتوسفر</p> <p>۳. هیدروسفر</p> <p>۴. اتمسفر</p> <p>ب. دره های گرینلند V «شکل هست؟ صحیح. غلط.</p> <p>ج. مهم ترین مناطق صید ماهی جهان.....است.</p> <p>د. بیشتر تغییرات آب و هوا در کدام لایه از جو اتفاق می افتد؟</p> <p>و. سه منطقه مهم آب و هوای در نتیجه زوایه نامساوی خورشید را نام ببرید؟</p>	۲
۳/۵		<p>فصل سوم</p> <p>الف. عناصر.....و.....از مهمترین عناصر آب و هوا بر نوع و میزان پوشش گیاهی هست.</p> <p>ب. ساوان بین کدام زیست بوم ها قرار دارد؟</p> <p>ج. راهکارهای مهم در استفاده صحیح از جنگل های استوایی را نام ببرید؟</p> <p>د. این زیست بوم از نظر تنوع جانوری غنی هست و در طول سال هوا گرم هست؟</p>	۳



بارم	نام و نام خانوادگی: امیررضا شفیعی نصرآباد کلاس: ۳--۹ شماره صندلی: ۹۱	امتحان درس مطالعات اجتماعی پایه نهم مدرسه هیئت امنایی فرهنگیان متوسطه اول وقت ۶۰ دقیقه تاریخ امتحان ۱۴۰۱/۱۰/۲۴	ردیف
۳/۵		<p>۱. فصل اول</p> <p>الف. مریخ از سیاره های بیرونی منظومه خورشیدی هست؟ صحیح غلط</p> <p>ب. فاصله هر مکان با مدار استوا بر حسب درجه.....است</p> <p>ج. بر حسب مختصات جغرافیایی ۱۵ W گزیننه صحیح را انتخاب کنید؟</p> <p>۱. طول جغرافیایی (غربی)</p> <p>۲. عرض جغرافیایی (جنوبی)</p> <p>۳. طول جغرافیایی (شرقی)</p> <p>۴. عرض جغرافیایی (شمالی)</p> <p>د. انقلاب زمستانی را توضیح دهید؟</p> <p>و. دلایل پیدایش فصل های مختلف را توضیح دهید؟</p>	۱
۳/۵		<p>فصل دوم</p> <p>الف. گاز های کره زمین شامل کدام از ارکان چهره زمین هست؟</p> <p>۱. بیوسفر</p> <p>۲. لیتوسفر</p> <p>۳. هیدروسفر</p> <p>۴. اتمسفر</p> <p>ب. دره های گرینلند V «شکل هست؟ صحیح. غلط.</p> <p>ج. مهم ترین مناطق صید ماهی جهان.....است.</p> <p>د. بیشتر تغییرات آب و هوا در کدام لایه از جو اتفاق می افتد؟</p> <p>و. سه منطقه مهم آب و هوای در نتیجه زوایه نامساوی خورشید را نام ببرید؟</p>	۲
۳/۵		<p>فصل سوم</p> <p>الف. عناصر.....و.....از مهمترین عناصر آب و هوا بر نوع و میزان پوشش گیاهی هست.</p> <p>ب. ساوان بین کدام زیست بوم ها قرار دارد؟</p> <p>ج. راهکارهای مهم در استفاده صحیح از جنگل های استوایی را نام ببرید؟</p> <p>د. این زیست بوم از نظر تنوع جانوری غنی هست و در طول سال هوا گرم هست؟</p>	۳




بارم	نام و نام خانوادگی: سینا شهبازی جهان آباد کلاس: ۹--۳ شماره صندلی: ۹۲	امتحان درس مطالعات اجتماعی پایه نهم مدرسه هیئت امنایی فرهنگیان متوسطه اول وقت ۶۰ دقیقه تاریخ امتحان ۱۴۰۱/۱۰/۲۴	ردیف
۳/۵		<p>۱. فصل اول</p> <p>الف. مریخ از سیاره های بیرونی منظومه خورشیدی هست؟ صحیح غلط</p> <p>ب. فاصله هر مکان با مدار استوا بر حسب درجه.....است</p> <p>ج. بر حسب مختصات جغرافیایی ۱۵ W گزیننه صحیح را انتخاب کنید؟</p> <p>۱. طول جغرافیایی (غربی)</p> <p>۲. عرض جغرافیایی (جنوبی)</p> <p>۳. طول جغرافیایی (شرقی)</p> <p>۴. عرض جغرافیایی (شمالی)</p> <p>د. انقلاب زمستانی را توضیح دهید؟</p> <p>و. دلایل پیدایش فصل های مختلف را توضیح دهید؟</p>	۱
۳/۵		<p>فصل دوم</p> <p>الف. گاز های کره زمین شامل کدام از ارکان چهره زمین هست؟</p> <p>۱. بیوسفر</p> <p>۲. لیتوسفر</p> <p>۳. هیدروسفر</p> <p>۴. اتمسفر</p> <p>ب. دره های گرینلند V «شکل هست؟ صحیح. غلط.</p> <p>ج. مهم ترین مناطق صید ماهی جهان.....است.</p> <p>د. بیشتر تغییرات آب و هوا در کدام لایه از جو اتفاق می افتد؟</p> <p>و. سه منطقه مهم آب و هوای در نتیجه زوایه نامساوی خورشید را نام ببرید؟</p>	۲
۳/۵		<p>فصل سوم</p> <p>الف. عناصر.....و.....از مهمترین عناصر آب و هوا بر نوع و میزان پوشش گیاهی هست.</p> <p>ب. ساوان بین کدام زیست بوم ها قرار دارد؟</p> <p>ج. راهکارهای مهم در استفاده صحیح از جنگل های استوایی را نام ببرید؟</p> <p>د. این زیست بوم از نظر تنوع جانوری غنی هست و در طول سال هوا گرم هست؟</p>	۳




بارم	نام و نام خانوادگی: سیدامیرمهدی کشاورز کلاس: ۳--۹ شماره صندلی: ۹۳	امتحان درس مطالعات اجتماعی پایه نهم مدرسه هیئت امنایی فرهنگیان متوسطه اول وقت ۶۰ دقیقه تاریخ امتحان ۱۴۰۱/۱۰/۲۴	ردیف
۳/۵		<p>۱. فصل اول</p> <p>الف. مریخ از سیاره های بیرونی منظومه خورشیدی هست؟ صحیح غلط</p> <p>ب. فاصله هر مکان با مدار استوا بر حسب درجه.....است</p> <p>ج. بر حسب مختصات جغرافیایی ۱۵ W گزینه صحیح را انتخاب کنید؟</p> <p>۱. طول جغرافیایی (غربی)</p> <p>۲. عرض جغرافیایی (جنوبی)</p> <p>۳. طول جغرافیایی (شرقی)</p> <p>۴. عرض جغرافیایی (شمالی)</p> <p>د. انقلاب زمستانی را توضیح دهید؟</p> <p>و. دلایل پیدایش فصل های مختلف را توضیح دهید؟</p>	۱
۳/۵		<p>فصل دوم</p> <p>الف. گاز های کره زمین شامل کدام از ارکان چهره زمین هست؟</p> <p>۱. بیوسفر</p> <p>۲. لیتوسفر</p> <p>۳. هیدروسفر</p> <p>۴. اتمسفر</p> <p>ب. دره های گرینلند V «شکل هست؟ صحیح. غلط.</p> <p>ج. مهم ترین مناطق صید ماهی جهان.....است.</p> <p>د. بیشتر تغییرات آب و هوا در کدام لایه از جو اتفاق می افتد؟</p> <p>و. سه منطقه مهم آب و هوای در نتیجه زوایه نامساوی خورشید را نام ببرید؟</p>	۲
۳/۵		<p>فصل سوم</p> <p>الف. عناصر.....و.....از مهمترین عناصر آب و هوا بر نوع و میزان پوشش گیاهی هست.</p> <p>ب. ساوان بین کدام زیست بوم ها قرار دارد؟</p> <p>ج. راهکارهای مهم در استفاده صحیح از جنگل های استوایی را نام ببرید؟</p> <p>د. این زیست بوم از نظر تنوع جانوری غنی هست و در طول سال هوا گرم هست؟</p>	۳




بارم	نام و نام خانوادگی: رضا نصیری زاده علی کلاس: ۳--۹ شماره صندلی: ۹۴	امتحان درس مطالعات اجتماعی پایه نهم مدرسه هیئت امنایی فرهنگیان متوسطه اول وقت ۶۰ دقیقه تاریخ امتحان ۱۴۰۱/۱۰/۲۴	ردیف
۳/۵		<p>۱. فصل اول</p> <p>الف. مریخ از سیاره های بیرونی منظومه خورشیدی هست؟ صحیح غلط</p> <p>ب. فاصله هر مکان با مدار استوا بر حسب درجه.....است</p> <p>ج. بر حسب مختصات جغرافیایی ۱۵ W گزینه صحیح را انتخاب کنید؟</p> <p>۱. طول جغرافیایی (غربی)</p> <p>۲. عرض جغرافیایی (جنوبی)</p> <p>۳. طول جغرافیایی (شرقی)</p> <p>۴. عرض جغرافیایی (شمالی)</p> <p>د. انقلاب زمستانی را توضیح دهید؟</p> <p>و. دلایل پیدایش فصل های مختلف را توضیح دهید؟</p>	۱
۳/۵		<p>فصل دوم</p> <p>الف. گاز های کره زمین شامل کدام از ارکان چهره زمین هست؟</p> <p>۱. بیوسفر</p> <p>۲. لیتوسفر</p> <p>۳. هیدروسفر</p> <p>۴. اتمسفر</p> <p>ب. دره های گرینلند V «شکل هست؟ صحیح. غلط.</p> <p>ج. مهم ترین مناطق صید ماهی جهان.....است.</p> <p>د. بیشتر تغییرات آب و هوا در کدام لایه از جو اتفاق می افتد؟</p> <p>و. سه منطقه مهم آب و هوای در نتیجه زوایه نامساوی خورشید را نام ببرید؟</p>	۲
۳/۵		<p>فصل سوم</p> <p>الف. عناصر.....و.....از مهمترین عناصر آب و هوا بر نوع و میزان پوشش گیاهی هست.</p> <p>ب. ساوان بین کدام زیست بوم ها قرار دارد؟</p> <p>ج. راهکارهای مهم در استفاده صحیح از جنگل های استوایی را نام ببرید؟</p> <p>د. این زیست بوم از نظر تنوع جانوری غنی هست و در طول سال هوا گرم هست؟</p>	۳




بارم	نام و نام خانوادگی: اشکان صدیقی نژاد کلاس: ۹--۴ شماره صندلی: ۹۵	امتحان درس مطالعات اجتماعی پایه نهم مدرسه هیئت امنایی فرهنگیان متوسطه اول وقت ۶۰ دقیقه تاریخ امتحان ۱۴۰۱/۱۰/۲۴	ردیف
۳/۵		<p>۱. فصل اول</p> <p>الف. مریخ از سیاره های بیرونی منظومه خورشیدی هست؟ صحیح غلط</p> <p>ب. فاصله هر مکان با مدار استوا بر حسب درجه.....است</p> <p>ج. بر حسب مختصات جغرافیایی ۱۵ W گزینه صحیح را انتخاب کنید؟</p> <p>۱. طول جغرافیایی (غربی)</p> <p>۲. عرض جغرافیایی (جنوبی)</p> <p>۳. طول جغرافیایی (شرقی)</p> <p>۴. عرض جغرافیایی (شمالی)</p> <p>د. انقلاب زمستانی را توضیح دهید؟</p> <p>و. دلایل پیدایش فصل های مختلف را توضیح دهید؟</p>	۱
۳/۵		<p>فصل دوم</p> <p>الف. گاز های کره زمین شامل کدام از ارکان چهره زمین هست؟</p> <p>۱. بیوسفر</p> <p>۲. لیتوسفر</p> <p>۳. هیدروسفر</p> <p>۴. اتمسفر</p> <p>ب. دره های گرینلند V «شکل هست؟ صحیح. غلط.</p> <p>ج. مهم ترین مناطق صید ماهی جهان.....است.</p> <p>د. بیشتر تغییرات آب و هوا در کدام لایه از جو اتفاق می افتد؟</p> <p>و. سه منطقه مهم آب و هوای در نتیجه زوایه نامساوی خورشید را نام ببرید؟</p>	۲
۳/۵		<p>فصل سوم</p> <p>الف. عناصر.....و.....از مهمترین عناصر آب و هوا بر نوع و میزان پوشش گیاهی هست.</p> <p>ب. ساوان بین کدام زیست بوم ها قرار دارد؟</p> <p>ج. راهکارهای مهم در استفاده صحیح از جنگل های استوایی را نام ببرید؟</p> <p>د. این زیست بوم از نظر تنوع جانوری غنی هست و در طول سال هوا گرم هست؟</p>	۳




بارم	نام و نام خانوادگی: سپهر صفائی کلاس: ۹--۴ شماره صندلی: ۹۶	امتحان درس مطالعات اجتماعی پایه نهم مدرسه هیئت امنایی فرهنگیان متوسطه اول وقت ۶۰ دقیقه تاریخ امتحان ۱۴۰۱/۱۰/۲۴	ردیف
۳/۵		<p>۱. فصل اول</p> <p>الف. مریخ از سیاره های بیرونی منظومه خورشیدی هست؟ صحیح غلط</p> <p>ب. فاصله هر مکان با مدار استوا بر حسب درجه.....است</p> <p>ج. بر حسب مختصات جغرافیایی ۱۵ W گزینه صحیح را انتخاب کنید؟</p> <p>۱. طول جغرافیایی (غربی)</p> <p>۲. عرض جغرافیایی (جنوبی)</p> <p>۳. طول جغرافیایی (شرقی)</p> <p>۴. عرض جغرافیایی (شمالی)</p> <p>د. انقلاب زمستانی را توضیح دهید؟</p> <p>و. دلایل پیدایش فصل های مختلف را توضیح دهید؟</p>	۱
۳/۵		<p>فصل دوم</p> <p>الف. گاز های کره زمین شامل کدام از ارکان چهره زمین هست؟</p> <p>۱. بیوسفر</p> <p>۲. لیتوسفر</p> <p>۳. هیدروسفر</p> <p>۴. اتمسفر</p> <p>ب. دره های گرینلند V «شکل هست؟ صحیح. غلط.</p> <p>ج. مهم ترین مناطق صید ماهی جهان.....است.</p> <p>د. بیشتر تغییرات آب و هوا در کدام لایه از جو اتفاق می افتد؟</p> <p>و. سه منطقه مهم آب و هوای در نتیجه زوایه نامساوی خورشید را نام ببرید؟</p>	۲
۳/۵		<p>فصل سوم</p> <p>الف. عناصر.....و.....از مهمترین عناصر آب و هوا بر نوع و میزان پوشش گیاهی هست.</p> <p>ب. ساوان بین کدام زیست بوم ها قرار دارد؟</p> <p>ج. راهکارهای مهم در استفاده صحیح از جنگل های استوایی را نام ببرید؟</p> <p>د. این زیست بوم از نظر تنوع جانوری غنی هست و در طول سال هوا گرم هست؟</p>	۳



بارم	نام و نام خانوادگی: آرش ضرغام پوربویراحمدی کلاس: ۹--۴ شماره صندلی: ۹۷	امتحان درس مطالعات اجتماعی پایه نهم مدرسه هیئت امنایی فرهنگیان متوسطه اول وقت ۶۰ دقیقه تاریخ امتحان ۱۴۰۱/۱۰/۲۴	ردیف
۳/۵		<p>۱. فصل اول</p> <p>الف. مریخ از سیاره های بیرونی منظومه خورشیدی هست؟ صحیح غلط</p> <p>ب. فاصله هر مکان با مدار استوا بر حسب درجه.....است</p> <p>ج. بر حسب مختصات جغرافیایی ۱۵ W گزیننه صحیح را انتخاب کنید؟</p> <p>۱. طول جغرافیایی (غربی)</p> <p>۲. عرض جغرافیایی (جنوبی)</p> <p>۳. طول جغرافیایی (شرقی)</p> <p>۴. عرض جغرافیایی (شمالی)</p> <p>د. انقلاب زمستانی را توضیح دهید؟</p> <p>و. دلایل پیدایش فصل های مختلف را توضیح دهید؟</p>	۱
۳/۵		<p>فصل دوم</p> <p>الف. گاز های کره زمین شامل کدام از ارکان چهره زمین هست؟</p> <p>۱. بیوسفر</p> <p>۲. لیتوسفر</p> <p>۳. هیدروسفر</p> <p>۴. اتمسفر</p> <p>ب. دره های گرینلند V «شکل هست؟ صحیح. غلط.</p> <p>ج. مهم ترین مناطق صید ماهی جهان.....است.</p> <p>د. بیشتر تغییرات آب و هوا در کدام لایه از جو اتفاق می افتد؟</p> <p>و. سه منطقه مهم آب و هوای در نتیجه زوایه نامساوی خورشید را نام ببرید؟</p>	۲
۳/۵		<p>فصل سوم</p> <p>الف. عناصر.....و.....از مهمترین عناصر آب و هوا بر نوع و میزان پوشش گیاهی هست.</p> <p>ب. ساوان بین کدام زیست بوم ها قرار دارد؟</p> <p>ج. راهکارهای مهم در استفاده صحیح از جنگل های استوایی را نام ببرید؟</p> <p>د. این زیست بوم از نظر تنوع جانوری غنی هست و در طول سال هوا گرم هست؟</p>	۳




بارم	نام و نام خانوادگی: امیرمحمد طالب زاده کلاس: ۹--۴ شماره صندلی: ۹۸	امتحان درس مطالعات اجتماعی پایه نهم مدرسه هیئت امنایی فرهنگیان متوسطه اول وقت ۶۰ دقیقه تاریخ امتحان ۱۴۰۱/۱۰/۲۴	ردیف
۳/۵		<p>۱. فصل اول</p> <p>الف. مریخ از سیاره های بیرونی منظومه خورشیدی هست؟ صحیح غلط</p> <p>ب. فاصله هر مکان با مدار استوا بر حسب درجه.....است</p> <p>ج. بر حسب مختصات جغرافیایی ۱۵ W گزیننه صحیح را انتخاب کنید؟</p> <p>۱. طول جغرافیایی (غربی)</p> <p>۲. عرض جغرافیایی (جنوبی)</p> <p>۳. طول جغرافیایی (شرقی)</p> <p>۴. عرض جغرافیایی (شمالی)</p> <p>د. انقلاب زمستانی را توضیح دهید؟</p> <p>و. دلایل پیدایش فصل های مختلف را توضیح دهید؟</p>	۱
۳/۵		<p>فصل دوم</p> <p>الف. گاز های کره زمین شامل کدام از ارکان چهره زمین هست؟</p> <p>۱. بیوسفر</p> <p>۲. لیتوسفر</p> <p>۳. هیدروسفر</p> <p>۴. اتمسفر</p> <p>ب. دره های گرینلند V «شکل هست؟ صحیح. غلط.</p> <p>ج. مهم ترین مناطق صید ماهی جهان.....است.</p> <p>د. بیشتر تغییرات آب و هوا در کدام لایه از جو اتفاق می افتد؟</p> <p>و. سه منطقه مهم آب و هوای در نتیجه زوایه نامساوی خورشید را نام ببرید؟</p>	۲
۳/۵		<p>فصل سوم</p> <p>الف. عناصر.....و.....از مهمترین عناصر آب و هوا بر نوع و میزان پوشش گیاهی هست.</p> <p>ب. ساوان بین کدام زیست بوم ها قرار دارد؟</p> <p>ج. راهکارهای مهم در استفاده صحیح از جنگل های استوایی را نام ببرید؟</p> <p>د. این زیست بوم از نظر تنوع جانوری غنی هست و در طول سال هوا گرم هست؟</p>	۳




بارم	نام و نام خانوادگی: پوریا طاهری نسب کلاس: ۹--۴ شماره صندلی: ۹۹	امتحان درس مطالعات اجتماعی پایه نهم مدرسه هیئت امنایی فرهنگیان متوسطه اول وقت ۶۰ دقیقه تاریخ امتحان ۱۴۰۱/۱۰/۲۴	ردیف
۳/۵		<p>۱. فصل اول</p> <p>الف. مریخ از سیاره های بیرونی منظومه خورشیدی هست؟ صحیح غلط</p> <p>ب. فاصله هر مکان با مدار استوا بر حسب درجه.....است</p> <p>ج. بر حسب مختصات جغرافیایی ۱۵ W گزیننه صحیح را انتخاب کنید؟</p> <p>۱. طول جغرافیایی (غربی)</p> <p>۲. عرض جغرافیایی (جنوبی)</p> <p>۳. طول جغرافیایی (شرقی)</p> <p>۴. عرض جغرافیایی (شمالی)</p> <p>د. انقلاب زمستانی را توضیح دهید؟</p> <p>و. دلایل پیدایش فصل های مختلف را توضیح دهید؟</p>	۱
۳/۵		<p>فصل دوم</p> <p>الف. گاز های کره زمین شامل کدام از ارکان چهره زمین هست؟</p> <p>۱. بیوسفر</p> <p>۲. لیتوسفر</p> <p>۳. هیدروسفر</p> <p>۴. اتمسفر</p> <p>ب. دره های گرینلند V «شکل هست؟ صحیح. غلط.</p> <p>ج. مهم ترین مناطق صید ماهی جهان.....است.</p> <p>د. بیشتر تغییرات آب و هوا در کدام لایه از جو اتفاق می افتد؟</p> <p>و. سه منطقه مهم آب و هوای در نتیجه زوایه نامساوی خورشید را نام ببرید؟</p>	۲
۳/۵		<p>فصل سوم</p> <p>الف. عناصر.....و.....از مهمترین عناصر آب و هوا بر نوع و میزان پوشش گیاهی هست.</p> <p>ب. ساوان بین کدام زیست بوم ها قرار دارد؟</p> <p>ج. راهکارهای مهم در استفاده صحیح از جنگل های استوایی را نام ببرید؟</p> <p>د. این زیست بوم از نظر تنوع جانوری غنی هست و در طول سال هوا گرم هست؟</p>	۳




بارم	نام و نام خانوادگی: محمدهادی عبادی نسب کلاس: ۹--۴ شماره صندلی: ۱۰۰	امتحان درس مطالعات اجتماعی پایه نهم مدرسه هیئت امنایی فرهنگیان متوسطه اول وقت ۶۰ دقیقه تاریخ امتحان ۱۴۰۱/۱۰/۲۴	ردیف
۳/۵		<p>۱. فصل اول</p> <p>الف. مریخ از سیاره های بیرونی منظومه خورشیدی هست؟ صحیح غلط</p> <p>ب. فاصله هر مکان با مدار استوا بر حسب درجه.....است</p> <p>ج. بر حسب مختصات جغرافیایی ۱۵ W گزینه صحیح را انتخاب کنید؟</p> <p>۱. طول جغرافیایی (غربی)</p> <p>۲. عرض جغرافیایی (جنوبی)</p> <p>۳. طول جغرافیایی (شرقی)</p> <p>۴. عرض جغرافیایی (شمالی)</p> <p>د. انقلاب زمستانی را توضیح دهید؟</p> <p>و. دلایل پیدایش فصل های مختلف را توضیح دهید؟</p>	۱
۳/۵		<p>فصل دوم</p> <p>الف. گاز های کره زمین شامل کدام از ارکان چهره زمین هست؟</p> <p>۱. بیوسفر</p> <p>۲. لیتوسفر</p> <p>۳. هیدروسفر</p> <p>۴. اتمسفر</p> <p>ب. دره های گرینلند V «شکل هست؟ صحیح. غلط.</p> <p>ج. مهم ترین مناطق صید ماهی جهان.....است.</p> <p>د. بیشتر تغییرات آب و هوا در کدام لایه از جو اتفاق می افتد؟</p> <p>و. سه منطقه مهم آب و هوای در نتیجه زوایه نامساوی خورشید را نام ببرید؟</p>	۲
۳/۵		<p>فصل سوم</p> <p>الف. عناصر.....و.....از مهمترین عناصر آب و هوا بر نوع و میزان پوشش گیاهی هست.</p> <p>ب. ساوان بین کدام زیست بوم ها قرار دارد؟</p> <p>ج. راهکارهای مهم در استفاده صحیح از جنگل های استوایی را نام ببرید؟</p> <p>د. این زیست بوم از نظر تنوع جانوری غنی هست و در طول سال هوا گرم هست؟</p>	۳




بارم	نام و نام خانوادگی: بنیامین عباسی کریک کلاس: ۹--۴ شماره صندلی: ۱۰۱	امتحان درس مطالعات اجتماعی پایه نهم مدرسه هیئت امنایی فرهنگیان متوسطه اول وقت ۶۰ دقیقه تاریخ امتحان ۱۴۰۱/۱۰/۲۴	ردیف
۳/۵		<p>۱. فصل اول</p> <p>الف. مریخ از سیاره های بیرونی منظومه خورشیدی هست؟ صحیح غلط</p> <p>ب. فاصله هر مکان با مدار استوا بر حسب درجه.....است</p> <p>ج. بر حسب مختصات جغرافیایی ۱۵ W گزیننه صحیح را انتخاب کنید؟</p> <p>۱. طول جغرافیایی (غربی)</p> <p>۲. عرض جغرافیایی (جنوبی)</p> <p>۳. طول جغرافیایی (شرقی)</p> <p>۴. عرض جغرافیایی (شمالی)</p> <p>د. انقلاب زمستانی را توضیح دهید؟</p> <p>و. دلایل پیدایش فصل های مختلف را توضیح دهید؟</p>	۱
۳/۵		<p>فصل دوم</p> <p>الف. گاز های کره زمین شامل کدام از ارکان چهره زمین هست؟</p> <p>۱. بیوسفر</p> <p>۲. لیتوسفر</p> <p>۳. هیدروسفر</p> <p>۴. اتمسفر</p> <p>ب. دره های گرینلند V «شکل هست؟ صحیح. غلط.</p> <p>ج. مهم ترین مناطق صید ماهی جهان.....است.</p> <p>د. بیشتر تغییرات آب و هوا در کدام لایه از جو اتفاق می افتد؟</p> <p>و. سه منطقه مهم آب و هوای در نتیجه زوایه نامساوی خورشید را نام ببرید؟</p>	۲
۳/۵		<p>فصل سوم</p> <p>الف. عناصر.....و.....از مهمترین عناصر آب و هوا بر نوع و میزان پوشش گیاهی هست.</p> <p>ب. ساوان بین کدام زیست بوم ها قرار دارد؟</p> <p>ج. راهکارهای مهم در استفاده صحیح از جنگل های استوایی را نام ببرید؟</p> <p>د. این زیست بوم از نظر تنوع جانوری غنی هست و در طول سال هوا گرم هست؟</p>	۳



بارم	نام و نام خانوادگی: پیمان عسکری کلاس: ۹--۴ شماره صندلی: ۱۰۲	امتحان درس مطالعات اجتماعی پایه نهم مدرسه هیئت امنایی فرهنگیان متوسطه اول وقت ۶۰ دقیقه تاریخ امتحان ۱۴۰۱/۱۰/۲۴	ردیف
۳/۵		<p>۱. فصل اول</p> <p>الف. مریخ از سیاره های بیرونی منظومه خورشیدی هست؟ صحیح غلط</p> <p>ب. فاصله هر مکان با مدار استوا بر حسب درجه.....است</p> <p>ج. بر حسب مختصات جغرافیایی ۱۵ W گزیننه صحیح را انتخاب کنید؟</p> <p>۱. طول جغرافیایی (غربی)</p> <p>۲. عرض جغرافیایی (جنوبی)</p> <p>۳. طول جغرافیایی (شرقی)</p> <p>۴. عرض جغرافیایی (شمالی)</p> <p>د. انقلاب زمستانی را توضیح دهید؟</p> <p>و. دلایل پیدایش فصل های مختلف را توضیح دهید؟</p>	۱
۳/۵		<p>فصل دوم</p> <p>الف. گاز های کره زمین شامل کدام از ارکان چهره زمین هست؟</p> <p>۱. بیوسفر</p> <p>۲. لیتوسفر</p> <p>۳. هیدروسفر</p> <p>۴. اتمسفر</p> <p>ب. دره های گرینلند V «شکل هست؟ صحیح. غلط.</p> <p>ج. مهم ترین مناطق صید ماهی جهان.....است.</p> <p>د. بیشتر تغییرات آب و هوا در کدام لایه از جو اتفاق می افتد؟</p> <p>و. سه منطقه مهم آب و هوای در نتیجه زوایه نامساوی خورشید را نام ببرید؟</p>	۲
۳/۵		<p>فصل سوم</p> <p>الف. عناصر.....و.....از مهمترین عناصر آب و هوا بر نوع و میزان پوشش گیاهی هست.</p> <p>ب. ساوان بین کدام زیست بوم ها قرار دارد؟</p> <p>ج. راهکارهای مهم در استفاده صحیح از جنگل های استوایی را نام ببرید؟</p> <p>د. این زیست بوم از نظر تنوع جانوری غنی هست و در طول سال هوا گرم هست؟</p>	۳




بارم	نام و نام خانوادگی: سیدآرش عسکری کلاس: ۹--۴ شماره صندلی: ۱۰۳	امتحان درس مطالعات اجتماعی پایه نهم مدرسه هیئت امنایی فرهنگیان متوسطه اول وقت ۶۰ دقیقه تاریخ امتحان ۱۴۰۱/۱۰/۲۴	ردیف
۳/۵		<p>۱. فصل اول</p> <p>الف. مریخ از سیاره های بیرونی منظومه خورشیدی هست؟ صحیح غلط</p> <p>ب. فاصله هر مکان با مدار استوا بر حسب درجه.....است</p> <p>ج. بر حسب مختصات جغرافیایی ۱۵ W گزینه صحیح را انتخاب کنید؟</p> <p>۱. طول جغرافیایی (غربی)</p> <p>۲. عرض جغرافیایی (جنوبی)</p> <p>۳. طول جغرافیایی (شرقی)</p> <p>۴. عرض جغرافیایی (شمالی)</p> <p>د. انقلاب زمستانی را توضیح دهید؟</p> <p>و. دلایل پیدایش فصل های مختلف را توضیح دهید؟</p>	۱
۳/۵		<p>فصل دوم</p> <p>الف. گاز های کره زمین شامل کدام از ارکان چهره زمین هست؟</p> <p>۱. بیوسفر</p> <p>۲. لیتوسفر</p> <p>۳. هیدروسفر</p> <p>۴. اتمسفر</p> <p>ب. دره های گرینلند V «شکل هست؟ صحیح. غلط.</p> <p>ج. مهم ترین مناطق صید ماهی جهان.....است.</p> <p>د. بیشتر تغییرات آب و هوا در کدام لایه از جو اتفاق می افتد؟</p> <p>و. سه منطقه مهم آب و هوای در نتیجه زوایه نامساوی خورشید را نام ببرید؟</p>	۲
۳/۵		<p>فصل سوم</p> <p>الف. عناصر.....و.....از مهمترین عناصر آب و هوا بر نوع و میزان پوشش گیاهی هست.</p> <p>ب. ساوان بین کدام زیست بوم ها قرار دارد؟</p> <p>ج. راهکارهای مهم در استفاده صحیح از جنگل های استوایی را نام ببرید؟</p> <p>د. این زیست بوم از نظر تنوع جانوری غنی هست و در طول سال هوا گرم هست؟</p>	۳



بارم	نام و نام خانوادگی: سیدامیرمحمد عسکری کلاس: ۹--۴ شماره صندلی: ۱۰۴	امتحان درس مطالعات اجتماعی پایه نهم مدرسه هیئت امنایی فرهنگیان متوسطه اول وقت ۶۰ دقیقه تاریخ امتحان ۱۴۰۱/۱۰/۲۴	ردیف
۳/۵		<p>۱. فصل اول</p> <p>الف. مریخ از سیاره های بیرونی منظومه خورشیدی هست؟ صحیح غلط</p> <p>ب. فاصله هر مکان با مدار استوا بر حسب درجه.....است</p> <p>ج. بر حسب مختصات جغرافیایی ۱۵ W گزیننه صحیح را انتخاب کنید؟</p> <p>۱. طول جغرافیایی (غربی)</p> <p>۲. عرض جغرافیایی (جنوبی)</p> <p>۳. طول جغرافیایی (شرقی)</p> <p>۴. عرض جغرافیایی (شمالی)</p> <p>د. انقلاب زمستانی را توضیح دهید؟</p> <p>و. دلایل پیدایش فصل های مختلف را توضیح دهید؟</p>	۱
۳/۵		<p>فصل دوم</p> <p>الف. گاز های کره زمین شامل کدام از ارکان چهره زمین هست؟</p> <p>۱. بیوسفر</p> <p>۲. لیتوسفر</p> <p>۳. هیدروسفر</p> <p>۴. اتمسفر</p> <p>ب. دره های گرینلند V «شکل هست؟ صحیح. غلط.</p> <p>ج. مهم ترین مناطق صید ماهی جهان.....است.</p> <p>د. بیشتر تغییرات آب و هوا در کدام لایه از جو اتفاق می افتد؟</p> <p>و. سه منطقه مهم آب و هوای در نتیجه زوایه نامساوی خورشید را نام ببرید؟</p>	۲
۳/۵		<p>فصل سوم</p> <p>الف. عناصر.....و.....از مهمترین عناصر آب و هوا بر نوع و میزان پوشش گیاهی هست.</p> <p>ب. ساوان بین کدام زیست بوم ها قرار دارد؟</p> <p>ج. راهکارهای مهم در استفاده صحیح از جنگل های استوایی را نام ببرید؟</p> <p>د. این زیست بوم از نظر تنوع جانوری غنی هست و در طول سال هوا گرم هست؟</p>	۳




بارم	نام و نام خانوادگی: محمدمهدی علی پور کلاس: ۹--۴ شماره صندلی: ۱۰۵	امتحان درس مطالعات اجتماعی پایه نهم مدرسه هیئت امنایی فرهنگیان متوسطه اول وقت ۶۰ دقیقه تاریخ امتحان ۱۴۰۱/۱۰/۲۴	ردیف
۳/۵	<p>۱. فصل اول</p> <p>الف. مریخ از سیاره های بیرونی منظومه خورشیدی هست؟ صحیح غلط</p> <p>ب. فاصله هر مکان با مدار استوا بر حسب درجه.....است</p> <p>ج. بر حسب مختصات جغرافیایی ۱۵ W گزینه صحیح را انتخاب کنید؟</p> <p>۱. طول جغرافیایی (غربی)</p> <p>۲. عرض جغرافیایی (جنوبی)</p> <p>۳. طول جغرافیایی (شرقی)</p> <p>۴. عرض جغرافیایی (شمالی)</p> <p>د. انقلاب زمستانی را توضیح دهید؟</p> <p>و. دلایل پیدایش فصل های مختلف را توضیح دهید؟</p>		۱
۳/۵	<p>فصل دوم</p> <p>الف. گاز های کره زمین شامل کدام از ارکان چهره زمین هست؟</p> <p>۱. بیوسفر</p> <p>۲. لیتوسفر</p> <p>۳. هیدروسفر</p> <p>۴. اتمسفر</p> <p>ب. دره های گرینلند V «شکل هست؟ صحیح. غلط.</p> <p>ج. مهم ترین مناطق صید ماهی جهان.....است.</p> <p>د. بیشتر تغییرات آب و هوا در کدام لایه از جو اتفاق می افتد؟</p> <p>و. سه منطقه مهم آب و هوای در نتیجه زوایه نامساوی خورشید را نام ببرید؟</p>		۲
۳/۵	<p>فصل سوم</p> <p>الف. عناصر.....و.....از مهمترین عناصر آب و هوا بر نوع و میزان پوشش گیاهی هست.</p> <p>ب. ساوان بین کدام زیست بوم ها قرار دارد؟</p> <p>ج. راهکارهای مهم در استفاده صحیح از جنگل های استوایی را نام ببرید؟</p> <p>د. این زیست بوم از نظر تنوع جانوری غنی هست و در طول سال هوا گرم هست؟</p>		۳




بارم	نام و نام خانوادگی: پویا علی پورامیرآباد کلاس: ۹--۴ شماره صندلی: ۱۰۶	امتحان درس مطالعات اجتماعی پایه نهم مدرسه هیئت امنایی فرهنگیان متوسطه اول وقت ۶۰ دقیقه تاریخ امتحان ۱۴۰۱/۱۰/۲۴	ردیف
۳/۵		<p>۱. فصل اول</p> <p>الف. مریخ از سیاره های بیرونی منظومه خورشیدی هست؟ صحیح غلط</p> <p>ب. فاصله هر مکان با مدار استوا بر حسب درجه.....است</p> <p>ج. بر حسب مختصات جغرافیایی ۱۵ W گزیننه صحیح را انتخاب کنید؟</p> <p>۱. طول جغرافیایی (غربی)</p> <p>۲. عرض جغرافیایی (جنوبی)</p> <p>۳. طول جغرافیایی (شرقی)</p> <p>۴. عرض جغرافیایی (شمالی)</p> <p>د. انقلاب زمستانی را توضیح دهید؟</p> <p>و. دلایل پیدایش فصل های مختلف را توضیح دهید؟</p>	۱
۳/۵		<p>فصل دوم</p> <p>الف. گاز های کره زمین شامل کدام از ارکان چهره زمین هست؟</p> <p>۱. بیوسفر</p> <p>۲. لیتوسفر</p> <p>۳. هیدروسفر</p> <p>۴. اتمسفر</p> <p>ب. دره های گرینلند V «شکل هست؟ صحیح. غلط.</p> <p>ج. مهم ترین مناطق صید ماهی جهان.....است.</p> <p>د. بیشتر تغییرات آب و هوا در کدام لایه از جو اتفاق می افتد؟</p> <p>و. سه منطقه مهم آب و هوای در نتیجه زوایه نامساوی خورشید را نام ببرید؟</p>	۲
۳/۵		<p>فصل سوم</p> <p>الف. عناصر.....و.....از مهمترین عناصر آب و هوا بر نوع و میزان پوشش گیاهی هست.</p> <p>ب. ساوان بین کدام زیست بوم ها قرار دارد؟</p> <p>ج. راهکارهای مهم در استفاده صحیح از جنگل های استوایی را نام ببرید؟</p> <p>د. این زیست بوم از نظر تنوع جانوری غنی هست و در طول سال هوا گرم هست؟</p>	۳




بارم	نام و نام خانوادگی: سیدامیررضا علی پورمهریان کلاس: ۹--۴ شماره صندلی: ۱۰۷	امتحان درس مطالعات اجتماعی پایه نهم مدرسه هیئت امنایی فرهنگیان متوسطه اول وقت ۶۰ دقیقه تاریخ امتحان ۱۴۰۱/۱۰/۲۴	ردیف
۳/۵		<p>۱. فصل اول</p> <p>الف. مریخ از سیاره های بیرونی منظومه خورشیدی هست؟ صحیح غلط</p> <p>ب. فاصله هر مکان با مدار استوا بر حسب درجه.....است</p> <p>ج. بر حسب مختصات جغرافیایی ۱۵ W گزیننه صحیح را انتخاب کنید؟</p> <p>۱. طول جغرافیایی (غربی)</p> <p>۲. عرض جغرافیایی (جنوبی)</p> <p>۳. طول جغرافیایی (شرقی)</p> <p>۴. عرض جغرافیایی (شمالی)</p> <p>د. انقلاب زمستانی را توضیح دهید؟</p> <p>و. دلایل پیدایش فصل های مختلف را توضیح دهید؟</p>	۱
۳/۵		<p>فصل دوم</p> <p>الف. گاز های کره زمین شامل کدام از ارکان چهره زمین هست؟</p> <p>۱. بیوسفر</p> <p>۲. لیتوسفر</p> <p>۳. هیدروسفر</p> <p>۴. اتمسفر</p> <p>ب. دره های گرینلند V «شکل هست؟ صحیح. غلط.</p> <p>ج. مهم ترین مناطق صید ماهی جهان.....است.</p> <p>د. بیشتر تغییرات آب و هوا در کدام لایه از جو اتفاق می افتد؟</p> <p>و. سه منطقه مهم آب و هوای در نتیجه زوایه نامساوی خورشید را نام ببرید؟</p>	۲
۳/۵		<p>فصل سوم</p> <p>الف. عناصر.....و.....از مهمترین عناصر آب و هوا بر نوع و میزان پوشش گیاهی هست.</p> <p>ب. ساوان بین کدام زیست بوم ها قرار دارد؟</p> <p>ج. راهکارهای مهم در استفاده صحیح از جنگل های استوایی را نام ببرید؟</p> <p>د. این زیست بوم از نظر تنوع جانوری غنی هست و در طول سال هوا گرم هست؟</p>	۳




بارم	نام و نام خانوادگی: امیرمحمد عوض پورناصرآباد کلاس: ۹--۴ شماره صندلی: ۱۰۸	امتحان درس مطالعات اجتماعی پایه نهم مدرسه هیئت امنایی فرهنگیان متوسطه اول وقت ۶۰ دقیقه تاریخ امتحان ۱۴۰۱/۱۰/۲۴	ردیف
۳/۵		<p>۱. فصل اول</p> <p>الف. مریخ از سیاره های بیرونی منظومه خورشیدی هست؟ صحیح غلط</p> <p>ب. فاصله هر مکان با مدار استوا بر حسب درجه.....است</p> <p>ج. بر حسب مختصات جغرافیایی ۱۵ W گزیننه صحیح را انتخاب کنید؟</p> <p>۱. طول جغرافیایی (غربی)</p> <p>۲. عرض جغرافیایی (جنوبی)</p> <p>۳. طول جغرافیایی (شرقی)</p> <p>۴. عرض جغرافیایی (شمالی)</p> <p>د. انقلاب زمستانی را توضیح دهید؟</p> <p>و. دلایل پیدایش فصل های مختلف را توضیح دهید؟</p>	۱
۳/۵		<p>فصل دوم</p> <p>الف. گاز های کره زمین شامل کدام از ارکان چهره زمین هست؟</p> <p>۱. بیوسفر</p> <p>۲. لیتوسفر</p> <p>۳. هیدروسفر</p> <p>۴. اتمسفر</p> <p>ب. دره های گرینلند V «شکل هست؟ صحیح. غلط.</p> <p>ج. مهم ترین مناطق صید ماهی جهان.....است.</p> <p>د. بیشتر تغییرات آب و هوا در کدام لایه از جو اتفاق می افتد؟</p> <p>و. سه منطقه مهم آب و هوای در نتیجه زوایه نامساوی خورشید را نام ببرید؟</p>	۲
۳/۵		<p>فصل سوم</p> <p>الف. عناصر.....و.....از مهمترین عناصر آب و هوا بر نوع و میزان پوشش گیاهی هست.</p> <p>ب. ساوان بین کدام زیست بوم ها قرار دارد؟</p> <p>ج. راهکارهای مهم در استفاده صحیح از جنگل های استوایی را نام ببرید؟</p> <p>د. این زیست بوم از نظر تنوع جانوری غنی هست و در طول سال هوا گرم هست؟</p>	۳




بارم	نام و نام خانوادگی: محمدمهدی غلامی کلاس: ۹--۴ شماره صندلی: ۱۰۹	امتحان درس مطالعات اجتماعی پایه نهم مدرسه هیئت امنایی فرهنگیان متوسطه اول وقت ۶۰ دقیقه تاریخ امتحان ۱۴۰۱/۱۰/۲۴	ردیف
۳/۵		<p>۱. فصل اول</p> <p>الف. مریخ از سیاره های بیرونی منظومه خورشیدی هست؟ صحیح غلط</p> <p>ب. فاصله هر مکان با مدار استوا بر حسب درجه.....است</p> <p>ج. بر حسب مختصات جغرافیایی ۱۵ W گزیننه صحیح را انتخاب کنید؟</p> <p>۱. طول جغرافیایی (غربی)</p> <p>۲. عرض جغرافیایی (جنوبی)</p> <p>۳. طول جغرافیایی (شرقی)</p> <p>۴. عرض جغرافیایی (شمالی)</p> <p>د. انقلاب زمستانی را توضیح دهید؟</p> <p>و. دلایل پیدایش فصل های مختلف را توضیح دهید؟</p>	۱
۳/۵		<p>فصل دوم</p> <p>الف. گاز های کره زمین شامل کدام از ارکان چهره زمین هست؟</p> <p>۱. بیوسفر</p> <p>۲. لیتوسفر</p> <p>۳. هیدروسفر</p> <p>۴. اتمسفر</p> <p>ب. دره های گرینلند V «شکل هست؟ صحیح. غلط.</p> <p>ج. مهم ترین مناطق صید ماهی جهان.....است.</p> <p>د. بیشتر تغییرات آب و هوا در کدام لایه از جو اتفاق می افتد؟</p> <p>و. سه منطقه مهم آب و هوای در نتیجه زوایه نامساوی خورشید را نام ببرید؟</p>	۲
۳/۵		<p>فصل سوم</p> <p>الف. عناصر.....و.....از مهمترین عناصر آب و هوا بر نوع و میزان پوشش گیاهی هست.</p> <p>ب. ساوان بین کدام زیست بوم ها قرار دارد؟</p> <p>ج. راهکارهای مهم در استفاده صحیح از جنگل های استوایی را نام ببرید؟</p> <p>د. این زیست بوم از نظر تنوع جانوری غنی هست و در طول سال هوا گرم هست؟</p>	۳




بارم	نام و نام خانوادگی: امیرمحمد غیوریان منش کلاس: ۹--۴ شماره صندلی: ۱۱۰	امتحان درس مطالعات اجتماعی پایه نهم مدرسه هیئت امنایی فرهنگیان متوسطه اول وقت ۶۰ دقیقه تاریخ امتحان ۱۴۰۱/۱۰/۲۴	ردیف
۳/۵		<p>۱. فصل اول</p> <p>الف. مریخ از سیاره های بیرونی منظومه خورشیدی هست؟ صحیح غلط</p> <p>ب. فاصله هر مکان با مدار استوا بر حسب درجه.....است</p> <p>ج. بر حسب مختصات جغرافیایی ۱۵ W گزیننه صحیح را انتخاب کنید؟</p> <p>۱. طول جغرافیایی (غربی)</p> <p>۲. عرض جغرافیایی (جنوبی)</p> <p>۳. طول جغرافیایی (شرقی)</p> <p>۴. عرض جغرافیایی (شمالی)</p> <p>د. انقلاب زمستانی را توضیح دهید؟</p> <p>و. دلایل پیدایش فصل های مختلف را توضیح دهید؟</p>	۱
۳/۵		<p>فصل دوم</p> <p>الف. گاز های کره زمین شامل کدام از ارکان چهره زمین هست؟</p> <p>۱. بیوسفر</p> <p>۲. لیتوسفر</p> <p>۳. هیدروسفر</p> <p>۴. اتمسفر</p> <p>ب. دره های گرینلند V «شکل هست؟ صحیح. غلط.</p> <p>ج. مهم ترین مناطق صید ماهی جهان.....است.</p> <p>د. بیشتر تغییرات آب و هوا در کدام لایه از جو اتفاق می افتد؟</p> <p>و. سه منطقه مهم آب و هوای در نتیجه زوایه نامساوی خورشید را نام ببرید؟</p>	۲
۳/۵		<p>فصل سوم</p> <p>الف. عناصر.....و.....از مهمترین عناصر آب و هوا بر نوع و میزان پوشش گیاهی هست.</p> <p>ب. ساوان بین کدام زیست بوم ها قرار دارد؟</p> <p>ج. راهکارهای مهم در استفاده صحیح از جنگل های استوایی را نام ببرید؟</p> <p>د. این زیست بوم از نظر تنوع جانوری غنی هست و در طول سال هوا گرم هست؟</p>	۳




بارم	نام و نام خانوادگی: مهرشاد فاضلی کلاس: ۹--۴ شماره صندلی: ۱۱۱	امتحان درس مطالعات اجتماعی پایه نهم مدرسه هیئت امنایی فرهنگیان متوسطه اول وقت ۶۰ دقیقه تاریخ امتحان ۱۴۰۱/۱۰/۲۴	ردیف
۳/۵		<p>۱. فصل اول</p> <p>الف. مریخ از سیاره های بیرونی منظومه خورشیدی هست؟ صحیح غلط</p> <p>ب. فاصله هر مکان با مدار استوا بر حسب درجه.....است</p> <p>ج. بر حسب مختصات جغرافیایی ۱۵ W گزینه صحیح را انتخاب کنید؟</p> <p>۱. طول جغرافیایی (غربی)</p> <p>۲. عرض جغرافیایی (جنوبی)</p> <p>۳. طول جغرافیایی (شرقی)</p> <p>۴. عرض جغرافیایی (شمالی)</p> <p>د. انقلاب زمستانی را توضیح دهید؟</p> <p>و. دلایل پیدایش فصل های مختلف را توضیح دهید؟</p>	۱
۳/۵		<p>فصل دوم</p> <p>الف. گاز های کره زمین شامل کدام از ارکان چهره زمین هست؟</p> <p>۱. بیوسفر</p> <p>۲. لیتوسفر</p> <p>۳. هیدروسفر</p> <p>۴. اتمسفر</p> <p>ب. دره های گرینلند V «شکل هست؟ صحیح. غلط.</p> <p>ج. مهم ترین مناطق صید ماهی جهان.....است.</p> <p>د. بیشتر تغییرات آب و هوا در کدام لایه از جو اتفاق می افتد؟</p> <p>و. سه منطقه مهم آب و هوای در نتیجه زوایه نامساوی خورشید را نام ببرید؟</p>	۲
۳/۵		<p>فصل سوم</p> <p>الف. عناصر.....و.....از مهمترین عناصر آب و هوا بر نوع و میزان پوشش گیاهی هست.</p> <p>ب. ساوان بین کدام زیست بوم ها قرار دارد؟</p> <p>ج. راهکارهای مهم در استفاده صحیح از جنگل های استوایی را نام ببرید؟</p> <p>د. این زیست بوم از نظر تنوع جانوری غنی هست و در طول سال هوا گرم هست؟</p>	۳




بارم	نام و نام خانوادگی: امیدرضا فرجی کلاس: ۹--۴ شماره صندلی: ۱۱۲	امتحان درس مطالعات اجتماعی پایه نهم مدرسه هیئت امنایی فرهنگیان متوسطه اول وقت ۶۰ دقیقه تاریخ امتحان ۱۴۰۱/۱۰/۲۴	ردیف
۳/۵		<p>۱. فصل اول</p> <p>الف. مریخ از سیاره های بیرونی منظومه خورشیدی هست؟ صحیح غلط</p> <p>ب. فاصله هر مکان با مدار استوا بر حسب درجه.....است</p> <p>ج. بر حسب مختصات جغرافیایی ۱۵ W گزیننه صحیح را انتخاب کنید؟</p> <p>۱. طول جغرافیایی (غربی)</p> <p>۲. عرض جغرافیایی (جنوبی)</p> <p>۳. طول جغرافیایی (شرقی)</p> <p>۴. عرض جغرافیایی (شمالی)</p> <p>د. انقلاب زمستانی را توضیح دهید؟</p> <p>و. دلایل پیدایش فصل های مختلف را توضیح دهید؟</p>	۱
۳/۵		<p>فصل دوم</p> <p>الف. گاز های کره زمین شامل کدام از ارکان چهره زمین هست؟</p> <p>۱. بیوسفر</p> <p>۲. لیتوسفر</p> <p>۳. هیدروسفر</p> <p>۴. اتمسفر</p> <p>ب. دره های گرینلند V «شکل هست؟ صحیح. غلط.</p> <p>ج. مهم ترین مناطق صید ماهی جهان.....است.</p> <p>د. بیشتر تغییرات آب و هوا در کدام لایه از جو اتفاق می افتد؟</p> <p>و. سه منطقه مهم آب و هوای در نتیجه زوایه نامساوی خورشید را نام ببرید؟</p>	۲
۳/۵		<p>فصل سوم</p> <p>الف. عناصر.....و.....از مهمترین عناصر آب و هوا بر نوع و میزان پوشش گیاهی هست.</p> <p>ب. ساوان بین کدام زیست بوم ها قرار دارد؟</p> <p>ج. راهکارهای مهم در استفاده صحیح از جنگل های استوایی را نام ببرید؟</p> <p>د. این زیست بوم از نظر تنوع جانوری غنی هست و در طول سال هوا گرم هست؟</p>	۳




بارم	نام و نام خانوادگی: رضا فریدونی کلاس: ۹--۴ شماره صندلی: ۱۱۳	امتحان درس مطالعات اجتماعی پایه نهم مدرسه هیئت امنایی فرهنگیان متوسطه اول وقت ۶۰ دقیقه تاریخ امتحان ۱۴۰۱/۱۰/۲۴	ردیف
۳/۵		<p>۱. فصل اول</p> <p>الف. مریخ از سیاره های بیرونی منظومه خورشیدی هست؟ صحیح غلط</p> <p>ب. فاصله هر مکان با مدار استوا بر حسب درجه.....است</p> <p>ج. بر حسب مختصات جغرافیایی ۱۵ W گزیننه صحیح را انتخاب کنید؟</p> <p>۱. طول جغرافیایی (غربی)</p> <p>۲. عرض جغرافیایی (جنوبی)</p> <p>۳. طول جغرافیایی (شرقی)</p> <p>۴. عرض جغرافیایی (شمالی)</p> <p>د. انقلاب زمستانی را توضیح دهید؟</p> <p>و. دلایل پیدایش فصل های مختلف را توضیح دهید؟</p>	۱
۳/۵		<p>فصل دوم</p> <p>الف. گاز های کره زمین شامل کدام از ارکان چهره زمین هست؟</p> <p>۱. بیوسفر</p> <p>۲. لیتوسفر</p> <p>۳. هیدروسفر</p> <p>۴. اتمسفر</p> <p>ب. دره های گرینلند V «شکل هست؟ صحیح. غلط.</p> <p>ج. مهم ترین مناطق صید ماهی جهان.....است.</p> <p>د. بیشتر تغییرات آب و هوا در کدام لایه از جو اتفاق می افتد؟</p> <p>و. سه منطقه مهم آب و هوای در نتیجه زوایه نامساوی خورشید را نام ببرید؟</p>	۲
۳/۵		<p>فصل سوم</p> <p>الف. عناصر.....و.....از مهمترین عناصر آب و هوا بر نوع و میزان پوشش گیاهی هست.</p> <p>ب. ساوان بین کدام زیست بوم ها قرار دارد؟</p> <p>ج. راهکارهای مهم در استفاده صحیح از جنگل های استوایی را نام ببرید؟</p> <p>د. این زیست بوم از نظر تنوع جانوری غنی هست و در طول سال هوا گرم هست؟</p>	۳




بارم	نام و نام خانوادگی: مهدی فصیح فرد کلاس: ۹--۴ شماره صندلی: ۱۱۴	امتحان درس مطالعات اجتماعی پایه نهم مدرسه هیئت امنایی فرهنگیان متوسطه اول وقت ۶۰ دقیقه تاریخ امتحان ۱۴۰۱/۱۰/۲۴	ردیف
۳/۵		<p>۱. فصل اول</p> <p>الف. مریخ از سیاره های بیرونی منظومه خورشیدی هست؟ صحیح غلط</p> <p>ب. فاصله هر مکان با مدار استوا بر حسب درجه.....است</p> <p>ج. بر حسب مختصات جغرافیایی ۱۵ W گزیننه صحیح را انتخاب کنید؟</p> <p>۱. طول جغرافیایی (غربی)</p> <p>۲. عرض جغرافیایی (جنوبی)</p> <p>۳. طول جغرافیایی (شرقی)</p> <p>۴. عرض جغرافیایی (شمالی)</p> <p>د. انقلاب زمستانی را توضیح دهید؟</p> <p>و. دلایل پیدایش فصل های مختلف را توضیح دهید؟</p>	۱
۳/۵		<p>فصل دوم</p> <p>الف. گاز های کره زمین شامل کدام از ارکان چهره زمین هست؟</p> <p>۱. بیوسفر</p> <p>۲. لیتوسفر</p> <p>۳. هیدروسفر</p> <p>۴. اتمسفر</p> <p>ب. دره های گرینلند V «شکل هست؟ صحیح. غلط.</p> <p>ج. مهم ترین مناطق صید ماهی جهان.....است.</p> <p>د. بیشتر تغییرات آب و هوا در کدام لایه از جو اتفاق می افتد؟</p> <p>و. سه منطقه مهم آب و هوای در نتیجه زوایه نامساوی خورشید را نام ببرید؟</p>	۲
۳/۵		<p>فصل سوم</p> <p>الف. عناصر.....و.....از مهمترین عناصر آب و هوا بر نوع و میزان پوشش گیاهی هست.</p> <p>ب. ساوان بین کدام زیست بوم ها قرار دارد؟</p> <p>ج. راهکارهای مهم در استفاده صحیح از جنگل های استوایی را نام ببرید؟</p> <p>د. این زیست بوم از نظر تنوع جانوری غنی هست و در طول سال هوا گرم هست؟</p>	۳




بارم	نام و نام خانوادگی: امیرحسین قبادپورجهان آباد کلاس: ۹--۴ شماره صندلی: ۱۱۵	امتحان درس مطالعات اجتماعی پایه نهم مدرسه هیئت امنایی فرهنگیان متوسطه اول وقت ۶۰ دقیقه تاریخ امتحان ۱۴۰۱/۱۰/۲۴	ردیف
۳/۵		<p>۱. فصل اول</p> <p>الف. مریخ از سیاره های بیرونی منظومه خورشیدی هست؟ صحیح غلط</p> <p>ب. فاصله هر مکان با مدار استوا بر حسب درجه.....است</p> <p>ج. بر حسب مختصات جغرافیایی ۱۵ W گزینه صحیح را انتخاب کنید؟</p> <p>۱. طول جغرافیایی (غربی)</p> <p>۲. عرض جغرافیایی (جنوبی)</p> <p>۳. طول جغرافیایی (شرقی)</p> <p>۴. عرض جغرافیایی (شمالی)</p> <p>د. انقلاب زمستانی را توضیح دهید؟</p> <p>و. دلایل پیدایش فصل های مختلف را توضیح دهید؟</p>	۱
۳/۵		<p>فصل دوم</p> <p>الف. گاز های کره زمین شامل کدام از ارکان چهره زمین هست؟</p> <p>۱. بیوسفر</p> <p>۲. لیتوسفر</p> <p>۳. هیدروسفر</p> <p>۴. اتمسفر</p> <p>ب. دره های گرینلند V «شکل هست؟ صحیح. غلط.</p> <p>ج. مهم ترین مناطق صید ماهی جهان.....است.</p> <p>د. بیشتر تغییرات آب و هوا در کدام لایه از جو اتفاق می افتد؟</p> <p>و. سه منطقه مهم آب و هوای در نتیجه زوایه نامساوی خورشید را نام ببرید؟</p>	۲
۳/۵		<p>فصل سوم</p> <p>الف. عناصر.....و.....از مهمترین عناصر آب و هوا بر نوع و میزان پوشش گیاهی هست.</p> <p>ب. ساوان بین کدام زیست بوم ها قرار دارد؟</p> <p>ج. راهکارهای مهم در استفاده صحیح از جنگل های استوایی را نام ببرید؟</p> <p>د. این زیست بوم از نظر تنوع جانوری غنی هست و در طول سال هوا گرم هست؟</p>	۳




بارم	نام و نام خانوادگی: امیرحسین کاظمی ده برآفتاب کلاس: ۹--۴ شماره صندلی: ۱۱۶	امتحان درس مطالعات اجتماعی پایه نهم مدرسه هیئت امنایی فرهنگیان متوسطه اول وقت ۶۰ دقیقه تاریخ امتحان ۱۴۰۱/۱۰/۲۴	ردیف
۳/۵		<p>۱. فصل اول</p> <p>الف. مریخ از سیاره های بیرونی منظومه خورشیدی هست؟ صحیح غلط</p> <p>ب. فاصله هر مکان با مدار استوا بر حسب درجه.....است</p> <p>ج. بر حسب مختصات جغرافیایی ۱۵ W گزیننه صحیح را انتخاب کنید؟</p> <p>۱. طول جغرافیایی (غربی)</p> <p>۲. عرض جغرافیایی (جنوبی)</p> <p>۳. طول جغرافیایی (شرقی)</p> <p>۴. عرض جغرافیایی (شمالی)</p> <p>د. انقلاب زمستانی را توضیح دهید؟</p> <p>و. دلایل پیدایش فصل های مختلف را توضیح دهید؟</p>	۱
۳/۵		<p>فصل دوم</p> <p>الف. گاز های کره زمین شامل کدام از ارکان چهره زمین هست؟</p> <p>۱. بیوسفر</p> <p>۲. لیتوسفر</p> <p>۳. هیدروسفر</p> <p>۴. اتمسفر</p> <p>ب. دره های گرینلند V «شکل هست؟ صحیح. غلط.</p> <p>ج. مهم ترین مناطق صید ماهی جهان.....است.</p> <p>د. بیشتر تغییرات آب و هوا در کدام لایه از جو اتفاق می افتد؟</p> <p>و. سه منطقه مهم آب و هوای در نتیجه زوایه نامساوی خورشید را نام ببرید؟</p>	۲
۳/۵		<p>فصل سوم</p> <p>الف. عناصر.....و.....از مهمترین عناصر آب و هوا بر نوع و میزان پوشش گیاهی هست.</p> <p>ب. ساوان بین کدام زیست بوم ها قرار دارد؟</p> <p>ج. راهکارهای مهم در استفاده صحیح از جنگل های استوایی را نام ببرید؟</p> <p>د. این زیست بوم از نظر تنوع جانوری غنی هست و در طول سال هوا گرم هست؟</p>	۳




بارم	نام و نام خانوادگی: ابوالفضل کرمی زاده کلاس: ۹--۴ شماره صندلی: ۱۱۷	امتحان درس مطالعات اجتماعی پایه نهم مدرسه هیئت امنایی فرهنگیان متوسطه اول وقت ۶۰ دقیقه تاریخ امتحان ۱۴۰۱/۱۰/۲۴	ردیف
۳/۵		<p>۱. فصل اول</p> <p>الف. مریخ از سیاره های بیرونی منظومه خورشیدی هست؟ صحیح غلط</p> <p>ب. فاصله هر مکان با مدار استوا بر حسب درجه.....است</p> <p>ج. بر حسب مختصات جغرافیایی ۱۵ W گزیننه صحیح را انتخاب کنید؟</p> <p>۱. طول جغرافیایی (غربی)</p> <p>۲. عرض جغرافیایی (جنوبی)</p> <p>۳. طول جغرافیایی (شرقی)</p> <p>۴. عرض جغرافیایی (شمالی)</p> <p>د. انقلاب زمستانی را توضیح دهید؟</p> <p>و. دلایل پیدایش فصل های مختلف را توضیح دهید؟</p>	۱
۳/۵		<p>فصل دوم</p> <p>الف. گاز های کره زمین شامل کدام از ارکان چهره زمین هست؟</p> <p>۱. بیوسفر</p> <p>۲. لیتوسفر</p> <p>۳. هیدروسفر</p> <p>۴. اتمسفر</p> <p>ب. دره های گرینلند V «شکل هست؟ صحیح. غلط.</p> <p>ج. مهم ترین مناطق صید ماهی جهان.....است.</p> <p>د. بیشتر تغییرات آب و هوا در کدام لایه از جو اتفاق می افتد؟</p> <p>و. سه منطقه مهم آب و هوای در نتیجه زوایه نامساوی خورشید را نام ببرید؟</p>	۲
۳/۵		<p>فصل سوم</p> <p>الف. عناصر.....و.....از مهمترین عناصر آب و هوا بر نوع و میزان پوشش گیاهی هست.</p> <p>ب. ساوان بین کدام زیست بوم ها قرار دارد؟</p> <p>ج. راهکارهای مهم در استفاده صحیح از جنگل های استوایی را نام ببرید؟</p> <p>د. این زیست بوم از نظر تنوع جانوری غنی هست و در طول سال هوا گرم هست؟</p>	۳



بارم	نام و نام خانوادگی: مهرزاد کرمی سرتنگ کلاس: ۹--۴ شماره صندلی: ۱۱۸	امتحان درس مطالعات اجتماعی پایه نهم مدرسه هیئت امنایی فرهنگیان متوسطه اول وقت ۶۰ دقیقه تاریخ امتحان ۱۴۰۱/۱۰/۲۴	ردیف
۳/۵		<p>۱. فصل اول</p> <p>الف. مریخ از سیاره های بیرونی منظومه خورشیدی هست؟ صحیح غلط</p> <p>ب. فاصله هر مکان با مدار استوا بر حسب درجه.....است</p> <p>ج. بر حسب مختصات جغرافیایی ۱۵ W گزینه صحیح را انتخاب کنید؟</p> <p>۱. طول جغرافیایی (غربی)</p> <p>۲. عرض جغرافیایی (جنوبی)</p> <p>۳. طول جغرافیایی (شرقی)</p> <p>۴. عرض جغرافیایی (شمالی)</p> <p>د. انقلاب زمستانی را توضیح دهید؟</p> <p>و. دلایل پیدایش فصل های مختلف را توضیح دهید؟</p>	۱
۳/۵		<p>فصل دوم</p> <p>الف. گاز های کره زمین شامل کدام از ارکان چهره زمین هست؟</p> <p>۱. بیوسفر</p> <p>۲. لیتوسفر</p> <p>۳. هیدروسفر</p> <p>۴. اتمسفر</p> <p>ب. دره های گرینلند V «شکل هست؟ صحیح. غلط.</p> <p>ج. مهم ترین مناطق صید ماهی جهان.....است.</p> <p>د. بیشتر تغییرات آب و هوا در کدام لایه از جو اتفاق می افتد؟</p> <p>و. سه منطقه مهم آب و هوای در نتیجه زوایه نامساوی خورشید را نام ببرید؟</p>	۲
۳/۵		<p>فصل سوم</p> <p>الف. عناصر.....و.....از مهمترین عناصر آب و هوا بر نوع و میزان پوشش گیاهی هست.</p> <p>ب. ساوان بین کدام زیست بوم ها قرار دارد؟</p> <p>ج. راهکارهای مهم در استفاده صحیح از جنگل های استوایی را نام ببرید؟</p> <p>د. این زیست بوم از نظر تنوع جانوری غنی هست و در طول سال هوا گرم هست؟</p>	۳




بارم	نام و نام خانوادگی: ابراهیم کریم زاده کلاس: ۹--۴ شماره صندلی: ۱۱۹	امتحان درس مطالعات اجتماعی پایه نهم مدرسه هیئت امنایی فرهنگیان متوسطه اول وقت ۶۰ دقیقه تاریخ امتحان ۱۴۰۱/۱۰/۲۴	ردیف
۳/۵		<p>۱۰. فصل اول</p> <p>الف. مریخ از سیاره های بیرونی منظومه خورشیدی هست؟ صحیح غلط</p> <p>ب. فاصله هر مکان با مدار استوا بر حسب درجه.....است</p> <p>ج. بر حسب مختصات جغرافیایی ۱۵ W گزیننه صحیح را انتخاب کنید؟</p> <p>۱. طول جغرافیایی (غربی)</p> <p>۲. عرض جغرافیایی (جنوبی)</p> <p>۳. طول جغرافیایی (شرقی)</p> <p>۴. عرض جغرافیایی (شمالی)</p> <p>د. انقلاب زمستانی را توضیح دهید؟</p> <p>و. دلایل پیدایش فصل های مختلف را توضیح دهید؟</p>	۱
۳/۵		<p>فصل دوم</p> <p>الف. گاز های کره زمین شامل کدام از ارکان چهره زمین هست؟</p> <p>۱. بیوسفر</p> <p>۲. لیتوسفر</p> <p>۳. هیدروسفر</p> <p>۴. اتمسفر</p> <p>ب. دره های گرینلند V «شکل هست؟ صحیح. غلط.</p> <p>ج. مهم ترین مناطق صید ماهی جهان.....است.</p> <p>د. بیشتر تغییرات آب و هوا در کدام لایه از جو اتفاق می افتد؟</p> <p>و. سه منطقه مهم آب و هوای در نتیجه زوایه نامساوی خورشید را نام ببرید؟</p>	۲
۳/۵		<p>فصل سوم</p> <p>الف. عناصر.....و.....از مهمترین عناصر آب و هوا بر نوع و میزان پوشش گیاهی هست.</p> <p>ب. ساوان بین کدام زیست بوم ها قرار دارد؟</p> <p>ج. راهکارهای مهم در استفاده صحیح از جنگل های استوایی را نام ببرید؟</p> <p>د. این زیست بوم از نظر تنوع جانوری غنی هست و در طول سال هوا گرم هست؟</p>	۳




بارم	نام و نام خانوادگی: ابوالفضل کریمی کلاس: ۹--۴ شماره صندلی: ۱۲۰	امتحان درس مطالعات اجتماعی پایه نهم مدرسه هیئت امنایی فرهنگیان متوسطه اول وقت ۶۰ دقیقه تاریخ امتحان ۱۴۰۱/۱۰/۲۴	ردیف
۳/۵		<p>۱. فصل اول</p> <p>الف. مریخ از سیاره های بیرونی منظومه خورشیدی هست؟ صحیح غلط</p> <p>ب. فاصله هر مکان با مدار استوا بر حسب درجه.....است</p> <p>ج. بر حسب مختصات جغرافیایی ۱۵ W گزیننه صحیح را انتخاب کنید؟</p> <p>۱. طول جغرافیایی (غربی)</p> <p>۲. عرض جغرافیایی (جنوبی)</p> <p>۳. طول جغرافیایی (شرقی)</p> <p>۴. عرض جغرافیایی (شمالی)</p> <p>د. انقلاب زمستانی را توضیح دهید؟</p> <p>و. دلایل پیدایش فصل های مختلف را توضیح دهید؟</p>	۱
۳/۵		<p>فصل دوم</p> <p>الف. گاز های کره زمین شامل کدام از ارکان چهره زمین هست؟</p> <p>۱. بیوسفر</p> <p>۲. لیتوسفر</p> <p>۳. هیدروسفر</p> <p>۴. اتمسفر</p> <p>ب. دره های گرینلند V «شکل هست؟ صحیح. غلط.</p> <p>ج. مهم ترین مناطق صید ماهی جهان.....است.</p> <p>د. بیشتر تغییرات آب و هوا در کدام لایه از جو اتفاق می افتد؟</p> <p>و. سه منطقه مهم آب و هوای در نتیجه زوایه نامساوی خورشید را نام ببرید؟</p>	۲
۳/۵		<p>فصل سوم</p> <p>الف. عناصر.....و.....از مهمترین عناصر آب و هوا بر نوع و میزان پوشش گیاهی هست.</p> <p>ب. ساوان بین کدام زیست بوم ها قرار دارد؟</p> <p>ج. راهکارهای مهم در استفاده صحیح از جنگل های استوایی را نام ببرید؟</p> <p>د. این زیست بوم از نظر تنوع جانوری غنی هست و در طول سال هوا گرم هست؟</p>	۳




بارم	نام و نام خانوادگی: محمدحسین لایق زاده کلاس: ۹--۴ شماره صندلی: ۱۲۱	امتحان درس مطالعات اجتماعی پایه نهم مدرسه هیئت امنایی فرهنگیان متوسطه اول وقت ۶۰ دقیقه تاریخ امتحان ۱۴۰۱/۱۰/۲۴	ردیف
۳/۵		<p>۱. فصل اول</p> <p>الف. مریخ از سیاره های بیرونی منظومه خورشیدی هست؟ صحیح غلط</p> <p>ب. فاصله هر مکان با مدار استوا بر حسب درجه.....است</p> <p>ج. بر حسب مختصات جغرافیایی ۱۵ W گزینه صحیح را انتخاب کنید؟</p> <p>۱. طول جغرافیایی (غربی)</p> <p>۲. عرض جغرافیایی (جنوبی)</p> <p>۳. طول جغرافیایی (شرقی)</p> <p>۴. عرض جغرافیایی (شمالی)</p> <p>د. انقلاب زمستانی را توضیح دهید؟</p> <p>و. دلایل پیدایش فصل های مختلف را توضیح دهید؟</p>	۱
۳/۵		<p>فصل دوم</p> <p>الف. گاز های کره زمین شامل کدام از ارکان چهره زمین هست؟</p> <p>۱. بیوسفر</p> <p>۲. لیتوسفر</p> <p>۳. هیدروسفر</p> <p>۴. اتمسفر</p> <p>ب. دره های گرینلند V «شکل هست؟ صحیح. غلط.</p> <p>ج. مهم ترین مناطق صید ماهی جهان.....است.</p> <p>د. بیشتر تغییرات آب و هوا در کدام لایه از جو اتفاق می افتد؟</p> <p>و. سه منطقه مهم آب و هوای در نتیجه زوایه نامساوی خورشید را نام ببرید؟</p>	۲
۳/۵		<p>فصل سوم</p> <p>الف. عناصر.....و.....از مهمترین عناصر آب و هوا بر نوع و میزان پوشش گیاهی هست.</p> <p>ب. ساوان بین کدام زیست بوم ها قرار دارد؟</p> <p>ج. راهکارهای مهم در استفاده صحیح از جنگل های استوایی را نام ببرید؟</p> <p>د. این زیست بوم از نظر تنوع جانوری غنی هست و در طول سال هوا گرم هست؟</p>	۳




بارم	نام و نام خانوادگی: پوریا لشکرمنش کلاس: ۹--۴ شماره صندلی: ۱۲۲	امتحان درس مطالعات اجتماعی پایه نهم مدرسه هیئت امنایی فرهنگیان متوسطه اول وقت ۶۰ دقیقه تاریخ امتحان ۱۴۰۱/۱۰/۲۴	ردیف
۳/۵		<p>۱. فصل اول</p> <p>الف. مریخ از سیاره های بیرونی منظومه خورشیدی هست؟ صحیح غلط</p> <p>ب. فاصله هر مکان با مدار استوا بر حسب درجه.....است</p> <p>ج. بر حسب مختصات جغرافیایی ۱۵ W گزیننه صحیح را انتخاب کنید؟</p> <p>۱. طول جغرافیایی (غربی)</p> <p>۲. عرض جغرافیایی (جنوبی)</p> <p>۳. طول جغرافیایی (شرقی)</p> <p>۴. عرض جغرافیایی (شمالی)</p> <p>د. انقلاب زمستانی را توضیح دهید؟</p> <p>و. دلایل پیدایش فصل های مختلف را توضیح دهید؟</p>	۱
۳/۵		<p>فصل دوم</p> <p>الف. گاز های کره زمین شامل کدام از ارکان چهره زمین هست؟</p> <p>۱. بیوسفر</p> <p>۲. لیتوسفر</p> <p>۳. هیدروسفر</p> <p>۴. اتمسفر</p> <p>ب. دره های گرینلند V «شکل هست؟ صحیح. غلط.</p> <p>ج. مهم ترین مناطق صید ماهی جهان.....است.</p> <p>د. بیشتر تغییرات آب و هوا در کدام لایه از جو اتفاق می افتد؟</p> <p>و. سه منطقه مهم آب و هوای در نتیجه زوایه نامساوی خورشید را نام ببرید؟</p>	۲
۳/۵		<p>فصل سوم</p> <p>الف. عناصر.....و.....از مهمترین عناصر آب و هوا بر نوع و میزان پوشش گیاهی هست.</p> <p>ب. ساوان بین کدام زیست بوم ها قرار دارد؟</p> <p>ج. راهکارهای مهم در استفاده صحیح از جنگل های استوایی را نام ببرید؟</p> <p>د. این زیست بوم از نظر تنوع جانوری غنی هست و در طول سال هوا گرم هست؟</p>	۳




بارم	نام و نام خانوادگی: مهدی مجاهدفرد کلاس: ۹--۴ شماره صندلی: ۱۲۳	امتحان درس مطالعات اجتماعی پایه نهم مدرسه هیئت امنایی فرهنگیان متوسطه اول وقت ۶۰ دقیقه تاریخ امتحان ۱۴۰۱/۱۰/۲۴	ردیف
۳/۵		<p>۱. فصل اول</p> <p>الف. مریخ از سیاره های بیرونی منظومه خورشیدی هست؟ صحیح غلط</p> <p>ب. فاصله هر مکان با مدار استوا بر حسب درجه.....است</p> <p>ج. بر حسب مختصات جغرافیایی ۱۵ W گزیننه صحیح را انتخاب کنید؟</p> <p>۱. طول جغرافیایی (غربی)</p> <p>۲. عرض جغرافیایی (جنوبی)</p> <p>۳. طول جغرافیایی (شرقی)</p> <p>۴. عرض جغرافیایی (شمالی)</p> <p>د. انقلاب زمستانی را توضیح دهید؟</p> <p>و. دلایل پیدایش فصل های مختلف را توضیح دهید؟</p>	۱
۳/۵		<p>فصل دوم</p> <p>الف. گاز های کره زمین شامل کدام از ارکان چهره زمین هست؟</p> <p>۱. بیوسفر</p> <p>۲. لیتوسفر</p> <p>۳. هیدروسفر</p> <p>۴. اتمسفر</p> <p>ب. دره های گرینلند V «شکل هست؟ صحیح. غلط.</p> <p>ج. مهم ترین مناطق صید ماهی جهان.....است.</p> <p>د. بیشتر تغییرات آب و هوا در کدام لایه از جو اتفاق می افتد؟</p> <p>و. سه منطقه مهم آب و هوای در نتیجه زوایه نامساوی خورشید را نام ببرید؟</p>	۲
۳/۵		<p>فصل سوم</p> <p>الف. عناصر.....و.....از مهمترین عناصر آب و هوا بر نوع و میزان پوشش گیاهی هست.</p> <p>ب. ساوان بین کدام زیست بوم ها قرار دارد؟</p> <p>ج. راهکارهای مهم در استفاده صحیح از جنگل های استوایی را نام ببرید؟</p> <p>د. این زیست بوم از نظر تنوع جانوری غنی هست و در طول سال هوا گرم هست؟</p>	۳




بارم	نام و نام خانوادگی: ابوالفضل محرابی دولت آباد کلاس: ۹--۴ شماره صندلی: ۱۲۴	امتحان درس مطالعات اجتماعی پایه نهم مدرسه هیئت امنایی فرهنگیان متوسطه اول وقت ۶۰ دقیقه تاریخ امتحان ۱۴۰۱/۱۰/۲۴	ردیف
۳/۵		<p>۱. فصل اول</p> <p>الف. مریخ از سیاره های بیرونی منظومه خورشیدی هست؟ صحیح غلط</p> <p>ب. فاصله هر مکان با مدار استوا بر حسب درجه.....است</p> <p>ج. بر حسب مختصات جغرافیایی ۱۵ W گزیننه صحیح را انتخاب کنید؟</p> <p>۱. طول جغرافیایی (غربی)</p> <p>۲. عرض جغرافیایی (جنوبی)</p> <p>۳. طول جغرافیایی (شرقی)</p> <p>۴. عرض جغرافیایی (شمالی)</p> <p>د. انقلاب زمستانی را توضیح دهید؟</p> <p>و. دلایل پیدایش فصل های مختلف را توضیح دهید؟</p>	۱
۳/۵		<p>فصل دوم</p> <p>الف. گاز های کره زمین شامل کدام از ارکان چهره زمین هست؟</p> <p>۱. بیوسفر</p> <p>۲. لیتوسفر</p> <p>۳. هیدروسفر</p> <p>۴. اتمسفر</p> <p>ب. دره های گرینلند V «شکل هست؟ صحیح. غلط.</p> <p>ج. مهم ترین مناطق صید ماهی جهان.....است.</p> <p>د. بیشتر تغییرات آب و هوا در کدام لایه از جو اتفاق می افتد؟</p> <p>و. سه منطقه مهم آب و هوای در نتیجه زوایه نامساوی خورشید را نام ببرید؟</p>	۲
۳/۵		<p>فصل سوم</p> <p>الف. عناصر.....و.....از مهمترین عناصر آب و هوا بر نوع و میزان پوشش گیاهی هست.</p> <p>ب. ساوان بین کدام زیست بوم ها قرار دارد؟</p> <p>ج. راهکارهای مهم در استفاده صحیح از جنگل های استوایی را نام ببرید؟</p> <p>د. این زیست بوم از نظر تنوع جانوری غنی هست و در طول سال هوا گرم هست؟</p>	۳




بارم	نام و نام خانوادگی: امجد محرمی نیا کلاس: ۹--۴ شماره صندلی: ۱۲۵	امتحان درس مطالعات اجتماعی پایه نهم مدرسه هیئت امنایی فرهنگیان متوسطه اول وقت ۶۰ دقیقه تاریخ امتحان ۱۴۰۱/۱۰/۲۴	ردیف
۳/۵		<p>۱. فصل اول</p> <p>الف. مریخ از سیاره های بیرونی منظومه خورشیدی هست؟ صحیح غلط</p> <p>ب. فاصله هر مکان با مدار استوا بر حسب درجه.....است</p> <p>ج. بر حسب مختصات جغرافیایی ۱۵ W گزیننه صحیح را انتخاب کنید؟</p> <p>۱. طول جغرافیایی (غربی)</p> <p>۲. عرض جغرافیایی (جنوبی)</p> <p>۳. طول جغرافیایی (شرقی)</p> <p>۴. عرض جغرافیایی (شمالی)</p> <p>د. انقلاب زمستانی را توضیح دهید؟</p> <p>و. دلایل پیدایش فصل های مختلف را توضیح دهید؟</p>	۱
۳/۵		<p>فصل دوم</p> <p>الف. گاز های کره زمین شامل کدام از ارکان چهره زمین هست؟</p> <p>۱. بیوسفر</p> <p>۲. لیتوسفر</p> <p>۳. هیدروسفر</p> <p>۴. اتمسفر</p> <p>ب. دره های گرینلند V «شکل هست؟ صحیح. غلط.</p> <p>ج. مهم ترین مناطق صید ماهی جهان.....است.</p> <p>د. بیشتر تغییرات آب و هوا در کدام لایه از جو اتفاق می افتد؟</p> <p>و. سه منطقه مهم آب و هوای در نتیجه زوایه نامساوی خورشید را نام ببرید؟</p>	۲
۳/۵		<p>فصل سوم</p> <p>الف. عناصر.....و.....از مهمترین عناصر آب و هوا بر نوع و میزان پوشش گیاهی هست.</p> <p>ب. ساوان بین کدام زیست بوم ها قرار دارد؟</p> <p>ج. راهکارهای مهم در استفاده صحیح از جنگل های استوایی را نام ببرید؟</p> <p>د. این زیست بوم از نظر تنوع جانوری غنی هست و در طول سال هوا گرم هست؟</p>	۳



بارم	نام و نام خانوادگی: محمدرضا محمدپورحمیدآباد کلاس: ۹--۴ شماره صندلی: ۱۲۶	امتحان درس مطالعات اجتماعی پایه نهم مدرسه هیئت امنایی فرهنگیان متوسطه اول وقت ۶۰ دقیقه تاریخ امتحان ۱۴۰۱/۱۰/۲۴	ردیف
۳/۵		<p>۱. فصل اول</p> <p>الف. مریخ از سیاره های بیرونی منظومه خورشیدی هست؟ صحیح غلط</p> <p>ب. فاصله هر مکان با مدار استوا بر حسب درجه.....است</p> <p>ج. بر حسب مختصات جغرافیایی ۱۵ W گزیننه صحیح را انتخاب کنید؟</p> <p>۱. طول جغرافیایی (غربی)</p> <p>۲. عرض جغرافیایی (جنوبی)</p> <p>۳. طول جغرافیایی (شرقی)</p> <p>۴. عرض جغرافیایی (شمالی)</p> <p>د. انقلاب زمستانی را توضیح دهید؟</p> <p>و. دلایل پیدایش فصل های مختلف را توضیح دهید؟</p>	۱
۳/۵		<p>فصل دوم</p> <p>الف. گاز های کره زمین شامل کدام از ارکان چهره زمین هست؟</p> <p>۱. بیوسفر</p> <p>۲. لیتوسفر</p> <p>۳. هیدروسفر</p> <p>۴. اتمسفر</p> <p>ب. دره های گرینلند V «شکل هست؟ صحیح. غلط.</p> <p>ج. مهم ترین مناطق صید ماهی جهان.....است.</p> <p>د. بیشتر تغییرات آب و هوا در کدام لایه از جو اتفاق می افتد؟</p> <p>و. سه منطقه مهم آب و هوای در نتیجه زوایه نامساوی خورشید را نام ببرید؟</p>	۲
۳/۵		<p>فصل سوم</p> <p>الف. عناصر.....و.....از مهمترین عناصر آب و هوا بر نوع و میزان پوشش گیاهی هست.</p> <p>ب. ساوان بین کدام زیست بوم ها قرار دارد؟</p> <p>ج. راهکارهای مهم در استفاده صحیح از جنگل های استوایی را نام ببرید؟</p> <p>د. این زیست بوم از نظر تنوع جانوری غنی هست و در طول سال هوا گرم هست؟</p>	۳




بارم	نام و نام خانوادگی: محمد محمدحسینیان کلاس: ۹--۴ شماره صندلی: ۱۲۷	امتحان درس مطالعات اجتماعی پایه نهم مدرسه هیئت امنایی فرهنگیان متوسطه اول وقت ۶۰ دقیقه تاریخ امتحان ۱۴۰۱/۱۰/۲۴	ردیف
۳/۵		<p>۱. فصل اول</p> <p>الف. مریخ از سیاره های بیرونی منظومه خورشیدی هست؟ صحیح غلط</p> <p>ب. فاصله هر مکان با مدار استوا بر حسب درجه.....است</p> <p>ج. بر حسب مختصات جغرافیایی ۱۵ W گزیننه صحیح را انتخاب کنید؟</p> <p>۱. طول جغرافیایی (غربی)</p> <p>۲. عرض جغرافیایی (جنوبی)</p> <p>۳. طول جغرافیایی (شرقی)</p> <p>۴. عرض جغرافیایی (شمالی)</p> <p>د. انقلاب زمستانی را توضیح دهید؟</p> <p>و. دلایل پیدایش فصل های مختلف را توضیح دهید؟</p>	۱
۳/۵		<p>فصل دوم</p> <p>الف. گاز های کره زمین شامل کدام از ارکان چهره زمین هست؟</p> <p>۱. بیوسفر</p> <p>۲. لیتوسفر</p> <p>۳. هیدروسفر</p> <p>۴. اتمسفر</p> <p>ب. دره های گرینلند V «شکل هست؟ صحیح. غلط.</p> <p>ج. مهم ترین مناطق صید ماهی جهان.....است.</p> <p>د. بیشتر تغییرات آب و هوا در کدام لایه از جو اتفاق می افتد؟</p> <p>و. سه منطقه مهم آب و هوای در نتیجه زوایه نامساوی خورشید را نام ببرید؟</p>	۲
۳/۵		<p>فصل سوم</p> <p>الف. عناصر.....و.....از مهمترین عناصر آب و هوا بر نوع و میزان پوشش گیاهی هست.</p> <p>ب. ساوان بین کدام زیست بوم ها قرار دارد؟</p> <p>ج. راهکارهای مهم در استفاده صحیح از جنگل های استوایی را نام ببرید؟</p> <p>د. این زیست بوم از نظر تنوع جانوری غنی هست و در طول سال هوا گرم هست؟</p>	۳




بارم	نام و نام خانوادگی: حسین محمدی کلاس: ۹--۵ شماره صندلی: ۱۲۸	امتحان درس مطالعات اجتماعی پایه نهم مدرسه هیئت امنایی فرهنگیان متوسطه اول وقت ۶۰ دقیقه تاریخ امتحان ۱۴۰۱/۱۰/۲۴	ردیف
۳/۵		<p>۱. فصل اول</p> <p>الف. مریخ از سیاره های بیرونی منظومه خورشیدی هست؟ صحیح غلط</p> <p>ب. فاصله هر مکان با مدار استوا بر حسب درجه.....است</p> <p>ج. بر حسب مختصات جغرافیایی ۱۵ W گزیننه صحیح را انتخاب کنید؟</p> <p>۱. طول جغرافیایی (غربی)</p> <p>۲. عرض جغرافیایی (جنوبی)</p> <p>۳. طول جغرافیایی (شرقی)</p> <p>۴. عرض جغرافیایی (شمالی)</p> <p>د. انقلاب زمستانی را توضیح دهید؟</p> <p>و. دلایل پیدایش فصل های مختلف را توضیح دهید؟</p>	۱
۳/۵		<p>فصل دوم</p> <p>الف. گاز های کره زمین شامل کدام از ارکان چهره زمین هست؟</p> <p>۱. بیوسفر</p> <p>۲. لیتوسفر</p> <p>۳. هیدروسفر</p> <p>۴. اتمسفر</p> <p>ب. دره های گرینلند V «شکل هست؟ صحیح. غلط.</p> <p>ج. مهم ترین مناطق صید ماهی جهان.....است.</p> <p>د. بیشتر تغییرات آب و هوا در کدام لایه از جو اتفاق می افتد؟</p> <p>و. سه منطقه مهم آب و هوای در نتیجه زوایه نامساوی خورشید را نام ببرید؟</p>	۲
۳/۵		<p>فصل سوم</p> <p>الف. عناصر.....و.....از مهمترین عناصر آب و هوا بر نوع و میزان پوشش گیاهی هست.</p> <p>ب. ساوان بین کدام زیست بوم ها قرار دارد؟</p> <p>ج. راهکارهای مهم در استفاده صحیح از جنگل های استوایی را نام ببرید؟</p> <p>د. این زیست بوم از نظر تنوع جانوری غنی هست و در طول سال هوا گرم هست؟</p>	۳




بارم	نام و نام خانوادگی: امیرحسین محمدی حسین آباد کلاس: ۹-۵ شماره صندلی: ۱۲۹	امتحان درس مطالعات اجتماعی پایه نهم مدرسه هیئت امنایی فرهنگیان متوسطه اول وقت ۶۰ دقیقه تاریخ امتحان ۱۴۰۱/۱۰/۲۴	ردیف
۳/۵		<p>۱. فصل اول</p> <p>الف. مریخ از سیاره های بیرونی منظومه خورشیدی هست؟ صحیح غلط</p> <p>ب. فاصله هر مکان با مدار استوا بر حسب درجه.....است</p> <p>ج. بر حسب مختصات جغرافیایی ۱۵ W گزیننه صحیح را انتخاب کنید؟</p> <p>۱. طول جغرافیایی (غربی)</p> <p>۲. عرض جغرافیایی (جنوبی)</p> <p>۳. طول جغرافیایی (شرقی)</p> <p>۴. عرض جغرافیایی (شمالی)</p> <p>د. انقلاب زمستانی را توضیح دهید؟</p> <p>و. دلایل پیدایش فصل های مختلف را توضیح دهید؟</p>	۱
۳/۵		<p>فصل دوم</p> <p>الف. گاز های کره زمین شامل کدام از ارکان چهره زمین هست؟</p> <p>۱. بیوسفر</p> <p>۲. لیتوسفر</p> <p>۳. هیدروسفر</p> <p>۴. اتمسفر</p> <p>ب. دره های گرینلند V «شکل هست؟ صحیح. غلط.</p> <p>ج. مهم ترین مناطق صید ماهی جهان.....است.</p> <p>د. بیشتر تغییرات آب و هوا در کدام لایه از جو اتفاق می افتد؟</p> <p>و. سه منطقه مهم آب و هوای در نتیجه زوایه نامساوی خورشید را نام ببرید؟</p>	۲
۳/۵		<p>فصل سوم</p> <p>الف. عناصر.....و.....از مهمترین عناصر آب و هوا بر نوع و میزان پوشش گیاهی هست.</p> <p>ب. ساوان بین کدام زیست بوم ها قرار دارد؟</p> <p>ج. راهکارهای مهم در استفاده صحیح از جنگل های استوایی را نام ببرید؟</p> <p>د. این زیست بوم از نظر تنوع جانوری غنی هست و در طول سال هوا گرم هست؟</p>	۳




بارم	نام و نام خانوادگی: سینا محمودیان کلاس: ۹--۵ شماره صندلی: ۱۳۰	امتحان درس مطالعات اجتماعی پایه نهم مدرسه هیئت امنایی فرهنگیان متوسطه اول وقت ۶۰ دقیقه تاریخ امتحان ۱۴۰۱/۱۰/۲۴	ردیف
۳/۵		<p>۱. فصل اول</p> <p>الف. مریخ از سیاره های بیرونی منظومه خورشیدی هست؟ صحیح غلط</p> <p>ب. فاصله هر مکان با مدار استوا بر حسب درجه.....است</p> <p>ج. بر حسب مختصات جغرافیایی ۱۵ W گزیننه صحیح را انتخاب کنید؟</p> <p>۱. طول جغرافیایی (غربی)</p> <p>۲. عرض جغرافیایی (جنوبی)</p> <p>۳. طول جغرافیایی (شرقی)</p> <p>۴. عرض جغرافیایی (شمالی)</p> <p>د. انقلاب زمستانی را توضیح دهید؟</p> <p>و. دلایل پیدایش فصل های مختلف را توضیح دهید؟</p>	۱
۳/۵		<p>فصل دوم</p> <p>الف. گاز های کره زمین شامل کدام از ارکان چهره زمین هست؟</p> <p>۱. بیوسفر</p> <p>۲. لیتوسفر</p> <p>۳. هیدروسفر</p> <p>۴. اتمسفر</p> <p>ب. دره های گرینلند V «شکل هست؟ صحیح. غلط.</p> <p>ج. مهم ترین مناطق صید ماهی جهان.....است.</p> <p>د. بیشتر تغییرات آب و هوا در کدام لایه از جو اتفاق می افتد؟</p> <p>و. سه منطقه مهم آب و هوای در نتیجه زوایه نامساوی خورشید را نام ببرید؟</p>	۲
۳/۵		<p>فصل سوم</p> <p>الف. عناصر.....و.....از مهمترین عناصر آب و هوا بر نوع و میزان پوشش گیاهی هست.</p> <p>ب. ساوان بین کدام زیست بوم ها قرار دارد؟</p> <p>ج. راهکارهای مهم در استفاده صحیح از جنگل های استوایی را نام ببرید؟</p> <p>د. این زیست بوم از نظر تنوع جانوری غنی هست و در طول سال هوا گرم هست؟</p>	۳




بارم	نام و نام خانوادگی: علی مختار دوست کلاس: ۹--۵ شماره صندلی: ۱۳۱	امتحان درس مطالعات اجتماعی پایه نهم مدرسه هیئت امنایی فرهنگیان متوسطه اول وقت ۶۰ دقیقه تاریخ امتحان ۱۴۰۱/۱۰/۲۴	ردیف
۳/۵		<p>۱. فصل اول</p> <p>الف. مریخ از سیاره های بیرونی منظومه خورشیدی هست؟ صحیح غلط</p> <p>ب. فاصله هر مکان با مدار استوا بر حسب درجه.....است</p> <p>ج. بر حسب مختصات جغرافیایی ۱۵ W گزیننه صحیح را انتخاب کنید؟</p> <p>۱. طول جغرافیایی (غربی)</p> <p>۲. عرض جغرافیایی (جنوبی)</p> <p>۳. طول جغرافیایی (شرقی)</p> <p>۴. عرض جغرافیایی (شمالی)</p> <p>د. انقلاب زمستانی را توضیح دهید؟</p> <p>و. دلایل پیدایش فصل های مختلف را توضیح دهید؟</p>	۱
۳/۵		<p>فصل دوم</p> <p>الف. گاز های کره زمین شامل کدام از ارکان چهره زمین هست؟</p> <p>۱. بیوسفر</p> <p>۲. لیتوسفر</p> <p>۳. هیدروسفر</p> <p>۴. اتمسفر</p> <p>ب. دره های گرینلند V «شکل هست؟ صحیح. غلط.</p> <p>ج. مهم ترین مناطق صید ماهی جهان.....است.</p> <p>د. بیشتر تغییرات آب و هوا در کدام لایه از جو اتفاق می افتد؟</p> <p>و. سه منطقه مهم آب و هوای در نتیجه زوایه نامساوی خورشید را نام ببرید؟</p>	۲
۳/۵		<p>فصل سوم</p> <p>الف. عناصر.....و.....از مهمترین عناصر آب و هوا بر نوع و میزان پوشش گیاهی هست.</p> <p>ب. ساوان بین کدام زیست بوم ها قرار دارد؟</p> <p>ج. راهکارهای مهم در استفاده صحیح از جنگل های استوایی را نام ببرید؟</p> <p>د. این زیست بوم از نظر تنوع جانوری غنی هست و در طول سال هوا گرم هست؟</p>	۳




بارم	نام و نام خانوادگی: رضا مرادی کلاس: ۹--۵ شماره صندلی: ۱۳۲	امتحان درس مطالعات اجتماعی پایه نهم مدرسه هیئت امنایی فرهنگیان متوسطه اول وقت ۶۰ دقیقه تاریخ امتحان ۱۴۰۱/۱۰/۲۴	ردیف
۳/۵		<p>۱. فصل اول</p> <p>الف. مریخ از سیاره های بیرونی منظومه خورشیدی هست؟ صحیح غلط</p> <p>ب. فاصله هر مکان با مدار استوا بر حسب درجه.....است</p> <p>ج. بر حسب مختصات جغرافیایی ۱۵ W گزیننه صحیح را انتخاب کنید؟</p> <p>۱. طول جغرافیایی (غربی)</p> <p>۲. عرض جغرافیایی (جنوبی)</p> <p>۳. طول جغرافیایی (شرقی)</p> <p>۴. عرض جغرافیایی (شمالی)</p> <p>د. انقلاب زمستانی را توضیح دهید؟</p> <p>و. دلایل پیدایش فصل های مختلف را توضیح دهید؟</p>	۱
۳/۵		<p>فصل دوم</p> <p>الف. گاز های کره زمین شامل کدام از ارکان چهره زمین هست؟</p> <p>۱. بیوسفر</p> <p>۲. لیتوسفر</p> <p>۳. هیدروسفر</p> <p>۴. اتمسفر</p> <p>ب. دره های گرینلند V «شکل هست؟ صحیح. غلط.</p> <p>ج. مهم ترین مناطق صید ماهی جهان.....است.</p> <p>د. بیشتر تغییرات آب و هوا در کدام لایه از جو اتفاق می افتد؟</p> <p>و. سه منطقه مهم آب و هوای در نتیجه زوایه نامساوی خورشید را نام ببرید؟</p>	۲
۳/۵		<p>فصل سوم</p> <p>الف. عناصر.....و.....از مهمترین عناصر آب و هوا بر نوع و میزان پوشش گیاهی هست.</p> <p>ب. ساوان بین کدام زیست بوم ها قرار دارد؟</p> <p>ج. راهکارهای مهم در استفاده صحیح از جنگل های استوایی را نام ببرید؟</p> <p>د. این زیست بوم از نظر تنوع جانوری غنی هست و در طول سال هوا گرم هست؟</p>	۳




بارم	نام و نام خانوادگی: امیررضا مرعشی پور کلاس: ۹-۵ شماره صندلی: ۱۳۳	امتحان درس مطالعات اجتماعی پایه نهم مدرسه هیئت امنایی فرهنگیان متوسطه اول وقت ۶۰ دقیقه تاریخ امتحان ۱۴۰۱/۱۰/۲۴	ردیف
۳/۵		<p>۱. فصل اول</p> <p>الف. مریخ از سیاره های بیرونی منظومه خورشیدی هست؟ صحیح غلط</p> <p>ب. فاصله هر مکان با مدار استوا بر حسب درجه.....است</p> <p>ج. بر حسب مختصات جغرافیایی ۱۵ W گزیننه صحیح را انتخاب کنید؟</p> <p>۱. طول جغرافیایی (غربی)</p> <p>۲. عرض جغرافیایی (جنوبی)</p> <p>۳. طول جغرافیایی (شرقی)</p> <p>۴. عرض جغرافیایی (شمالی)</p> <p>د. انقلاب زمستانی را توضیح دهید؟</p> <p>و. دلایل پیدایش فصل های مختلف را توضیح دهید؟</p>	۱
۳/۵		<p>فصل دوم</p> <p>الف. گاز های کره زمین شامل کدام از ارکان چهره زمین هست؟</p> <p>۱. بیوسفر</p> <p>۲. لیتوسفر</p> <p>۳. هیدروسفر</p> <p>۴. اتمسفر</p> <p>ب. دره های گرینلند V «شکل هست؟ صحیح. غلط.</p> <p>ج. مهم ترین مناطق صید ماهی جهان.....است.</p> <p>د. بیشتر تغییرات آب و هوا در کدام لایه از جو اتفاق می افتد؟</p> <p>و. سه منطقه مهم آب و هوای در نتیجه زوایه نامساوی خورشید را نام ببرید؟</p>	۲
۳/۵		<p>فصل سوم</p> <p>الف. عناصر.....و.....از مهمترین عناصر آب و هوا بر نوع و میزان پوشش گیاهی هست.</p> <p>ب. ساوان بین کدام زیست بوم ها قرار دارد؟</p> <p>ج. راهکارهای مهم در استفاده صحیح از جنگل های استوایی را نام ببرید؟</p> <p>د. این زیست بوم از نظر تنوع جانوری غنی هست و در طول سال هوا گرم هست؟</p>	۳



بارم	نام و نام خانوادگی: محمدمبین مشیری مهر کلاس: ۹--۵ شماره صندلی: ۱۳۴	امتحان درس مطالعات اجتماعی پایه نهم مدرسه هیئت امنایی فرهنگیان متوسطه اول وقت ۶۰ دقیقه تاریخ امتحان ۱۴۰۱/۱۰/۲۴	ردیف
۳/۵		<p>۱. فصل اول</p> <p>الف. مریخ از سیاره های بیرونی منظومه خورشیدی هست؟ صحیح غلط</p> <p>ب. فاصله هر مکان با مدار استوا بر حسب درجه.....است</p> <p>ج. بر حسب مختصات جغرافیایی ۱۵ W گزیننه صحیح را انتخاب کنید؟</p> <p>۱. طول جغرافیایی (غربی)</p> <p>۲. عرض جغرافیایی (جنوبی)</p> <p>۳. طول جغرافیایی (شرقی)</p> <p>۴. عرض جغرافیایی (شمالی)</p> <p>د. انقلاب زمستانی را توضیح دهید؟</p> <p>و. دلایل پیدایش فصل های مختلف را توضیح دهید؟</p>	۱
۳/۵		<p>فصل دوم</p> <p>الف. گاز های کره زمین شامل کدام از ارکان چهره زمین هست؟</p> <p>۱. بیوسفر</p> <p>۲. لیتوسفر</p> <p>۳. هیدروسفر</p> <p>۴. اتمسفر</p> <p>ب. دره های گرینلند V «شکل هست؟ صحیح. غلط.</p> <p>ج. مهم ترین مناطق صید ماهی جهان.....است.</p> <p>د. بیشتر تغییرات آب و هوا در کدام لایه از جو اتفاق می افتد؟</p> <p>و. سه منطقه مهم آب و هوای در نتیجه زوایه نامساوی خورشید را نام ببرید؟</p>	۲
۳/۵		<p>فصل سوم</p> <p>الف. عناصر.....و.....از مهمترین عناصر آب و هوا بر نوع و میزان پوشش گیاهی هست.</p> <p>ب. ساوان بین کدام زیست بوم ها قرار دارد؟</p> <p>ج. راهکارهای مهم در استفاده صحیح از جنگل های استوایی را نام ببرید؟</p> <p>د. این زیست بوم از نظر تنوع جانوری غنی هست و در طول سال هوا گرم هست؟</p>	۳




بارم	نام و نام خانوادگی: ایلیا مظلومی پور کلاس: ۹--۵ شماره صندلی: ۱۳۵	امتحان درس مطالعات اجتماعی پایه نهم مدرسه هیئت امنایی فرهنگیان متوسطه اول وقت ۶۰ دقیقه تاریخ امتحان ۱۴۰۱/۱۰/۲۴	ردیف
۳/۵		<p>۱. فصل اول</p> <p>الف. مریخ از سیاره های بیرونی منظومه خورشیدی هست؟ صحیح غلط</p> <p>ب. فاصله هر مکان با مدار استوا بر حسب درجه.....است</p> <p>ج. بر حسب مختصات جغرافیایی ۱۵ W گزیننه صحیح را انتخاب کنید؟</p> <p>۱. طول جغرافیایی (غربی)</p> <p>۲. عرض جغرافیایی (جنوبی)</p> <p>۳. طول جغرافیایی (شرقی)</p> <p>۴. عرض جغرافیایی (شمالی)</p> <p>د. انقلاب زمستانی را توضیح دهید؟</p> <p>و. دلایل پیدایش فصل های مختلف را توضیح دهید؟</p>	۱
۳/۵		<p>فصل دوم</p> <p>الف. گاز های کره زمین شامل کدام از ارکان چهره زمین هست؟</p> <p>۱. بیوسفر</p> <p>۲. لیتوسفر</p> <p>۳. هیدروسفر</p> <p>۴. اتمسفر</p> <p>ب. دره های گرینلند V «شکل هست؟ صحیح. غلط.</p> <p>ج. مهم ترین مناطق صید ماهی جهان.....است.</p> <p>د. بیشتر تغییرات آب و هوا در کدام لایه از جو اتفاق می افتد؟</p> <p>و. سه منطقه مهم آب و هوای در نتیجه زوایه نامساوی خورشید را نام ببرید؟</p>	۲
۳/۵		<p>فصل سوم</p> <p>الف. عناصر.....و.....از مهمترین عناصر آب و هوا بر نوع و میزان پوشش گیاهی هست.</p> <p>ب. ساوان بین کدام زیست بوم ها قرار دارد؟</p> <p>ج. راهکارهای مهم در استفاده صحیح از جنگل های استوایی را نام ببرید؟</p> <p>د. این زیست بوم از نظر تنوع جانوری غنی هست و در طول سال هوا گرم هست؟</p>	۳




بارم	نام و نام خانوادگی: قدم فردین معصومی زاده جدول کلاس: ۹--۵ شماره صندلی: ۱۳۶	امتحان درس مطالعات اجتماعی پایه نهم مدرسه هیئت امنایی فرهنگیان متوسطه اول وقت ۶۰ دقیقه تاریخ امتحان ۱۴۰۱/۱۰/۲۴	ردیف
۳/۵		<p>۱. فصل اول</p> <p>الف. مریخ از سیاره های بیرونی منظومه خورشیدی هست؟ صحیح غلط</p> <p>ب. فاصله هر مکان با مدار استوا بر حسب درجه.....است</p> <p>ج. بر حسب مختصات جغرافیایی ۱۵ W گزیننه صحیح را انتخاب کنید؟</p> <p>۱. طول جغرافیایی (غربی)</p> <p>۲. عرض جغرافیایی (جنوبی)</p> <p>۳. طول جغرافیایی (شرقی)</p> <p>۴. عرض جغرافیایی (شمالی)</p> <p>د. انقلاب زمستانی را توضیح دهید؟</p> <p>و. دلایل پیدایش فصل های مختلف را توضیح دهید؟</p>	۱
۳/۵		<p>فصل دوم</p> <p>الف. گاز های کره زمین شامل کدام از ارکان چهره زمین هست؟</p> <p>۱. بیوسفر</p> <p>۲. لیتوسفر</p> <p>۳. هیدروسفر</p> <p>۴. اتمسفر</p> <p>ب. دره های گرینلند V «شکل هست؟ صحیح. غلط.</p> <p>ج. مهم ترین مناطق صید ماهی جهان.....است.</p> <p>د. بیشتر تغییرات آب و هوا در کدام لایه از جو اتفاق می افتد؟</p> <p>و. سه منطقه مهم آب و هوای در نتیجه زوایه نامساوی خورشید را نام ببرید؟</p>	۲
۳/۵		<p>فصل سوم</p> <p>الف. عناصر.....و.....از مهمترین عناصر آب و هوا بر نوع و میزان پوشش گیاهی هست.</p> <p>ب. ساوان بین کدام زیست بوم ها قرار دارد؟</p> <p>ج. راهکارهای مهم در استفاده صحیح از جنگل های استوایی را نام ببرید؟</p> <p>د. این زیست بوم از نظر تنوع جانوری غنی هست و در طول سال هوا گرم هست؟</p>	۳




بارم	نام و نام خانوادگی: قدم مهدی معصومی زاده جدول کلاس: ۹-۵ شماره صندلی: ۱۳۷	امتحان درس مطالعات اجتماعی پایه نهم مدرسه هیئت امنایی فرهنگیان متوسطه اول وقت ۶۰ دقیقه تاریخ امتحان ۱۴۰۱/۱۰/۲۴	ردیف
۳/۵		<p>۱. فصل اول</p> <p>الف. مریخ از سیاره های بیرونی منظومه خورشیدی هست؟ صحیح غلط</p> <p>ب. فاصله هر مکان با مدار استوا بر حسب درجه.....است</p> <p>ج. بر حسب مختصات جغرافیایی ۱۵ W گزینه صحیح را انتخاب کنید؟</p> <p>۱. طول جغرافیایی (غربی)</p> <p>۲. عرض جغرافیایی (جنوبی)</p> <p>۳. طول جغرافیایی (شرقی)</p> <p>۴. عرض جغرافیایی (شمالی)</p> <p>د. انقلاب زمستانی را توضیح دهید؟</p> <p>و. دلایل پیدایش فصل های مختلف را توضیح دهید؟</p>	۱
۳/۵		<p>فصل دوم</p> <p>الف. گاز های کره زمین شامل کدام از ارکان چهره زمین هست؟</p> <p>۱. بیوسفر</p> <p>۲. لیتوسفر</p> <p>۳. هیدروسفر</p> <p>۴. اتمسفر</p> <p>ب. دره های گرینلند V «شکل هست؟ صحیح. غلط.</p> <p>ج. مهم ترین مناطق صید ماهی جهان.....است.</p> <p>د. بیشتر تغییرات آب و هوا در کدام لایه از جو اتفاق می افتد؟</p> <p>و. سه منطقه مهم آب و هوای در نتیجه زوایه نامساوی خورشید را نام ببرید؟</p>	۲
۳/۵		<p>فصل سوم</p> <p>الف. عناصر.....و.....از مهمترین عناصر آب و هوا بر نوع و میزان پوشش گیاهی هست.</p> <p>ب. ساوان بین کدام زیست بوم ها قرار دارد؟</p> <p>ج. راهکارهای مهم در استفاده صحیح از جنگل های استوایی را نام ببرید؟</p> <p>د. این زیست بوم از نظر تنوع جانوری غنی هست و در طول سال هوا گرم هست؟</p>	۳




بارم	نام و نام خانوادگی: علی رضا ملک زاده منصورآباد کلاس: ۹--۵ شماره صندلی: ۱۳۸	امتحان درس مطالعات اجتماعی پایه نهم مدرسه هیئت امنایی فرهنگیان متوسطه اول وقت ۶۰ دقیقه تاریخ امتحان ۱۴۰۱/۱۰/۲۴	ردیف
۳/۵		<p>۱. فصل اول</p> <p>الف. مریخ از سیاره های بیرونی منظومه خورشیدی هست؟ صحیح غلط</p> <p>ب. فاصله هر مکان با مدار استوا بر حسب درجه.....است</p> <p>ج. بر حسب مختصات جغرافیایی ۱۵ W گزیننه صحیح را انتخاب کنید؟</p> <p>۱. طول جغرافیایی (غربی)</p> <p>۲. عرض جغرافیایی (جنوبی)</p> <p>۳. طول جغرافیایی (شرقی)</p> <p>۴. عرض جغرافیایی (شمالی)</p> <p>د. انقلاب زمستانی را توضیح دهید؟</p> <p>و. دلایل پیدایش فصل های مختلف را توضیح دهید؟</p>	۱
۳/۵		<p>فصل دوم</p> <p>الف. گاز های کره زمین شامل کدام از ارکان چهره زمین هست؟</p> <p>۱. بیوسفر</p> <p>۲. لیتوسفر</p> <p>۳. هیدروسفر</p> <p>۴. اتمسفر</p> <p>ب. دره های گرینلند V «شکل هست؟ صحیح. غلط.</p> <p>ج. مهم ترین مناطق صید ماهی جهان.....است.</p> <p>د. بیشتر تغییرات آب و هوا در کدام لایه از جو اتفاق می افتد؟</p> <p>و. سه منطقه مهم آب و هوای در نتیجه زوایه نامساوی خورشید را نام ببرید؟</p>	۲
۳/۵		<p>فصل سوم</p> <p>الف. عناصر.....و.....از مهمترین عناصر آب و هوا بر نوع و میزان پوشش گیاهی هست.</p> <p>ب. ساوان بین کدام زیست بوم ها قرار دارد؟</p> <p>ج. راهکارهای مهم در استفاده صحیح از جنگل های استوایی را نام ببرید؟</p> <p>د. این زیست بوم از نظر تنوع جانوری غنی هست و در طول سال هوا گرم هست؟</p>	۳



بارم	نام و نام خانوادگی: محمدمهدی منصوری کلاس: ۵-۹ شماره صندلی: ۱۳۹	امتحان درس مطالعات اجتماعی پایه نهم مدرسه هیئت امنایی فرهنگیان متوسطه اول وقت ۶۰ دقیقه تاریخ امتحان ۱۴۰۱/۱۰/۲۴	ردیف
۳/۵		<p>۱. فصل اول</p> <p>الف. مریخ از سیاره های بیرونی منظومه خورشیدی هست؟ صحیح غلط</p> <p>ب. فاصله هر مکان با مدار استوا بر حسب درجه.....است</p> <p>ج. بر حسب مختصات جغرافیایی ۱۵ W گزیننه صحیح را انتخاب کنید؟</p> <p>۱. طول جغرافیایی (غربی)</p> <p>۲. عرض جغرافیایی (جنوبی)</p> <p>۳. طول جغرافیایی (شرقی)</p> <p>۴. عرض جغرافیایی (شمالی)</p> <p>د. انقلاب زمستانی را توضیح دهید؟</p> <p>و. دلایل پیدایش فصل های مختلف را توضیح دهید؟</p>	۱
۳/۵		<p>فصل دوم</p> <p>الف. گاز های کره زمین شامل کدام از ارکان چهره زمین هست؟</p> <p>۱. بیوسفر</p> <p>۲. لیتوسفر</p> <p>۳. هیدروسفر</p> <p>۴. اتمسفر</p> <p>ب. دره های گرینلند V «شکل هست؟ صحیح. غلط.</p> <p>ج. مهم ترین مناطق صید ماهی جهان.....است.</p> <p>د. بیشتر تغییرات آب و هوا در کدام لایه از جو اتفاق می افتد؟</p> <p>و. سه منطقه مهم آب و هوای در نتیجه زوایه نامساوی خورشید را نام ببرید؟</p>	۲
۳/۵		<p>فصل سوم</p> <p>الف. عناصر.....و.....از مهمترین عناصر آب و هوا بر نوع و میزان پوشش گیاهی هست.</p> <p>ب. ساوان بین کدام زیست بوم ها قرار دارد؟</p> <p>ج. راهکارهای مهم در استفاده صحیح از جنگل های استوایی را نام ببرید؟</p> <p>د. این زیست بوم از نظر تنوع جانوری غنی هست و در طول سال هوا گرم هست؟</p>	۳




بارم	نام و نام خانوادگی: ابوالفضل منفرد کلاس: ۹-۵ شماره صندلی: ۱۴۰	امتحان درس مطالعات اجتماعی پایه نهم مدرسه هیئت امنایی فرهنگیان متوسطه اول وقت ۶۰ دقیقه تاریخ امتحان ۱۴۰۱/۱۰/۲۴	ردیف
۳/۵		<p>۱. فصل اول</p> <p>الف. مریخ از سیاره های بیرونی منظومه خورشیدی هست؟ صحیح غلط</p> <p>ب. فاصله هر مکان با مدار استوا بر حسب درجه.....است</p> <p>ج. بر حسب مختصات جغرافیایی ۱۵ W گزیننه صحیح را انتخاب کنید؟</p> <p>۱. طول جغرافیایی (غربی)</p> <p>۲. عرض جغرافیایی (جنوبی)</p> <p>۳. طول جغرافیایی (شرقی)</p> <p>۴. عرض جغرافیایی (شمالی)</p> <p>د. انقلاب زمستانی را توضیح دهید؟</p> <p>و. دلایل پیدایش فصل های مختلف را توضیح دهید؟</p>	۱
۳/۵		<p>فصل دوم</p> <p>الف. گاز های کره زمین شامل کدام از ارکان چهره زمین هست؟</p> <p>۱. بیوسفر</p> <p>۲. لیتوسفر</p> <p>۳. هیدروسفر</p> <p>۴. اتمسفر</p> <p>ب. دره های گرینلند V «شکل هست؟ صحیح. غلط.</p> <p>ج. مهم ترین مناطق صید ماهی جهان.....است.</p> <p>د. بیشتر تغییرات آب و هوا در کدام لایه از جو اتفاق می افتد؟</p> <p>و. سه منطقه مهم آب و هوای در نتیجه زوایه نامساوی خورشید را نام ببرید؟</p>	۲
۳/۵		<p>فصل سوم</p> <p>الف. عناصر.....و.....از مهمترین عناصر آب و هوا بر نوع و میزان پوشش گیاهی هست.</p> <p>ب. ساوان بین کدام زیست بوم ها قرار دارد؟</p> <p>ج. راهکارهای مهم در استفاده صحیح از جنگل های استوایی را نام ببرید؟</p> <p>د. این زیست بوم از نظر تنوع جانوری غنی هست و در طول سال هوا گرم هست؟</p>	۳




بارم	نام و نام خانوادگی: سیدامیرحسین موسوی کلاس: ۹--۵ شماره صندلی: ۱۴۱	امتحان درس مطالعات اجتماعی پایه نهم مدرسه هیئت امنایی فرهنگیان متوسطه اول وقت ۶۰ دقیقه تاریخ امتحان ۱۴۰۱/۱۰/۲۴	ردیف
۳/۵		<p>۱. فصل اول</p> <p>الف. مریخ از سیاره های بیرونی منظومه خورشیدی هست؟ صحیح غلط</p> <p>ب. فاصله هر مکان با مدار استوا بر حسب درجه.....است</p> <p>ج. بر حسب مختصات جغرافیایی ۱۵ W گزیننه صحیح را انتخاب کنید؟</p> <p>۱. طول جغرافیایی (غربی)</p> <p>۲. عرض جغرافیایی (جنوبی)</p> <p>۳. طول جغرافیایی (شرقی)</p> <p>۴. عرض جغرافیایی (شمالی)</p> <p>د. انقلاب زمستانی را توضیح دهید؟</p> <p>و. دلایل پیدایش فصل های مختلف را توضیح دهید؟</p>	۱
۳/۵		<p>فصل دوم</p> <p>الف. گاز های کره زمین شامل کدام از ارکان چهره زمین هست؟</p> <p>۱. بیوسفر</p> <p>۲. لیتوسفر</p> <p>۳. هیدروسفر</p> <p>۴. اتمسفر</p> <p>ب. دره های گرینلند V «شکل هست؟ صحیح. غلط.</p> <p>ج. مهم ترین مناطق صید ماهی جهان.....است.</p> <p>د. بیشتر تغییرات آب و هوا در کدام لایه از جو اتفاق می افتد؟</p> <p>و. سه منطقه مهم آب و هوای در نتیجه زوایه نامساوی خورشید را نام ببرید؟</p>	۲
۳/۵		<p>فصل سوم</p> <p>الف. عناصر.....و.....از مهمترین عناصر آب و هوا بر نوع و میزان پوشش گیاهی هست.</p> <p>ب. ساوان بین کدام زیست بوم ها قرار دارد؟</p> <p>ج. راهکارهای مهم در استفاده صحیح از جنگل های استوایی را نام ببرید؟</p> <p>د. این زیست بوم از نظر تنوع جانوری غنی هست و در طول سال هوا گرم هست؟</p>	۳




بارم	نام و نام خانوادگی: سیدامیرحسین موسوی کلاس: ۹--۵ شماره صندلی: ۱۴۲	امتحان درس مطالعات اجتماعی پایه نهم مدرسه هیئت امنایی فرهنگیان متوسطه اول وقت ۶۰ دقیقه تاریخ امتحان ۱۴۰۱/۱۰/۲۴	ردیف
۳/۵		<p>۱. فصل اول</p> <p>الف. مریخ از سیاره های بیرونی منظومه خورشیدی هست؟ صحیح غلط</p> <p>ب. فاصله هر مکان با مدار استوا بر حسب درجه.....است</p> <p>ج. بر حسب مختصات جغرافیایی ۱۵ W گزیننه صحیح را انتخاب کنید؟</p> <p>۱. طول جغرافیایی (غربی)</p> <p>۲. عرض جغرافیایی (جنوبی)</p> <p>۳. طول جغرافیایی (شرقی)</p> <p>۴. عرض جغرافیایی (شمالی)</p> <p>د. انقلاب زمستانی را توضیح دهید؟</p> <p>و. دلایل پیدایش فصل های مختلف را توضیح دهید؟</p>	۱
۳/۵		<p>فصل دوم</p> <p>الف. گاز های کره زمین شامل کدام از ارکان چهره زمین هست؟</p> <p>۱. بیوسفر</p> <p>۲. لیتوسفر</p> <p>۳. هیدروسفر</p> <p>۴. اتمسفر</p> <p>ب. دره های گرینلند V «شکل هست؟ صحیح. غلط.</p> <p>ج. مهم ترین مناطق صید ماهی جهان.....است.</p> <p>د. بیشتر تغییرات آب و هوا در کدام لایه از جو اتفاق می افتد؟</p> <p>و. سه منطقه مهم آب و هوای در نتیجه زوایه نامساوی خورشید را نام ببرید؟</p>	۲
۳/۵		<p>فصل سوم</p> <p>الف. عناصر.....و.....از مهمترین عناصر آب و هوا بر نوع و میزان پوشش گیاهی هست.</p> <p>ب. ساوان بین کدام زیست بوم ها قرار دارد؟</p> <p>ج. راهکارهای مهم در استفاده صحیح از جنگل های استوایی را نام ببرید؟</p> <p>د. این زیست بوم از نظر تنوع جانوری غنی هست و در طول سال هوا گرم هست؟</p>	۳




بارم	نام و نام خانوادگی: سیدمحمدامین موسوی کلاس: ۹-۵ شماره صندلی: ۱۴۳	امتحان درس مطالعات اجتماعی پایه نهم مدرسه هیئت امنایی فرهنگیان متوسطه اول وقت ۶۰ دقیقه تاریخ امتحان ۱۴۰۱/۱۰/۲۴	ردیف
۳/۵		<p>۱. فصل اول</p> <p>الف. مریخ از سیاره های بیرونی منظومه خورشیدی هست؟ صحیح غلط</p> <p>ب. فاصله هر مکان با مدار استوا بر حسب درجه.....است</p> <p>ج. بر حسب مختصات جغرافیایی ۱۵ W گزیننه صحیح را انتخاب کنید؟</p> <p>۱. طول جغرافیایی (غربی)</p> <p>۲. عرض جغرافیایی (جنوبی)</p> <p>۳. طول جغرافیایی (شرقی)</p> <p>۴. عرض جغرافیایی (شمالی)</p> <p>د. انقلاب زمستانی را توضیح دهید؟</p> <p>و. دلایل پیدایش فصل های مختلف را توضیح دهید؟</p>	۱
۳/۵		<p>فصل دوم</p> <p>الف. گاز های کره زمین شامل کدام از ارکان چهره زمین هست؟</p> <p>۱. بیوسفر</p> <p>۲. لیتوسفر</p> <p>۳. هیدروسفر</p> <p>۴. اتمسفر</p> <p>ب. دره های گرینلند V «شکل هست؟ صحیح. غلط.</p> <p>ج. مهم ترین مناطق صید ماهی جهان.....است.</p> <p>د. بیشتر تغییرات آب و هوا در کدام لایه از جو اتفاق می افتد؟</p> <p>و. سه منطقه مهم آب و هوای در نتیجه زوایه نامساوی خورشید را نام ببرید؟</p>	۲
۳/۵		<p>فصل سوم</p> <p>الف. عناصر.....و.....از مهمترین عناصر آب و هوا بر نوع و میزان پوشش گیاهی هست.</p> <p>ب. ساوان بین کدام زیست بوم ها قرار دارد؟</p> <p>ج. راهکارهای مهم در استفاده صحیح از جنگل های استوایی را نام ببرید؟</p> <p>د. این زیست بوم از نظر تنوع جانوری غنی هست و در طول سال هوا گرم هست؟</p>	۳




بارم	نام و نام خانوادگی: پیام میرزائی کلاس: ۹-۵ شماره صندلی: ۱۴۴	امتحان درس مطالعات اجتماعی پایه نهم مدرسه هیئت امنایی فرهنگیان متوسطه اول وقت ۶۰ دقیقه تاریخ امتحان ۱۴۰۱/۱۰/۲۴	ردیف
۳/۵		<p>۱. فصل اول</p> <p>الف. مریخ از سیاره های بیرونی منظومه خورشیدی هست؟ صحیح غلط</p> <p>ب. فاصله هر مکان با مدار استوا بر حسب درجه.....است</p> <p>ج. بر حسب مختصات جغرافیایی ۱۵ W گزیننه صحیح را انتخاب کنید؟</p> <p>۱. طول جغرافیایی (غربی)</p> <p>۲. عرض جغرافیایی (جنوبی)</p> <p>۳. طول جغرافیایی (شرقی)</p> <p>۴. عرض جغرافیایی (شمالی)</p> <p>د. انقلاب زمستانی را توضیح دهید؟</p> <p>و. دلایل پیدایش فصل های مختلف را توضیح دهید؟</p>	۱
۳/۵		<p>فصل دوم</p> <p>الف. گاز های کره زمین شامل کدام از ارکان چهره زمین هست؟</p> <p>۱. بیوسفر</p> <p>۲. لیتوسفر</p> <p>۳. هیدروسفر</p> <p>۴. اتمسفر</p> <p>ب. دره های گرینلند V «شکل هست؟ صحیح. غلط.</p> <p>ج. مهم ترین مناطق صید ماهی جهان.....است.</p> <p>د. بیشتر تغییرات آب و هوا در کدام لایه از جو اتفاق می افتد؟</p> <p>و. سه منطقه مهم آب و هوای در نتیجه زوایه نامساوی خورشید را نام ببرید؟</p>	۲
۳/۵		<p>فصل سوم</p> <p>الف. عناصر.....و.....از مهمترین عناصر آب و هوا بر نوع و میزان پوشش گیاهی هست.</p> <p>ب. ساوان بین کدام زیست بوم ها قرار دارد؟</p> <p>ج. راهکارهای مهم در استفاده صحیح از جنگل های استوایی را نام ببرید؟</p> <p>د. این زیست بوم از نظر تنوع جانوری غنی هست و در طول سال هوا گرم هست؟</p>	۳



بارم	نام و نام خانوادگی: رضا نادری یوسف کلاس: ۹--۵ شماره صندلی: ۱۴۵	امتحان درس مطالعات اجتماعی پایه نهم مدرسه هیئت امنایی فرهنگیان متوسطه اول وقت ۶۰ دقیقه تاریخ امتحان ۱۴۰۱/۱۰/۲۴	ردیف
۳/۵		<p>۱. فصل اول</p> <p>الف. مریخ از سیاره های بیرونی منظومه خورشیدی هست؟ صحیح غلط</p> <p>ب. فاصله هر مکان با مدار استوا بر حسب درجه.....است</p> <p>ج. بر حسب مختصات جغرافیایی ۱۵ W گزینه صحیح را انتخاب کنید؟</p> <p>۱. طول جغرافیایی (غربی)</p> <p>۲. عرض جغرافیایی (جنوبی)</p> <p>۳. طول جغرافیایی (شرقی)</p> <p>۴. عرض جغرافیایی (شمالی)</p> <p>د. انقلاب زمستانی را توضیح دهید؟</p> <p>و. دلایل پیدایش فصل های مختلف را توضیح دهید؟</p>	۱
۳/۵		<p>فصل دوم</p> <p>الف. گاز های کره زمین شامل کدام از ارکان چهره زمین هست؟</p> <p>۱. بیوسفر</p> <p>۲. لیتوسفر</p> <p>۳. هیدروسفر</p> <p>۴. اتمسفر</p> <p>ب. دره های گرینلند V «شکل هست؟ صحیح. غلط.</p> <p>ج. مهم ترین مناطق صید ماهی جهان.....است.</p> <p>د. بیشتر تغییرات آب و هوا در کدام لایه از جو اتفاق می افتد؟</p> <p>و. سه منطقه مهم آب و هوای در نتیجه زوایه نامساوی خورشید را نام ببرید؟</p>	۲
۳/۵		<p>فصل سوم</p> <p>الف. عناصر.....و.....از مهمترین عناصر آب و هوا بر نوع و میزان پوشش گیاهی هست.</p> <p>ب. ساوان بین کدام زیست بوم ها قرار دارد؟</p> <p>ج. راهکارهای مهم در استفاده صحیح از جنگل های استوایی را نام ببرید؟</p> <p>د. این زیست بوم از نظر تنوع جانوری غنی هست و در طول سال هوا گرم هست؟</p>	۳




بارم	نام و نام خانوادگی: عمادرضا نادری مقدم کلاس: ۹--۵ شماره صندلی: ۱۴۶	امتحان درس مطالعات اجتماعی پایه نهم مدرسه هیئت امنایی فرهنگیان متوسطه اول وقت ۶۰ دقیقه تاریخ امتحان ۱۴۰۱/۱۰/۲۴	ردیف
۳/۵		<p>۱. فصل اول</p> <p>الف. مریخ از سیاره های بیرونی منظومه خورشیدی هست؟ صحیح غلط</p> <p>ب. فاصله هر مکان با مدار استوا بر حسب درجه.....است</p> <p>ج. بر حسب مختصات جغرافیایی ۱۵ W گزینه صحیح را انتخاب کنید؟</p> <p>۱. طول جغرافیایی (غربی)</p> <p>۲. عرض جغرافیایی (جنوبی)</p> <p>۳. طول جغرافیایی (شرقی)</p> <p>۴. عرض جغرافیایی (شمالی)</p> <p>د. انقلاب زمستانی را توضیح دهید؟</p> <p>و. دلایل پیدایش فصل های مختلف را توضیح دهید؟</p>	۱
۳/۵		<p>فصل دوم</p> <p>الف. گاز های کره زمین شامل کدام از ارکان چهره زمین هست؟</p> <p>۱. بیوسفر</p> <p>۲. لیتوسفر</p> <p>۳. هیدروسفر</p> <p>۴. اتمسفر</p> <p>ب. دره های گرینلند V «شکل هست؟ صحیح. غلط.</p> <p>ج. مهم ترین مناطق صید ماهی جهان.....است.</p> <p>د. بیشتر تغییرات آب و هوا در کدام لایه از جو اتفاق می افتد؟</p> <p>و. سه منطقه مهم آب و هوای در نتیجه زوایه نامساوی خورشید را نام ببرید؟</p>	۲
۳/۵		<p>فصل سوم</p> <p>الف. عناصر.....و.....از مهمترین عناصر آب و هوا بر نوع و میزان پوشش گیاهی هست.</p> <p>ب. ساوان بین کدام زیست بوم ها قرار دارد؟</p> <p>ج. راهکارهای مهم در استفاده صحیح از جنگل های استوایی را نام ببرید؟</p> <p>د. این زیست بوم از نظر تنوع جانوری غنی هست و در طول سال هوا گرم هست؟</p>	۳




بارم	نام و نام خانوادگی: مجتبی نجفی حسین آباد کلاس: ۹--۵ شماره صندلی: ۱۴۷	امتحان درس مطالعات اجتماعی پایه نهم مدرسه هیئت امنایی فرهنگیان متوسطه اول وقت ۶۰ دقیقه تاریخ امتحان ۱۴۰۱/۱۰/۲۴	ردیف
۳/۵		<p>۱. فصل اول</p> <p>الف. مریخ از سیاره های بیرونی منظومه خورشیدی هست؟ صحیح غلط</p> <p>ب. فاصله هر مکان با مدار استوا بر حسب درجه.....است</p> <p>ج. بر حسب مختصات جغرافیایی ۱۵ W گزیننه صحیح را انتخاب کنید؟</p> <p>۱. طول جغرافیایی (غربی)</p> <p>۲. عرض جغرافیایی (جنوبی)</p> <p>۳. طول جغرافیایی (شرقی)</p> <p>۴. عرض جغرافیایی (شمالی)</p> <p>د. انقلاب زمستانی را توضیح دهید؟</p> <p>و. دلایل پیدایش فصل های مختلف را توضیح دهید؟</p>	۱
۳/۵		<p>فصل دوم</p> <p>الف. گاز های کره زمین شامل کدام از ارکان چهره زمین هست؟</p> <p>۱. بیوسفر</p> <p>۲. لیتوسفر</p> <p>۳. هیدروسفر</p> <p>۴. اتمسفر</p> <p>ب. دره های گرینلند V «شکل هست؟ صحیح. غلط.</p> <p>ج. مهم ترین مناطق صید ماهی جهان.....است.</p> <p>د. بیشتر تغییرات آب و هوا در کدام لایه از جو اتفاق می افتد؟</p> <p>و. سه منطقه مهم آب و هوای در نتیجه زوایه نامساوی خورشید را نام ببرید؟</p>	۲
۳/۵		<p>فصل سوم</p> <p>الف. عناصر.....و.....از مهمترین عناصر آب و هوا بر نوع و میزان پوشش گیاهی هست.</p> <p>ب. ساوان بین کدام زیست بوم ها قرار دارد؟</p> <p>ج. راهکارهای مهم در استفاده صحیح از جنگل های استوایی را نام ببرید؟</p> <p>د. این زیست بوم از نظر تنوع جانوری غنی هست و در طول سال هوا گرم هست؟</p>	۳




بارم	نام و نام خانوادگی: رضا نجفی محمودآباد علی کلاس: ۹--۵ شماره صندلی: ۱۴۸	امتحان درس مطالعات اجتماعی پایه نهم مدرسه هیئت امنایی فرهنگیان متوسطه اول وقت ۶۰ دقیقه تاریخ امتحان ۱۴۰۱/۱۰/۲۴	ردیف
۳/۵		<p>۱. فصل اول</p> <p>الف. مریخ از سیاره های بیرونی منظومه خورشیدی هست؟ صحیح غلط</p> <p>ب. فاصله هر مکان با مدار استوا بر حسب درجه.....است</p> <p>ج. بر حسب مختصات جغرافیایی ۱۵ W گزیننه صحیح را انتخاب کنید؟</p> <p>۱. طول جغرافیایی (غربی)</p> <p>۲. عرض جغرافیایی (جنوبی)</p> <p>۳. طول جغرافیایی (شرقی)</p> <p>۴. عرض جغرافیایی (شمالی)</p> <p>د. انقلاب زمستانی را توضیح دهید؟</p> <p>و. دلایل پیدایش فصل های مختلف را توضیح دهید؟</p>	۱
۳/۵		<p>فصل دوم</p> <p>الف. گاز های کره زمین شامل کدام از ارکان چهره زمین هست؟</p> <p>۱. بیوسفر</p> <p>۲. لیتوسفر</p> <p>۳. هیدروسفر</p> <p>۴. اتمسفر</p> <p>ب. دره های گرینلند V «شکل هست؟ صحیح. غلط.</p> <p>ج. مهم ترین مناطق صید ماهی جهان.....است.</p> <p>د. بیشتر تغییرات آب و هوا در کدام لایه از جو اتفاق می افتد؟</p> <p>و. سه منطقه مهم آب و هوای در نتیجه زوایه نامساوی خورشید را نام ببرید؟</p>	۲
۳/۵		<p>فصل سوم</p> <p>الف. عناصر.....و.....از مهمترین عناصر آب و هوا بر نوع و میزان پوشش گیاهی هست.</p> <p>ب. ساوان بین کدام زیست بوم ها قرار دارد؟</p> <p>ج. راهکارهای مهم در استفاده صحیح از جنگل های استوایی را نام ببرید؟</p> <p>د. این زیست بوم از نظر تنوع جانوری غنی هست و در طول سال هوا گرم هست؟</p>	۳




بارم	نام و نام خانوادگی: ابوالفضل نژندی کلاس: ۹-۵ شماره صندلی: ۱۴۹	امتحان درس مطالعات اجتماعی پایه نهم مدرسه هیئت امنایی فرهنگیان متوسطه اول وقت ۶۰ دقیقه تاریخ امتحان ۱۴۰۱/۱۰/۲۴	ردیف
۳/۵		<p>۱. فصل اول</p> <p>الف. مریخ از سیاره های بیرونی منظومه خورشیدی هست؟ صحیح غلط</p> <p>ب. فاصله هر مکان با مدار استوا بر حسب درجه.....است</p> <p>ج. بر حسب مختصات جغرافیایی ۱۵ W گزینه صحیح را انتخاب کنید؟</p> <p>۱. طول جغرافیایی (غربی)</p> <p>۲. عرض جغرافیایی (جنوبی)</p> <p>۳. طول جغرافیایی (شرقی)</p> <p>۴. عرض جغرافیایی (شمالی)</p> <p>د. انقلاب زمستانی را توضیح دهید؟</p> <p>و. دلایل پیدایش فصل های مختلف را توضیح دهید؟</p>	۱
۳/۵		<p>فصل دوم</p> <p>الف. گاز های کره زمین شامل کدام از ارکان چهره زمین هست؟</p> <p>۱. بیوسفر</p> <p>۲. لیتوسفر</p> <p>۳. هیدروسفر</p> <p>۴. اتمسفر</p> <p>ب. دره های گرینلند V «شکل هست؟ صحیح. غلط.</p> <p>ج. مهم ترین مناطق صید ماهی جهان.....است.</p> <p>د. بیشتر تغییرات آب و هوا در کدام لایه از جو اتفاق می افتد؟</p> <p>و. سه منطقه مهم آب و هوای در نتیجه زوایه نامساوی خورشید را نام ببرید؟</p>	۲
۳/۵		<p>فصل سوم</p> <p>الف. عناصر.....و.....از مهمترین عناصر آب و هوا بر نوع و میزان پوشش گیاهی هست.</p> <p>ب. ساوان بین کدام زیست بوم ها قرار دارد؟</p> <p>ج. راهکارهای مهم در استفاده صحیح از جنگل های استوایی را نام ببرید؟</p> <p>د. این زیست بوم از نظر تنوع جانوری غنی هست و در طول سال هوا گرم هست؟</p>	۳




بارم	نام و نام خانوادگی: امیررضا نظام زاده کلاس: ۹--۵ شماره صندلی: ۱۵۰	امتحان درس مطالعات اجتماعی پایه نهم مدرسه هیئت امنایی فرهنگیان متوسطه اول وقت ۶۰ دقیقه تاریخ امتحان ۱۴۰۱/۱۰/۲۴	ردیف
۳/۵		<p>۱. فصل اول</p> <p>الف. مریخ از سیاره های بیرونی منظومه خورشیدی هست؟ صحیح غلط</p> <p>ب. فاصله هر مکان با مدار استوا بر حسب درجه.....است</p> <p>ج. بر حسب مختصات جغرافیایی ۱۵ W گزینه صحیح را انتخاب کنید؟</p> <p>۱. طول جغرافیایی (غربی)</p> <p>۲. عرض جغرافیایی (جنوبی)</p> <p>۳. طول جغرافیایی (شرقی)</p> <p>۴. عرض جغرافیایی (شمالی)</p> <p>د. انقلاب زمستانی را توضیح دهید؟</p> <p>و. دلایل پیدایش فصل های مختلف را توضیح دهید؟</p>	۱
۳/۵		<p>فصل دوم</p> <p>الف. گاز های کره زمین شامل کدام از ارکان چهره زمین هست؟</p> <p>۱. بیوسفر</p> <p>۲. لیتوسفر</p> <p>۳. هیدروسفر</p> <p>۴. اتمسفر</p> <p>ب. دره های گرینلند V «شکل هست؟ صحیح. غلط.</p> <p>ج. مهم ترین مناطق صید ماهی جهان.....است.</p> <p>د. بیشتر تغییرات آب و هوا در کدام لایه از جو اتفاق می افتد؟</p> <p>و. سه منطقه مهم آب و هوای در نتیجه زوایه نامساوی خورشید را نام ببرید؟</p>	۲
۳/۵		<p>فصل سوم</p> <p>الف. عناصر.....و.....از مهمترین عناصر آب و هوا بر نوع و میزان پوشش گیاهی هست.</p> <p>ب. ساوان بین کدام زیست بوم ها قرار دارد؟</p> <p>ج. راهکارهای مهم در استفاده صحیح از جنگل های استوایی را نام ببرید؟</p> <p>د. این زیست بوم از نظر تنوع جانوری غنی هست و در طول سال هوا گرم هست؟</p>	۳




بارم	نام و نام خانوادگی: آرین نظری حسین آباد کلاس: ۹--۵ شماره صندلی: ۱۵۱	امتحان درس مطالعات اجتماعی پایه نهم مدرسه هیئت امنایی فرهنگیان متوسطه اول وقت ۶۰ دقیقه تاریخ امتحان ۱۴۰۱/۱۰/۲۴	ردیف
۳/۵		<p>۱. فصل اول</p> <p>الف. مریخ از سیاره های بیرونی منظومه خورشیدی هست؟ صحیح غلط</p> <p>ب. فاصله هر مکان با مدار استوا بر حسب درجه.....است</p> <p>ج. بر حسب مختصات جغرافیایی ۱۵ W گزینه صحیح را انتخاب کنید؟</p> <p>۱. طول جغرافیایی (غربی)</p> <p>۲. عرض جغرافیایی (جنوبی)</p> <p>۳. طول جغرافیایی (شرقی)</p> <p>۴. عرض جغرافیایی (شمالی)</p> <p>د. انقلاب زمستانی را توضیح دهید؟</p> <p>و. دلایل پیدایش فصل های مختلف را توضیح دهید؟</p>	۱
۳/۵		<p>فصل دوم</p> <p>الف. گاز های کره زمین شامل کدام از ارکان چهره زمین هست؟</p> <p>۱. بیوسفر</p> <p>۲. لیتوسفر</p> <p>۳. هیدروسفر</p> <p>۴. اتمسفر</p> <p>ب. دره های گرینلند V «شکل هست؟ صحیح. غلط.</p> <p>ج. مهم ترین مناطق صید ماهی جهان.....است.</p> <p>د. بیشتر تغییرات آب و هوا در کدام لایه از جو اتفاق می افتد؟</p> <p>و. سه منطقه مهم آب و هوای در نتیجه زوایه نامساوی خورشید را نام ببرید؟</p>	۲
۳/۵		<p>فصل سوم</p> <p>الف. عناصر.....و.....از مهمترین عناصر آب و هوا بر نوع و میزان پوشش گیاهی هست.</p> <p>ب. ساوان بین کدام زیست بوم ها قرار دارد؟</p> <p>ج. راهکارهای مهم در استفاده صحیح از جنگل های استوایی را نام ببرید؟</p> <p>د. این زیست بوم از نظر تنوع جانوری غنی هست و در طول سال هوا گرم هست؟</p>	۳




بارم	نام و نام خانوادگی: طها نگین تاجی حمیدآباد کلاس: ۹--۵ شماره صندلی: ۱۵۲	امتحان درس مطالعات اجتماعی پایه نهم مدرسه هیئت امنایی فرهنگیان متوسطه اول وقت ۶۰ دقیقه تاریخ امتحان ۱۴۰۱/۱۰/۲۴	ردیف
۳/۵		<p>۱. فصل اول</p> <p>الف. مریخ از سیاره های بیرونی منظومه خورشیدی هست؟ صحیح غلط</p> <p>ب. فاصله هر مکان با مدار استوا بر حسب درجه.....است</p> <p>ج. بر حسب مختصات جغرافیایی ۱۵ W گزینه صحیح را انتخاب کنید؟</p> <p>۱. طول جغرافیایی (غربی)</p> <p>۲. عرض جغرافیایی (جنوبی)</p> <p>۳. طول جغرافیایی (شرقی)</p> <p>۴. عرض جغرافیایی (شمالی)</p> <p>د. انقلاب زمستانی را توضیح دهید؟</p> <p>و. دلایل پیدایش فصل های مختلف را توضیح دهید؟</p>	۱
۳/۵		<p>فصل دوم</p> <p>الف. گاز های کره زمین شامل کدام از ارکان چهره زمین هست؟</p> <p>۱. بیوسفر</p> <p>۲. لیتوسفر</p> <p>۳. هیدروسفر</p> <p>۴. اتمسفر</p> <p>ب. دره های گرینلند V «شکل هست؟ صحیح. غلط.</p> <p>ج. مهم ترین مناطق صید ماهی جهان.....است.</p> <p>د. بیشتر تغییرات آب و هوا در کدام لایه از جو اتفاق می افتد؟</p> <p>و. سه منطقه مهم آب و هوای در نتیجه زوایه نامساوی خورشید را نام ببرید؟</p>	۲
۳/۵		<p>فصل سوم</p> <p>الف. عناصر.....و.....از مهمترین عناصر آب و هوا بر نوع و میزان پوشش گیاهی هست.</p> <p>ب. ساوان بین کدام زیست بوم ها قرار دارد؟</p> <p>ج. راهکارهای مهم در استفاده صحیح از جنگل های استوایی را نام ببرید؟</p> <p>د. این زیست بوم از نظر تنوع جانوری غنی هست و در طول سال هوا گرم هست؟</p>	۳




بارم	نام و نام خانوادگی: امیرمحمد نوری کلاس: ۹-۵ شماره صندلی: ۱۵۳	امتحان درس مطالعات اجتماعی پایه نهم مدرسه هیئت امنایی فرهنگیان متوسطه اول وقت ۶۰ دقیقه تاریخ امتحان ۱۴۰۱/۱۰/۲۴	ردیف
۳/۵		<p>۱. فصل اول</p> <p>الف. مریخ از سیاره های بیرونی منظومه خورشیدی هست؟ صحیح غلط</p> <p>ب. فاصله هر مکان با مدار استوا بر حسب درجه.....است</p> <p>ج. بر حسب مختصات جغرافیایی ۱۵ W گزینه صحیح را انتخاب کنید؟</p> <p>۱. طول جغرافیایی (غربی)</p> <p>۲. عرض جغرافیایی (جنوبی)</p> <p>۳. طول جغرافیایی (شرقی)</p> <p>۴. عرض جغرافیایی (شمالی)</p> <p>د. انقلاب زمستانی را توضیح دهید؟</p> <p>و. دلایل پیدایش فصل های مختلف را توضیح دهید؟</p>	۱
۳/۵		<p>فصل دوم</p> <p>الف. گاز های کره زمین شامل کدام از ارکان چهره زمین هست؟</p> <p>۱. بیوسفر</p> <p>۲. لیتوسفر</p> <p>۳. هیدروسفر</p> <p>۴. اتمسفر</p> <p>ب. دره های گرینلند V «شکل هست؟ صحیح. غلط.</p> <p>ج. مهم ترین مناطق صید ماهی جهان.....است.</p> <p>د. بیشتر تغییرات آب و هوا در کدام لایه از جو اتفاق می افتد؟</p> <p>و. سه منطقه مهم آب و هوای در نتیجه زوایه نامساوی خورشید را نام ببرید؟</p>	۲
۳/۵		<p>فصل سوم</p> <p>الف. عناصر.....و.....از مهمترین عناصر آب و هوا بر نوع و میزان پوشش گیاهی هست.</p> <p>ب. ساوان بین کدام زیست بوم ها قرار دارد؟</p> <p>ج. راهکارهای مهم در استفاده صحیح از جنگل های استوایی را نام ببرید؟</p> <p>د. این زیست بوم از نظر تنوع جانوری غنی هست و در طول سال هوا گرم هست؟</p>	۳




بارم	نام و نام خانوادگی: ابوالفضل نیساریان کلاس: ۹--۵ شماره صندلی: ۱۵۴	امتحان درس مطالعات اجتماعی پایه نهم مدرسه هیئت امنایی فرهنگیان متوسطه اول وقت ۶۰ دقیقه تاریخ امتحان ۱۴۰۱/۱۰/۲۴	ردیف
۳/۵		<p>۱. فصل اول</p> <p>الف. مریخ از سیاره های بیرونی منظومه خورشیدی هست؟ صحیح غلط</p> <p>ب. فاصله هر مکان با مدار استوا بر حسب درجه.....است</p> <p>ج. بر حسب مختصات جغرافیایی ۱۵ W گزیننه صحیح را انتخاب کنید؟</p> <p>۱. طول جغرافیایی (غربی)</p> <p>۲. عرض جغرافیایی (جنوبی)</p> <p>۳. طول جغرافیایی (شرقی)</p> <p>۴. عرض جغرافیایی (شمالی)</p> <p>د. انقلاب زمستانی را توضیح دهید؟</p> <p>و. دلایل پیدایش فصل های مختلف را توضیح دهید؟</p>	۱
۳/۵		<p>فصل دوم</p> <p>الف. گاز های کره زمین شامل کدام از ارکان چهره زمین هست؟</p> <p>۱. بیوسفر</p> <p>۲. لیتوسفر</p> <p>۳. هیدروسفر</p> <p>۴. اتمسفر</p> <p>ب. دره های گرینلند V «شکل هست؟ صحیح. غلط.</p> <p>ج. مهم ترین مناطق صید ماهی جهان.....است.</p> <p>د. بیشتر تغییرات آب و هوا در کدام لایه از جو اتفاق می افتد؟</p> <p>و. سه منطقه مهم آب و هوای در نتیجه زوایه نامساوی خورشید را نام ببرید؟</p>	۲
۳/۵		<p>فصل سوم</p> <p>الف. عناصر.....و.....از مهمترین عناصر آب و هوا بر نوع و میزان پوشش گیاهی هست.</p> <p>ب. ساوان بین کدام زیست بوم ها قرار دارد؟</p> <p>ج. راهکارهای مهم در استفاده صحیح از جنگل های استوایی را نام ببرید؟</p> <p>د. این زیست بوم از نظر تنوع جانوری غنی هست و در طول سال هوا گرم هست؟</p>	۳




بارم	نام و نام خانوادگی: امیرپاشا نیکخوپور کلاس: ۹-۵ شماره صندلی: ۱۵۵	امتحان درس مطالعات اجتماعی پایه نهم مدرسه هیئت امنایی فرهنگیان متوسطه اول وقت ۶۰ دقیقه تاریخ امتحان ۱۴۰۱/۱۰/۲۴	ردیف
۳/۵		<p>۱. فصل اول</p> <p>الف. مریخ از سیاره های بیرونی منظومه خورشیدی هست؟ صحیح غلط</p> <p>ب. فاصله هر مکان با مدار استوا بر حسب درجه.....است</p> <p>ج. بر حسب مختصات جغرافیایی ۱۵ W گزینه صحیح را انتخاب کنید؟</p> <p>۱. طول جغرافیایی (غربی)</p> <p>۲. عرض جغرافیایی (جنوبی)</p> <p>۳. طول جغرافیایی (شرقی)</p> <p>۴. عرض جغرافیایی (شمالی)</p> <p>د. انقلاب زمستانی را توضیح دهید؟</p> <p>و. دلایل پیدایش فصل های مختلف را توضیح دهید؟</p>	۱
۳/۵		<p>فصل دوم</p> <p>الف. گاز های کره زمین شامل کدام از ارکان چهره زمین هست؟</p> <p>۱. بیوسفر</p> <p>۲. لیتوسفر</p> <p>۳. هیدروسفر</p> <p>۴. اتمسفر</p> <p>ب. دره های گرینلند V «شکل هست؟ صحیح. غلط.</p> <p>ج. مهم ترین مناطق صید ماهی جهان.....است.</p> <p>د. بیشتر تغییرات آب و هوا در کدام لایه از جو اتفاق می افتد؟</p> <p>و. سه منطقه مهم آب و هوای در نتیجه زوایه نامساوی خورشید را نام ببرید؟</p>	۲
۳/۵		<p>فصل سوم</p> <p>الف. عناصر.....و.....از مهمترین عناصر آب و هوا بر نوع و میزان پوشش گیاهی هست.</p> <p>ب. ساوان بین کدام زیست بوم ها قرار دارد؟</p> <p>ج. راهکارهای مهم در استفاده صحیح از جنگل های استوایی را نام ببرید؟</p> <p>د. این زیست بوم از نظر تنوع جانوری غنی هست و در طول سال هوا گرم هست؟</p>	۳




بارم	نام و نام خانوادگی: آرمین واحدی زاده اصل کلاس: ۹--۵ شماره صندلی: ۱۵۶	امتحان درس مطالعات اجتماعی پایه نهم مدرسه هیئت امنایی فرهنگیان متوسطه اول وقت ۶۰ دقیقه تاریخ امتحان ۱۴۰۱/۱۰/۲۴	ردیف
۳/۵		<p>۱. فصل اول</p> <p>الف. مریخ از سیاره های بیرونی منظومه خورشیدی هست؟ صحیح غلط</p> <p>ب. فاصله هر مکان با مدار استوا بر حسب درجه.....است</p> <p>ج. بر حسب مختصات جغرافیایی ۱۵ W گزینه صحیح را انتخاب کنید؟</p> <p>۱. طول جغرافیایی (غربی)</p> <p>۲. عرض جغرافیایی (جنوبی)</p> <p>۳. طول جغرافیایی (شرقی)</p> <p>۴. عرض جغرافیایی (شمالی)</p> <p>د. انقلاب زمستانی را توضیح دهید؟</p> <p>و. دلایل پیدایش فصل های مختلف را توضیح دهید؟</p>	۱
۳/۵		<p>فصل دوم</p> <p>الف. گاز های کره زمین شامل کدام از ارکان چهره زمین هست؟</p> <p>۱. بیوسفر</p> <p>۲. لیتوسفر</p> <p>۳. هیدروسفر</p> <p>۴. اتمسفر</p> <p>ب. دره های گرینلند V «شکل هست؟ صحیح. غلط.</p> <p>ج. مهم ترین مناطق صید ماهی جهان.....است.</p> <p>د. بیشتر تغییرات آب و هوا در کدام لایه از جو اتفاق می افتد؟</p> <p>و. سه منطقه مهم آب و هوای در نتیجه زوایه نامساوی خورشید را نام ببرید؟</p>	۲
۳/۵		<p>فصل سوم</p> <p>الف. عناصر.....و.....از مهمترین عناصر آب و هوا بر نوع و میزان پوشش گیاهی هست.</p> <p>ب. ساوان بین کدام زیست بوم ها قرار دارد؟</p> <p>ج. راهکارهای مهم در استفاده صحیح از جنگل های استوایی را نام ببرید؟</p> <p>د. این زیست بوم از نظر تنوع جانوری غنی هست و در طول سال هوا گرم هست؟</p>	۳




بارم	نام و نام خانوادگی: رضا هادیان پور علی کلاس: ۹-۵ شماره صندلی: ۱۵۷	امتحان درس مطالعات اجتماعی پایه نهم مدرسه هیئت امنایی فرهنگیان متوسطه اول وقت ۶۰ دقیقه تاریخ امتحان ۱۴۰۱/۱۰/۲۴	ردیف
۳/۵		<p>۱. فصل اول</p> <p>الف. مریخ از سیاره های بیرونی منظومه خورشیدی هست؟ صحیح غلط</p> <p>ب. فاصله هر مکان با مدار استوا بر حسب درجه.....است</p> <p>ج. بر حسب مختصات جغرافیایی ۱۵ W گزینه صحیح را انتخاب کنید؟</p> <p>۱. طول جغرافیایی (غربی)</p> <p>۲. عرض جغرافیایی (جنوبی)</p> <p>۳. طول جغرافیایی (شرقی)</p> <p>۴. عرض جغرافیایی (شمالی)</p> <p>د. انقلاب زمستانی را توضیح دهید؟</p> <p>و. دلایل پیدایش فصل های مختلف را توضیح دهید؟</p>	۱
۳/۵		<p>فصل دوم</p> <p>الف. گاز های کره زمین شامل کدام از ارکان چهره زمین هست؟</p> <p>۱. بیوسفر</p> <p>۲. لیتوسفر</p> <p>۳. هیدروسفر</p> <p>۴. اتمسفر</p> <p>ب. دره های گرینلند V «شکل هست؟ صحیح. غلط.</p> <p>ج. مهم ترین مناطق صید ماهی جهان.....است.</p> <p>د. بیشتر تغییرات آب و هوا در کدام لایه از جو اتفاق می افتد؟</p> <p>و. سه منطقه مهم آب و هوای در نتیجه زوایه نامساوی خورشید را نام ببرید؟</p>	۲
۳/۵		<p>فصل سوم</p> <p>الف. عناصر.....و.....از مهمترین عناصر آب و هوا بر نوع و میزان پوشش گیاهی هست.</p> <p>ب. ساوان بین کدام زیست بوم ها قرار دارد؟</p> <p>ج. راهکارهای مهم در استفاده صحیح از جنگل های استوایی را نام ببرید؟</p> <p>د. این زیست بوم از نظر تنوع جانوری غنی هست و در طول سال هوا گرم هست؟</p>	۳



بارم	نام و نام خانوادگی: امیرعلی هادیان مهربان کلاس: ۹--۵ شماره صندلی: ۱۵۸	امتحان درس مطالعات اجتماعی پایه نهم مدرسه هیئت امنایی فرهنگیان متوسطه اول وقت ۶۰ دقیقه تاریخ امتحان ۱۴۰۱/۱۰/۲۴	ردیف
۳/۵		<p>۱. فصل اول</p> <p>الف. مریخ از سیاره های بیرونی منظومه خورشیدی هست؟ صحیح غلط</p> <p>ب. فاصله هر مکان با مدار استوا بر حسب درجه.....است</p> <p>ج. بر حسب مختصات جغرافیایی ۱۵ W گزیننه صحیح را انتخاب کنید؟</p> <p>۱. طول جغرافیایی (غربی)</p> <p>۲. عرض جغرافیایی (جنوبی)</p> <p>۳. طول جغرافیایی (شرقی)</p> <p>۴. عرض جغرافیایی (شمالی)</p> <p>د. انقلاب زمستانی را توضیح دهید؟</p> <p>و. دلایل پیدایش فصل های مختلف را توضیح دهید؟</p>	۱
۳/۵		<p>فصل دوم</p> <p>الف. گاز های کره زمین شامل کدام از ارکان چهره زمین هست؟</p> <p>۱. بیوسفر</p> <p>۲. لیتوسفر</p> <p>۳. هیدروسفر</p> <p>۴. اتمسفر</p> <p>ب. دره های گرینلند V «شکل هست؟ صحیح. غلط.</p> <p>ج. مهم ترین مناطق صید ماهی جهان.....است.</p> <p>د. بیشتر تغییرات آب و هوا در کدام لایه از جو اتفاق می افتد؟</p> <p>و. سه منطقه مهم آب و هوای در نتیجه زوایه نامساوی خورشید را نام ببرید؟</p>	۲
۳/۵		<p>فصل سوم</p> <p>الف. عناصر.....و.....از مهمترین عناصر آب و هوا بر نوع و میزان پوشش گیاهی هست.</p> <p>ب. ساوان بین کدام زیست بوم ها قرار دارد؟</p> <p>ج. راهکارهای مهم در استفاده صحیح از جنگل های استوایی را نام ببرید؟</p> <p>د. این زیست بوم از نظر تنوع جانوری غنی هست و در طول سال هوا گرم هست؟</p>	۳



بارم	نام و نام خانوادگی: کامبیز یزدانپناه کلاس: ۹-۵ شماره صندلی: ۱۵۹	امتحان درس مطالعات اجتماعی پایه نهم مدرسه هیئت امنایی فرهنگیان متوسطه اول وقت ۶۰ دقیقه تاریخ امتحان ۱۴۰۱/۱۰/۲۴	ردیف
۳/۵		<p>۱. فصل اول</p> <p>الف. مریخ از سیاره های بیرونی منظومه خورشیدی هست؟ صحیح غلط</p> <p>ب. فاصله هر مکان با مدار استوا بر حسب درجه.....است</p> <p>ج. بر حسب مختصات جغرافیایی ۱۵ W گزینه صحیح را انتخاب کنید؟</p> <p>۱. طول جغرافیایی (غربی)</p> <p>۲. عرض جغرافیایی (جنوبی)</p> <p>۳. طول جغرافیایی (شرقی)</p> <p>۴. عرض جغرافیایی (شمالی)</p> <p>د. انقلاب زمستانی را توضیح دهید؟</p> <p>و. دلایل پیدایش فصل های مختلف را توضیح دهید؟</p>	۱
۳/۵		<p>فصل دوم</p> <p>الف. گاز های کره زمین شامل کدام از ارکان چهره زمین هست؟</p> <p>۱. بیوسفر</p> <p>۲. لیتوسفر</p> <p>۳. هیدروسفر</p> <p>۴. اتمسفر</p> <p>ب. دره های گرینلند V «شکل هست؟ صحیح. غلط.</p> <p>ج. مهم ترین مناطق صید ماهی جهان.....است.</p> <p>د. بیشتر تغییرات آب و هوا در کدام لایه از جو اتفاق می افتد؟</p> <p>و. سه منطقه مهم آب و هوای در نتیجه زوایه نامساوی خورشید را نام ببرید؟</p>	۲
۳/۵		<p>فصل سوم</p> <p>الف. عناصر.....و.....از مهمترین عناصر آب و هوا بر نوع و میزان پوشش گیاهی هست.</p> <p>ب. ساوان بین کدام زیست بوم ها قرار دارد؟</p> <p>ج. راهکارهای مهم در استفاده صحیح از جنگل های استوایی را نام ببرید؟</p> <p>د. این زیست بوم از نظر تنوع جانوری غنی هست و در طول سال هوا گرم هست؟</p>	۳



بارم	نام و نام خانوادگی: امید یوسفی کلاس: ۹--۵ شماره صندلی: ۱۶۰	امتحان درس مطالعات اجتماعی پایه نهم مدرسه هیئت امنایی فرهنگیان متوسطه اول وقت ۶۰ دقیقه تاریخ امتحان ۱۴۰۱/۱۰/۲۴	ردیف
۳/۵		<p>۱. فصل اول</p> <p>الف. مریخ از سیاره های بیرونی منظومه خورشیدی هست؟ صحیح غلط</p> <p>ب. فاصله هر مکان با مدار استوا بر حسب درجه.....است</p> <p>ج. بر حسب مختصات جغرافیایی ۱۵ W گزینه صحیح را انتخاب کنید؟</p> <p>۱. طول جغرافیایی (غربی)</p> <p>۲. عرض جغرافیایی (جنوبی)</p> <p>۳. طول جغرافیایی (شرقی)</p> <p>۴. عرض جغرافیایی (شمالی)</p> <p>د. انقلاب زمستانی را توضیح دهید؟</p> <p>و. دلایل پیدایش فصل های مختلف را توضیح دهید؟</p>	۱
۳/۵		<p>فصل دوم</p> <p>الف. گاز های کره زمین شامل کدام از ارکان چهره زمین هست؟</p> <p>۱. بیوسفر</p> <p>۲. لیتوسفر</p> <p>۳. هیدروسفر</p> <p>۴. اتمسفر</p> <p>ب. دره های گرینلند V «شکل هست؟ صحیح. غلط.</p> <p>ج. مهم ترین مناطق صید ماهی جهان.....است.</p> <p>د. بیشتر تغییرات آب و هوا در کدام لایه از جو اتفاق می افتد؟</p> <p>و. سه منطقه مهم آب و هوای در نتیجه زوایه نامساوی خورشید را نام ببرید؟</p>	۲
۳/۵		<p>فصل سوم</p> <p>الف. عناصر.....و.....از مهمترین عناصر آب و هوا بر نوع و میزان پوشش گیاهی هست.</p> <p>ب. ساوان بین کدام زیست بوم ها قرار دارد؟</p> <p>ج. راهکارهای مهم در استفاده صحیح از جنگل های استوایی را نام ببرید؟</p> <p>د. این زیست بوم از نظر تنوع جانوری غنی هست و در طول سال هوا گرم هست؟</p>	۳

